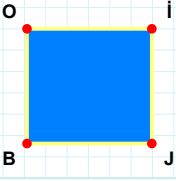


**SORU:** Aşağıdaki şekillerde verilen kenarlardan şekle ait olmayanı bulunuz.

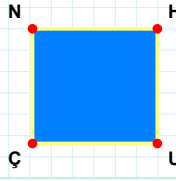


Şekle ait olmayan kenar/kenarları işaretleyelim.

☐ BO kenarı

☐ JB kenarı

☐ OJ kenarı

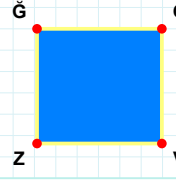


Şekle ait olmayan kenar/kenarları işaretleyelim.

☐ UÇ kenarı

☐ HÇ kenarı

☐ NU kenarı

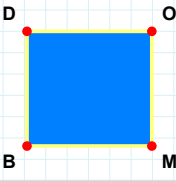


Şekle ait olmayan kenar/kenarları işaretleyelim.

☐ CZ kenarı

☐ ĞC kenarı

☐ ĞV kenarı

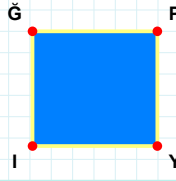


Şekle ait olmayan kenar/kenarları işaretleyelim.

☐ OM kenarı

☐ OB kenarı

☐ DM kenarı

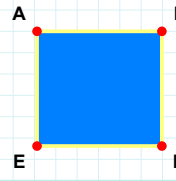


Şekle ait olmayan kenar/kenarları işaretleyelim.

☐ ĞY kenarı

☐ ĞP kenarı

☐ Yİ kenarı

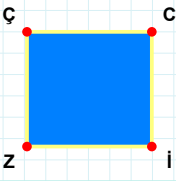


Şekle ait olmayan kenar/kenarları işaretleyelim.

☐ EA kenarı

☐ FE kenarı

☐ FN kenarı

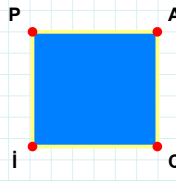


Şekle ait olmayan kenar/kenarları işaretleyelim.

☐ CZ kenarı

☐ ZÇ kenarı

☐ Çİ kenarı

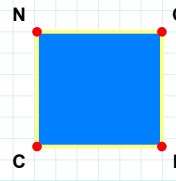


Şekle ait olmayan kenar/kenarları işaretleyelim.

☐ PC kenarı

☐ CI kenarı

☐ PA kenarı

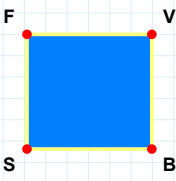


Şekle ait olmayan kenar/kenarları işaretleyelim.

☐ ĞC kenarı

☐ NR kenarı

☐ RC kenarı

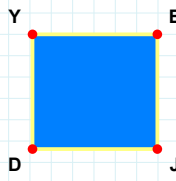


Şekle ait olmayan kenar/kenarları işaretleyelim.

☐ FB kenarı

☐ SF kenarı

☐ VS kenarı

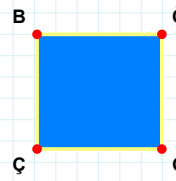


Şekle ait olmayan kenar/kenarları işaretleyelim.

☐ ED kenarı

☐ DY kenarı

☐ JD kenarı



Şekle ait olmayan kenar/kenarları işaretleyelim.

☐ BĞ kenarı

☐ ÖÇ kenarı

☐ BÖ kenarı

**SORU:** Aşağıdaki şekillerde verilen kenarlardan şekle ait olmayanı bulunuz.

Şekle ait olmayan kenar/kenarları işaretleyelim.

- ☐ ZR kenarı
- ☐ FZ kenarı
- ☐ FR kenarı

Şekle ait olmayan kenar/kenarları işaretleyelim.

- ☐ SM kenarı
- ☐ MV kenarı
- ☐ GV kenarı

Şekle ait olmayan kenar/kenarları işaretleyelim.

- ☐ HN kenarı
- ☐ VÜ kenarı
- ☐ NÜ kenarı

Şekle ait olmayan kenar/kenarları işaretleyelim.

- ☐ NU kenarı
- ☐ BŞ kenarı
- ☐ NB kenarı

Şekle ait olmayan kenar/kenarları işaretleyelim.

- ☐ Zİ kenarı
- ☐ EO kenarı
- ☐ İE kenarı

Şekle ait olmayan kenar/kenarları işaretleyelim.

- ☐ JC kenarı
- ☐ KJ kenarı
- ☐ OJ kenarı

Şekle ait olmayan kenar/kenarları işaretleyelim.

- ☐ EZ kenarı
- ☐ EJ kenarı
- ☐ ZG kenarı

Şekle ait olmayan kenar/kenarları işaretleyelim.

- ☐ ÜO kenarı
- ☐ Lİ kenarı
- ☐ ÜL kenarı

Şekle ait olmayan kenar/kenarları işaretleyelim.

- ☐ GZ kenarı
- ☐ İG kenarı
- ☐ GB kenarı

Şekle ait olmayan kenar/kenarları işaretleyelim.

- ☐ KR kenarı
- ☐ RB kenarı
- ☐ CR kenarı

Şekle ait olmayan kenar/kenarları işaretleyelim.

- ☐ HY kenarı
- ☐ İS kenarı
- ☐ İY kenarı

Şekle ait olmayan kenar/kenarları işaretleyelim.

- ☐ PM kenarı
- ☐ ŞP kenarı
- ☐ ŞF kenarı

SÜREÇ ODAKLI DEĞERLENDİRME ÖLÇEĞİ

Doğru Sayısı: ..... / 24

Öğretmen ilgili kutucuğu işaretler.

Geliştirilmeli (0-8)

İyi (9-14)

Çok İyi (15-20)

Mükemmel (21-24)

☐☐☐☐

Hazırlayan: .....

**Bu bölüme sınıfınızın ilgili kazanıma yönelik genel durumuna ilişkin gözlem ve izlenimlerinizi, öğrencilerinizin bu kazanımla ilgili öğrenme eksikliklerini ve bu eksikliklerin giderilmesi amacıyla yaptığınız/yapmayı planladığınız faaliyetleri not edebilirsiniz.**

No	Adı - Soyadı	Toplam Puan	Değerlendirme
1			
2			
3			
4			
5			
6			
7			
8			
9			
10			
11			
12			
13			
14			
15			
16			
17			
18			
19			
20			
21			
22			
23			
24			
25			
26			
27			
28			
29			
30			
31			
32			
33			
34			
35			

**Hazırlayan:** ..... ..