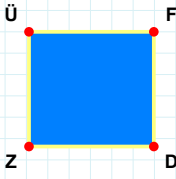
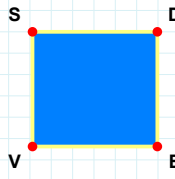


SORU: Aşağıdaki şekillerde verilen kenarlardan şekle ait olmayanı bulunuz.



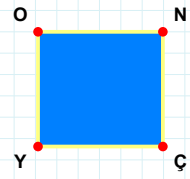
Şekle ait olmayan kenar/kenarları işaretleyelim.

- ☐ FD kenarı
☐ DZ kenarı
☐ FZ kenarı



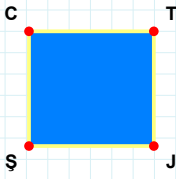
Şekle ait olmayan kenar/kenarları işaretleyelim.

- ☐ DE kenarı
☐ SE kenarı
☐ SD kenarı



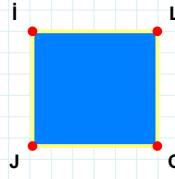
Şekle ait olmayan kenar/kenarları işaretleyelim.

- ☐ YO kenarı
☐ OÇ kenarı
☐ NÇ kenarı



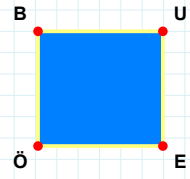
Şekle ait olmayan kenar/kenarları işaretleyelim.

- ☐ TJ kenarı
☐ TŞ kenarı
☐ ŞC kenarı



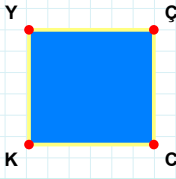
Şekle ait olmayan kenar/kenarları işaretleyelim.

- ☐ İG kenarı
☐ İL kenarı
☐ LJ kenarı



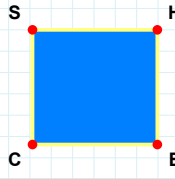
Şekle ait olmayan kenar/kenarları işaretleyelim.

- ☐ EÖ kenarı
☐ UÖ kenarı
☐ BE kenarı



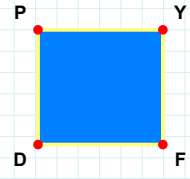
Şekle ait olmayan kenar/kenarları işaretleyelim.

- ☐ ÇK kenarı
☐ CK kenarı
☐ YC kenarı



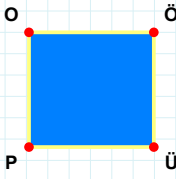
Şekle ait olmayan kenar/kenarları işaretleyelim.

- ☐ EC kenarı
☐ SH kenarı
☐ HC kenarı



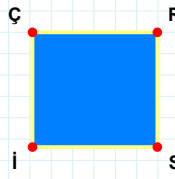
Şekle ait olmayan kenar/kenarları işaretleyelim.

- ☐ PF kenarı
☐ YD kenarı
☐ PY kenarı



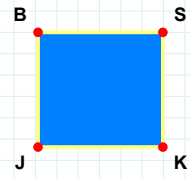
Şekle ait olmayan kenar/kenarları işaretleyelim.

- ☐ ÜP kenarı
☐ PO kenarı
☐ ÖP kenarı



Şekle ait olmayan kenar/kenarları işaretleyelim.

- ☐ Rİ kenarı
☐ ÇR kenarı
☐ ÇS kenarı



Şekle ait olmayan kenar/kenarları işaretleyelim.

- ☐ KJ kenarı
☐ SJ kenarı
☐ SK kenarı

SORU: Aşağıdaki şekillerde verilen kenarlardan şekle ait olmayanı bulunuz.

Şekle ait olmayan kenar/kenarları işaretleyelim.

☐ VA kenarı

☐ FV kenarı

☐ FA kenarı

Şekle ait olmayan kenar/kenarları işaretleyelim.

☐ VŞ kenarı

☐ ŞZ kenarı

☐ RZ kenarı

Şekle ait olmayan kenar/kenarları işaretleyelim.

☐ LJ kenarı

☐ KL kenarı

☐ JK kenarı

Şekle ait olmayan kenar/kenarları işaretleyelim.

☐ ĞG kenarı

☐ GE kenarı

☐ ĞU kenarı

Şekle ait olmayan kenar/kenarları işaretleyelim.

☐ UZ kenarı

☐ UV kenarı

☐ CZ kenarı

Şekle ait olmayan kenar/kenarları işaretleyelim.

☐ VT kenarı

☐ ZV kenarı

☐ VÜ kenarı

Şekle ait olmayan kenar/kenarları işaretleyelim.

☐ ÇV kenarı

☐ VK kenarı

☐ KO kenarı

Şekle ait olmayan kenar/kenarları işaretleyelim.

☐ OŞ kenarı

☐ ŞK kenarı

☐ LŞ kenarı

Şekle ait olmayan kenar/kenarları işaretleyelim.

☐ VT kenarı

☐ KV kenarı

☐ RV kenarı

Şekle ait olmayan kenar/kenarları işaretleyelim.

☐ FJ kenarı

☐ ÇJ kenarı

☐ CF kenarı

Şekle ait olmayan kenar/kenarları işaretleyelim.

☐ UM kenarı

☐ MF kenarı

☐ UB kenarı

Şekle ait olmayan kenar/kenarları işaretleyelim.

☐ MB kenarı

☐ IM kenarı

☐ HI kenarı

SÜREÇ ODAKLI DEĞERLENDİRME ÖLÇEĞİ

Doğru Sayısı: / 24

Öğretmen ilgili kutucuğu işaretler.

Geliştirilmeli (0-8)

İyi (9-14)

Çok İyi (15-20)

Mükemmel (21-24)

☐☐☐☐

Hazırlayan:

Bu bölüme sınıfınızın ilgili kazanıma yönelik genel durumuna ilişkin gözlem ve izlenimlerinizi, öğrencilerinizin bu kazanımla ilgili öğrenme eksikliklerini ve bu eksikliklerin giderilmesi amacıyla yaptığınız/yapmayı planladığınız faaliyetleri not edebilirsiniz.

No	Adı - Soyadı	Toplam Puan	Değerlendirme
1			
2			
3			
4			
5			
6			
7			
8			
9			
10			
11			
12			
13			
14			
15			
16			
17			
18			
19			
20			
21			
22			
23			
24			
25			
26			
27			
28			
29			
30			
31			
32			
33			
34			
35			

Hazırlayan: