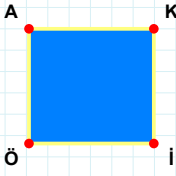
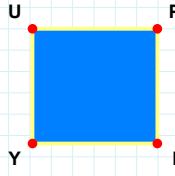


SORU: Aşağıdaki şekillerde verilen kenarlardan şekle ait olmayanı bulunuz.



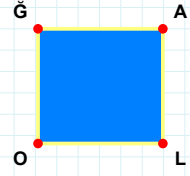
Şekle ait olmayan kenar/kenarları işaretleyelim.

- ☐ ÖA kenarı
☐ KÖ kenarı
☐ KI kenarı



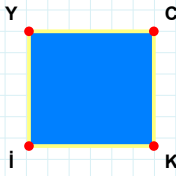
Şekle ait olmayan kenar/kenarları işaretleyelim.

- ☐ UP kenarı
☐ YU kenarı
☐ PY kenarı



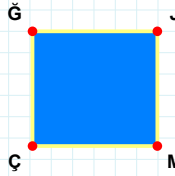
Şekle ait olmayan kenar/kenarları işaretleyelim.

- ☐ AO kenarı
☐ ĞL kenarı
☐ LO kenarı



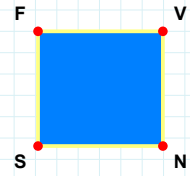
Şekle ait olmayan kenar/kenarları işaretleyelim.

- ☐ KI kenarı
☐ YC kenarı
☐ YK kenarı



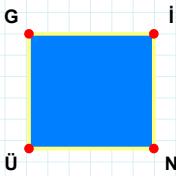
Şekle ait olmayan kenar/kenarları işaretleyelim.

- ☐ JÇ kenarı
☐ ĞJ kenarı
☐ ĞM kenarı



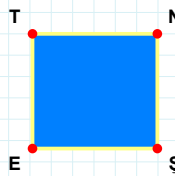
Şekle ait olmayan kenar/kenarları işaretleyelim.

- ☐ FN kenarı
☐ VS kenarı
☐ SF kenarı



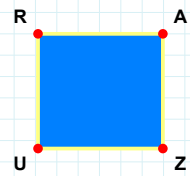
Şekle ait olmayan kenar/kenarları işaretleyelim.

- ☐ NÜ kenarı
☐ GN kenarı
☐ İÜ kenarı



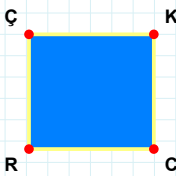
Şekle ait olmayan kenar/kenarları işaretleyelim.

- ☐ ŞE kenarı
☐ ET kenarı
☐ NE kenarı



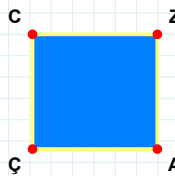
Şekle ait olmayan kenar/kenarları işaretleyelim.

- ☐ AZ kenarı
☐ RZ kenarı
☐ RA kenarı



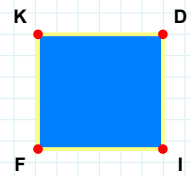
Şekle ait olmayan kenar/kenarları işaretleyelim.

- ☐ ÇC kenarı
☐ RÇ kenarı
☐ KR kenarı



Şekle ait olmayan kenar/kenarları işaretleyelim.

- ☐ ZÇ kenarı
☐ CZ kenarı
☐ ZA kenarı



Şekle ait olmayan kenar/kenarları işaretleyelim.

- ☐ FK kenarı
☐ IF kenarı
☐ DF kenarı

SORU: Aşağıdaki şekillerde verilen kenarlardan şekle ait olmayanı bulunuz.

Şekle ait olmayan kenar/kenarları işaretleyelim.

☐ DH kenarı
☐ DŞ kenarı
☐ HP kenarı

Şekle ait olmayan kenar/kenarları işaretleyelim.

☐ KD kenarı
☐ ĞK kenarı
☐ DĞ kenarı

Şekle ait olmayan kenar/kenarları işaretleyelim.

☐ FÜ kenarı
☐ SB kenarı
☐ BÜ kenarı

Şekle ait olmayan kenar/kenarları işaretleyelim.

☐ ÜG kenarı
☐ HG kenarı
☐ İÜ kenarı

Şekle ait olmayan kenar/kenarları işaretleyelim.

☐ OB kenarı
☐ OY kenarı
☐ YS kenarı

Şekle ait olmayan kenar/kenarları işaretleyelim.

☐ DT kenarı
☐ ZT kenarı
☐ TU kenarı

Şekle ait olmayan kenar/kenarları işaretleyelim.

☐ SD kenarı
☐ SI kenarı
☐ DI kenarı

Şekle ait olmayan kenar/kenarları işaretleyelim.

☐ Ğİ kenarı
☐ ÜB kenarı
☐ ÜĞ kenarı

Şekle ait olmayan kenar/kenarları işaretleyelim.

☐ HZ kenarı
☐ İT kenarı
☐ HI kenarı

Şekle ait olmayan kenar/kenarları işaretleyelim.

☐ SG kenarı
☐ BĞ kenarı
☐ GĞ kenarı

Şekle ait olmayan kenar/kenarları işaretleyelim.

☐ ÜA kenarı
☐ TÖ kenarı
☐ AT kenarı

Şekle ait olmayan kenar/kenarları işaretleyelim.

☐ BG kenarı
☐ BV kenarı
☐ ÜG kenarı

SÜREÇ ODAKLI DEĞERLENDİRME ÖLÇEĞİ

Doğru Sayısı: / 24

Öğretmen ilgili kutucuğu işaretler.

Geliştirilmeli (0-8)

İyi (9-14)

Çok İyi (15-20)

Mükemmel (21-24)

☐
☐
☐
☐

Hazırlayan:

Bu bölüme sınıfınızın ilgili kazanıma yönelik genel durumuna ilişkin gözlem ve izlenimlerinizi, öğrencilerinizin bu kazanımla ilgili öğrenme eksikliklerini ve bu eksikliklerin giderilmesi amacıyla yaptığınız/yapmayı planladığınız faaliyetleri not edebilirsiniz.

No	Adı - Soyadı	Toplam Puan	Değerlendirme
1			
2			
3			
4			
5			
6			
7			
8			
9			
10			
11			
12			
13			
14			
15			
16			
17			
18			
19			
20			
21			
22			
23			
24			
25			
26			
27			
28			
29			
30			
31			
32			
33			
34			
35			

Hazırlayan: