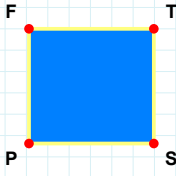
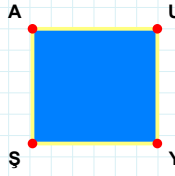


SORU: Aşağıdaki şekillerde verilen kenarlardan şekle ait olmayanı bulunuz.



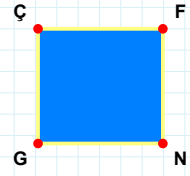
Şekle ait olmayan kenar/kenarları işaretleyelim.

- ☐ FS kenarı
☐ SP kenarı
☐ TP kenarı



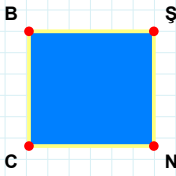
Şekle ait olmayan kenar/kenarları işaretleyelim.

- ☐ UY kenarı
☐ AU kenarı
☐ UŞ kenarı



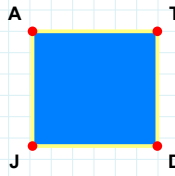
Şekle ait olmayan kenar/kenarları işaretleyelim.

- ☐ FG kenarı
☐ ÇN kenarı
☐ FN kenarı



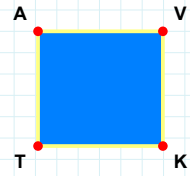
Şekle ait olmayan kenar/kenarları işaretleyelim.

- ☐ CB kenarı
☐ ŞC kenarı
☐ BN kenarı



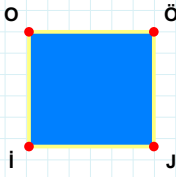
Şekle ait olmayan kenar/kenarları işaretleyelim.

- ☐ JA kenarı
☐ AD kenarı
☐ AT kenarı



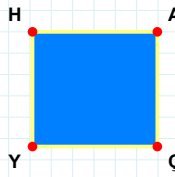
Şekle ait olmayan kenar/kenarları işaretleyelim.

- ☐ TA kenarı
☐ VK kenarı
☐ AK kenarı



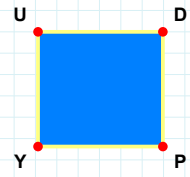
Şekle ait olmayan kenar/kenarları işaretleyelim.

- ☐ OJ kenarı
☐ OÖ kenarı
☐ Öİ kenarı



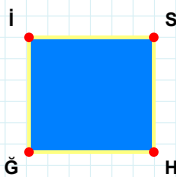
Şekle ait olmayan kenar/kenarları işaretleyelim.

- ☐ AY kenarı
☐ AÇ kenarı
☐ HA kenarı



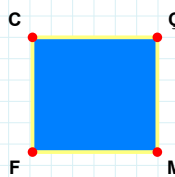
Şekle ait olmayan kenar/kenarları işaretleyelim.

- ☐ PY kenarı
☐ UP kenarı
☐ UD kenarı



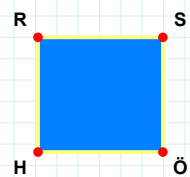
Şekle ait olmayan kenar/kenarları işaretleyelim.

- ☐ HĞ kenarı
☐ İH kenarı
☐ Ğİ kenarı



Şekle ait olmayan kenar/kenarları işaretleyelim.

- ☐ ÇF kenarı
☐ ÇM kenarı
☐ CÇ kenarı



Şekle ait olmayan kenar/kenarları işaretleyelim.

- ☐ HR kenarı
☐ SH kenarı
☐ RS kenarı

SORU: Aşağıdaki şekillerde verilen kenarlardan şekle ait olmayanı bulunuz.

Şekle ait olmayan kenar/kenarları işaretleyelim.

☐ YJ kenarı
☐ JI kenarı
☐ İŞ kenarı

Şekle ait olmayan kenar/kenarları işaretleyelim.

☐ ĞÇ kenarı
☐ İB kenarı
☐ İĞ kenarı

Şekle ait olmayan kenar/kenarları işaretleyelim.

☐ RĞ kenarı
☐ ER kenarı
☐ ĞE kenarı

Şekle ait olmayan kenar/kenarları işaretleyelim.

☐ PD kenarı
☐ DF kenarı
☐ RP kenarı

Şekle ait olmayan kenar/kenarları işaretleyelim.

☐ NC kenarı
☐ PG kenarı
☐ PN kenarı

Şekle ait olmayan kenar/kenarları işaretleyelim.

☐ ÇZ kenarı
☐ UZ kenarı
☐ NÇ kenarı

Şekle ait olmayan kenar/kenarları işaretleyelim.

☐ LV kenarı
☐ NL kenarı
☐ Lİ kenarı

Şekle ait olmayan kenar/kenarları işaretleyelim.

☐ JT kenarı
☐ ÇT kenarı
☐ İJ kenarı

Şekle ait olmayan kenar/kenarları işaretleyelim.

☐ BH kenarı
☐ ĞH kenarı
☐ HD kenarı

Şekle ait olmayan kenar/kenarları işaretleyelim.

☐ ĞJ kenarı
☐ EJ kenarı
☐ ĞK kenarı

Şekle ait olmayan kenar/kenarları işaretleyelim.

☐ LF kenarı
☐ OL kenarı
☐ SF kenarı

Şekle ait olmayan kenar/kenarları işaretleyelim.

☐ LC kenarı
☐ CZ kenarı
☐ LÖ kenarı

SÜREÇ ODAKLI DEĞERLENDİRME ÖLÇEĞİ

Doğru Sayısı: / 24

Öğretmen ilgili kutucuğu işaretler.

Geliştirilmeli (0-8)

İyi (9-14)

Çok İyi (15-20)

Mükemmel (21-24)



Hazırlayan:

Bu bölüme sınıfınızın ilgili kazanıma yönelik genel durumuna ilişkin gözlem ve izlenimlerinizi, öğrencilerinizin bu kazanımla ilgili öğrenme eksikliklerini ve bu eksikliklerin giderilmesi amacıyla yaptığınız/yapmayı planladığınız faaliyetleri not edebilirsiniz.

No	Adı - Soyadı	Toplam Puan	Değerlendirme
1			
2			
3			
4			
5			
6			
7			
8			
9			
10			
11			
12			
13			
14			
15			
16			
17			
18			
19			
20			
21			
22			
23			
24			
25			
26			
27			
28			
29			
30			
31			
32			
33			
34			
35			

Hazırlayan: