



**SORU:** Aşağıdaki şekillerde verilen kenarlardan şekle ait olmayanı bulunuz.




Şekle ait olmayan kenar/kenarları işaretleyelim.

- ☐ GD kenarı  
☐ RC kenarı  
☐ CĞ kenarı




Şekle ait olmayan kenar/kenarları işaretleyelim.

- ☐ DŞ kenarı  
☐ LD kenarı  
☐ ŞL kenarı




Şekle ait olmayan kenar/kenarları işaretleyelim.

- ☐ ÇD kenarı  
☐ ÇU kenarı  
☐ UD kenarı



Şekle ait olmayan kenar/kenarları işaretleyelim.

- ☐ ZG kenarı  
☐ CZ kenarı  
☐ GN kenarı



Şekle ait olmayan kenar/kenarları işaretleyelim.

- ☐ ÇH kenarı  
☐ HÜ kenarı  
☐ CH kenarı



Şekle ait olmayan kenar/kenarları işaretleyelim.

- ☐ CO kenarı  
☐ CÖ kenarı  
☐ TO kenarı



Şekle ait olmayan kenar/kenarları işaretleyelim.

- ☐ ÖH kenarı  
☐ CT kenarı  
☐ ÖC kenarı




Şekle ait olmayan kenar/kenarları işaretleyelim.

- ☐ UK kenarı  
☐ KG kenarı  
☐ NG kenarı




Şekle ait olmayan kenar/kenarları işaretleyelim.

- ☐ ĞY kenarı  
☐ IO kenarı  
☐ OY kenarı




Şekle ait olmayan kenar/kenarları işaretleyelim.

- ☐ KG kenarı  
☐ ĞG kenarı  
☐ ĞK kenarı



Şekle ait olmayan kenar/kenarları işaretleyelim.

- ☐ Bİ kenarı  
☐ İF kenarı  
☐ İL kenarı



Şekle ait olmayan kenar/kenarları işaretleyelim.

- ☐ TZ kenarı  
☐ BT kenarı  
☐ ZB kenarı

**SORU:** Aşağıdaki şekillerde verilen kenarlardan şekle ait olmayanı bulunuz.

Şekle ait olmayan kenar/kenarları işaretleyelim.

- ☐ FJ kenarı  
☐ AF kenarı  
☐ TJ kenarı




Şekle ait olmayan kenar/kenarları işaretleyelim.

- ☐ AO kenarı  
☐ ED kenarı  
☐ AD kenarı



Şekle ait olmayan kenar/kenarları işaretleyelim.

- ☐ ÜH kenarı  
☐ OH kenarı  
☐ ÜM kenarı



Şekle ait olmayan kenar/kenarları işaretleyelim.

- ☐ ĞG kenarı  
☐ HĞ kenarı  
☐ TĞ kenarı




Şekle ait olmayan kenar/kenarları işaretleyelim.

- ☐ MZ kenarı  
☐ ZÇ kenarı  
☐ ZÜ kenarı




Şekle ait olmayan kenar/kenarları işaretleyelim.

- ☐ ÖA kenarı  
☐ CÖ kenarı  
☐ VC kenarı




Şekle ait olmayan kenar/kenarları işaretleyelim.

- ☐ FZ kenarı  
☐ LF kenarı  
☐ GZ kenarı




Şekle ait olmayan kenar/kenarları işaretleyelim.

- ☐ OV kenarı  
☐ VR kenarı  
☐ OF kenarı



Şekle ait olmayan kenar/kenarları işaretleyelim.

- ☐ SP kenarı  
☐ PN kenarı  
☐ SÜ kenarı



Şekle ait olmayan kenar/kenarları işaretleyelim.

- ☐ JG kenarı  
☐ HJ kenarı  
☐ GO kenarı



Şekle ait olmayan kenar/kenarları işaretleyelim.

- ☐ ĞP kenarı  
☐ YP kenarı  
☐ ĞÖ kenarı



Şekle ait olmayan kenar/kenarları işaretleyelim.

- ☐ DK kenarı  
☐ GN kenarı  
☐ KG kenarı

## SÜREÇ ODAKLI DEĞERLENDİRME ÖLÇEĞİ

Doğru Sayısı: ..... / 24

Öğretmen ilgili kutucuğu işaretler.

Geliştirilmeli (0-8)

İyi (9-14)

Çok İyi (15-20)

Mükemmel (21-24)



Hazırlayan: .....

**Bu bölüme sınıfınızın ilgili kazanıma yönelik genel durumuna ilişkin gözlem ve izlenimlerinizi, öğrencilerinizin bu kazanımla ilgili öğrenme eksikliklerini ve bu eksikliklerin giderilmesi amacıyla yaptığınız/yapmayı planladığınız faaliyetleri not edebilirsiniz.**

No	Adı - Soyadı	Toplam Puan	Değerlendirme
1			
2			
3			
4			
5			
6			
7			
8			
9			
10			
11			
12			
13			
14			
15			
16			
17			
18			
19			
20			
21			
22			
23			
24			
25			
26			
27			
28			
29			
30			
31			
32			
33			
34			
35			

**Hazırlayan:** ..... ..