


**SORU:** Aşağıdaki şekillerde verilen kenarlardan şekle ait olmayanı bulunuz.



Şekle ait olmayan kenar/kenarları işaretleyelim.

- ☐ AV kenarı  
☐ PA kenarı  
☐ PŞ kenarı




Şekle ait olmayan kenar/kenarları işaretleyelim.

- ☐ DR kenarı  
☐ DM kenarı  
☐ OR kenarı




Şekle ait olmayan kenar/kenarları işaretleyelim.

- ☐ EN kenarı  
☐ EY kenarı  
☐ YÜ kenarı




Şekle ait olmayan kenar/kenarları işaretleyelim.

- ☐ ÇH kenarı  
☐ RÖ kenarı  
☐ HR kenarı




Şekle ait olmayan kenar/kenarları işaretleyelim.

- ☐ EI kenarı  
☐ YB kenarı  
☐ YE kenarı




Şekle ait olmayan kenar/kenarları işaretleyelim.

- ☐ VÖ kenarı  
☐ ÖI kenarı  
☐ NI kenarı




Şekle ait olmayan kenar/kenarları işaretleyelim.

- ☐ ĞO kenarı  
☐ MO kenarı  
☐ ĞK kenarı



Şekle ait olmayan kenar/kenarları işaretleyelim.

- ☐ JÜ kenarı  
☐ IJ kenarı  
☐ YI kenarı




Şekle ait olmayan kenar/kenarları işaretleyelim.

- ☐ ÖP kenarı  
☐ ZD kenarı  
☐ ÖD kenarı




Şekle ait olmayan kenar/kenarları işaretleyelim.

- ☐ DÜ kenarı  
☐ HÜ kenarı  
☐ DV kenarı



Şekle ait olmayan kenar/kenarları işaretleyelim.

- ☐ ÇD kenarı  
☐ ÇY kenarı  
☐ DH kenarı



Şekle ait olmayan kenar/kenarları işaretleyelim.

- ☐ DÇ kenarı  
☐ OÇ kenarı  
☐ ĞD kenarı

**SORU:** Aşağıdaki şekillerde verilen kenarlardan şekle ait olmayanı bulunuz.

Şekle ait olmayan kenar/kenarları işaretleyelim.

☐ ND kenarı

☐ NF kenarı

☐ FD kenarı

Şekle ait olmayan kenar/kenarları işaretleyelim.

☐ FN kenarı

☐ KF kenarı

☐ FS kenarı

Şekle ait olmayan kenar/kenarları işaretleyelim.

☐ ŞU kenarı

☐ UC kenarı

☐ ŞC kenarı

Şekle ait olmayan kenar/kenarları işaretleyelim.

☐ TL kenarı

☐ RL kenarı

☐ TU kenarı

Şekle ait olmayan kenar/kenarları işaretleyelim.

☐ HO kenarı

☐ OG kenarı

☐ ÜO kenarı

Şekle ait olmayan kenar/kenarları işaretleyelim.

☐ PE kenarı

☐ ÇP kenarı

☐ ŞE kenarı

Şekle ait olmayan kenar/kenarları işaretleyelim.

☐ DÇ kenarı

☐ ÜÇ kenarı

☐ DÜ kenarı

Şekle ait olmayan kenar/kenarları işaretleyelim.

☐ GP kenarı

☐ UI kenarı

☐ İP kenarı

Şekle ait olmayan kenar/kenarları işaretleyelim.

☐ ŞY kenarı

☐ VY kenarı

☐ ŞV kenarı

Şekle ait olmayan kenar/kenarları işaretleyelim.

☐ LE kenarı

☐ YZ kenarı

☐ YL kenarı

Şekle ait olmayan kenar/kenarları işaretleyelim.

☐ AB kenarı

☐ AS kenarı

☐ SY kenarı

Şekle ait olmayan kenar/kenarları işaretleyelim.

☐ UV kenarı

☐ DV kenarı

☐ UÇ kenarı

## SÜREÇ ODAKLI DEĞERLENDİRME ÖLÇEĞİ

Doğru Sayısı: ..... / 24

Öğretmen ilgili kutucuğu işaretler.

Geliştirilmeli (0-8)

İyi (9-14)

Çok İyi (15-20)

Mükemmel (21-24)

☐☐☐☐

Hazırlayan: .....

**Bu bölüme sınıfınızın ilgili kazanıma yönelik genel durumuna ilişkin gözlem ve izlenimlerinizi, öğrencilerinizin bu kazanımla ilgili öğrenme eksikliklerini ve bu eksikliklerin giderilmesi amacıyla yaptığınız/yapmayı planladığınız faaliyetleri not edebilirsiniz.**

No	Adı - Soyadı	Toplam Puan	Değerlendirme
1			
2			
3			
4			
5			
6			
7			
8			
9			
10			
11			
12			
13			
14			
15			
16			
17			
18			
19			
20			
21			
22			
23			
24			
25			
26			
27			
28			
29			
30			
31			
32			
33			
34			
35			

**Hazırlayan:** ..... ..