

SORU: Aşağıdaki şekillerde verilen kenarlardan şekle ait olmayanı bulunuz.



Şekle ait olmayan kenar/kenarları işaretleyelim.

- ☐ GP kenarı
☐ SÇ kenarı
☐ SP kenarı



Şekle ait olmayan kenar/kenarları işaretleyelim.

- ☐ EO kenarı
☐ YO kenarı
☐ YĞ kenarı




Şekle ait olmayan kenar/kenarları işaretleyelim.

- ☐ İF kenarı
☐ ŞU kenarı
☐ Şİ kenarı



Şekle ait olmayan kenar/kenarları işaretleyelim.

- ☐ UN kenarı
☐ EU kenarı
☐ NÇ kenarı




Şekle ait olmayan kenar/kenarları işaretleyelim.

- ☐ FB kenarı
☐ FH kenarı
☐ HB kenarı




Şekle ait olmayan kenar/kenarları işaretleyelim.

- ☐ AG kenarı
☐ AR kenarı
☐ RY kenarı




Şekle ait olmayan kenar/kenarları işaretleyelim.

- ☐ ÜS kenarı
☐ KÜ kenarı
☐ ĞK kenarı




Şekle ait olmayan kenar/kenarları işaretleyelim.

- ☐ ĞA kenarı
☐ BĞ kenarı
☐ AB kenarı



Şekle ait olmayan kenar/kenarları işaretleyelim.

- ☐ MÖ kenarı
☐ UÖ kenarı
☐ UM kenarı




Şekle ait olmayan kenar/kenarları işaretleyelim.

- ☐ CR kenarı
☐ GC kenarı
☐ CL kenarı



Şekle ait olmayan kenar/kenarları işaretleyelim.

- ☐ AÖ kenarı
☐ ÖÇ kenarı
☐ ÇA kenarı



Şekle ait olmayan kenar/kenarları işaretleyelim.

- ☐ PT kenarı
☐ TH kenarı
☐ HP kenarı

SORU: Aşağıdaki şekillerde verilen kenarlardan şekle ait olmayanı bulunuz.

Şekle ait olmayan kenar/kenarları işaretleyelim.

☐ Öİ kenarı

☐ ÖV kenarı

☐ EÖ kenarı

Şekle ait olmayan kenar/kenarları işaretleyelim.

☐ İU kenarı

☐ ÇG kenarı

☐ Çİ kenarı

Şekle ait olmayan kenar/kenarları işaretleyelim.

☐ İK kenarı

☐ LI kenarı

☐ İK kenarı

Şekle ait olmayan kenar/kenarları işaretleyelim.

☐ NJ kenarı

☐ VJ kenarı

☐ VN kenarı

Şekle ait olmayan kenar/kenarları işaretleyelim.

☐ ZÖ kenarı

☐ Şİ kenarı

☐ Öİ kenarı

Şekle ait olmayan kenar/kenarları işaretleyelim.

☐ SU kenarı

☐ UT kenarı

☐ UJ kenarı

Şekle ait olmayan kenar/kenarları işaretleyelim.

☐ VI kenarı

☐ İY kenarı

☐ Üİ kenarı

Şekle ait olmayan kenar/kenarları işaretleyelim.

☐ YÇ kenarı

☐ ÇO kenarı

☐ BO kenarı

Şekle ait olmayan kenar/kenarları işaretleyelim.

☐ DE kenarı

☐ EK kenarı

☐ KD kenarı

Şekle ait olmayan kenar/kenarları işaretleyelim.

☐ DO kenarı

☐ DK kenarı

☐ OK kenarı

Şekle ait olmayan kenar/kenarları işaretleyelim.

☐ Dİ kenarı

☐ İG kenarı

☐ İİ kenarı

Şekle ait olmayan kenar/kenarları işaretleyelim.

☐ OS kenarı

☐ MS kenarı

☐ SU kenarı

SÜREÇ ODAKLI DEĞERLENDİRME ÖLÇEĞİ

Doğru Sayısı: / 24

Öğretmen ilgili kutucuğu işaretler.

Geliştirilmeli (0-8)

İyi (9-14)

Çok İyi (15-20)

Mükemmel (21-24)

☐☐☐☐

Hazırlayan:

Bu bölüme sınıfınızın ilgili kazanıma yönelik genel durumuna ilişkin gözlem ve izlenimlerinizi, öğrencilerinizin bu kazanımla ilgili öğrenme eksikliklerini ve bu eksikliklerin giderilmesi amacıyla yaptığınız/yapmayı planladığınız faaliyetleri not edebilirsiniz.

No	Adı - Soyadı	Toplam Puan	Değerlendirme
1			
2			
3			
4			
5			
6			
7			
8			
9			
10			
11			
12			
13			
14			
15			
16			
17			
18			
19			
20			
21			
22			
23			
24			
25			
26			
27			
28			
29			
30			
31			
32			
33			
34			
35			

Hazırlayan: