

SORU: Aşağıdaki şekillerde verilen kenarlardan şekle ait olmayanı bulunuz.



Şekle ait olmayan kenar/kenarları işaretleyelim.

- ☐ MO kenarı
☐ MV kenarı
☐ VO kenarı



Şekle ait olmayan kenar/kenarları işaretleyelim.

- ☐ JL kenarı
☐ UL kenarı
☐ JO kenarı



Şekle ait olmayan kenar/kenarları işaretleyelim.

- ☐ YV kenarı
☐ KV kenarı
☐ YL kenarı




Şekle ait olmayan kenar/kenarları işaretleyelim.

- ☐ ZN kenarı
☐ ÇH kenarı
☐ ÇN kenarı




Şekle ait olmayan kenar/kenarları işaretleyelim.

- ☐ VZ kenarı
☐ SV kenarı
☐ ZĞ kenarı




Şekle ait olmayan kenar/kenarları işaretleyelim.

- ☐ ŞÖ kenarı
☐ ŞE kenarı
☐ ÖM kenarı




Şekle ait olmayan kenar/kenarları işaretleyelim.

- ☐ ĞL kenarı
☐ LE kenarı
☐ ĞD kenarı




Şekle ait olmayan kenar/kenarları işaretleyelim.

- ☐ TJ kenarı
☐ AT kenarı
☐ TG kenarı



Şekle ait olmayan kenar/kenarları işaretleyelim.

- ☐ NU kenarı
☐ OP kenarı
☐ OU kenarı




Şekle ait olmayan kenar/kenarları işaretleyelim.

- ☐ İN kenarı
☐ NV kenarı
☐ Vİ kenarı



Şekle ait olmayan kenar/kenarları işaretleyelim.

- ☐ MT kenarı
☐ TZ kenarı
☐ LZ kenarı



Şekle ait olmayan kenar/kenarları işaretleyelim.

- ☐ LY kenarı
☐ PY kenarı
☐ YK kenarı

SORU: Aşağıdaki şekillerde verilen kenarlardan şekle ait olmayanı bulunuz.

Şekle ait olmayan kenar/kenarları işaretleyelim.

☐ HP kenarı
☐ PE kenarı
☐ HE kenarı

Şekle ait olmayan kenar/kenarları işaretleyelim.

☐ ZD kenarı
☐ IZ kenarı
☐ IV kenarı

Şekle ait olmayan kenar/kenarları işaretleyelim.

☐ TĞ kenarı
☐ ZT kenarı
☐ TF kenarı

Şekle ait olmayan kenar/kenarları işaretleyelim.

☐ VR kenarı
☐ ŞT kenarı
☐ TV kenarı

Şekle ait olmayan kenar/kenarları işaretleyelim.

☐ TŞ kenarı
☐ UT kenarı
☐ ŞU kenarı

Şekle ait olmayan kenar/kenarları işaretleyelim.

☐ MÇ kenarı
☐ YA kenarı
☐ MY kenarı

Şekle ait olmayan kenar/kenarları işaretleyelim.

☐ LA kenarı
☐ KL kenarı
☐ CL kenarı

Şekle ait olmayan kenar/kenarları işaretleyelim.

☐ AO kenarı
☐ LP kenarı
☐ LA kenarı

Şekle ait olmayan kenar/kenarları işaretleyelim.

☐ CM kenarı
☐ MK kenarı
☐ CA kenarı

Şekle ait olmayan kenar/kenarları işaretleyelim.

☐ Üİ kenarı
☐ VÜ kenarı
☐ VF kenarı

Şekle ait olmayan kenar/kenarları işaretleyelim.

☐ KG kenarı
☐ JK kenarı
☐ JU kenarı

Şekle ait olmayan kenar/kenarları işaretleyelim.

☐ DÇ kenarı
☐ KD kenarı
☐ YD kenarı

SÜREÇ ODAKLI DEĞERLENDİRME ÖLÇEĞİ

Doğru Sayısı: / 24

Öğretmen ilgili kutucuğu işaretler.

Geliştirilmeli (0-8)

İyi (9-14)

Çok İyi (15-20)

Mükemmel (21-24)

☐☐☐☐

Hazırlayan:

Bu bölüme sınıfınızın ilgili kazanıma yönelik genel durumuna ilişkin gözlem ve izlenimlerinizi, öğrencilerinizin bu kazanımla ilgili öğrenme eksikliklerini ve bu eksikliklerin giderilmesi amacıyla yaptığınız/yapmayı planladığınız faaliyetleri not edebilirsiniz.

No	Adı - Soyadı	Toplam Puan	Değerlendirme
1			
2			
3			
4			
5			
6			
7			
8			
9			
10			
11			
12			
13			
14			
15			
16			
17			
18			
19			
20			
21			
22			
23			
24			
25			
26			
27			
28			
29			
30			
31			
32			
33			
34			
35			

Hazırlayan: