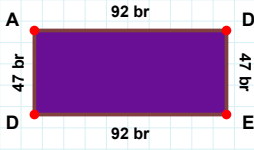
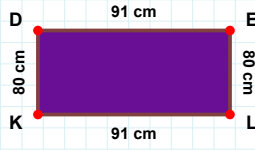


**SORU:** Aşağıdaki şekillerde istenen kenarın kaç birim veya santimetre olduğunu bulunuz.

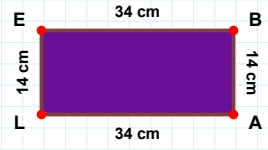
|DE| kaç brdir?

- ☐ 47 br  
☐ 49 br  
☐ 42 br



|EL| kaç cmdir?

- ☐ 90 cm  
☐ 80 cm  
☐ 79 cm



|EB| kaç cmdir?

- ☐ 31 cm  
☐ 34 cm  
☐ 33 cm



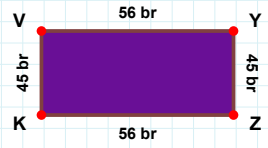
|ZK| kaç brdir?

- ☐ 58 br  
☐ 59 br  
☐ 56 br



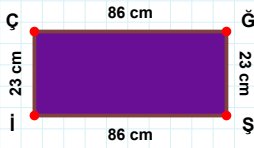
|PM| kaç brdir?

- ☐ 52 br  
☐ 57 br  
☐ 60 br



|RS| kaç brdir?

- ☐ 92 br  
☐ 99 br  
☐ 94 br



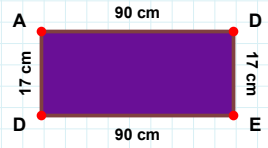
|İF| kaç brdir?

- ☐ 73 br  
☐ 72 br  
☐ 83 br



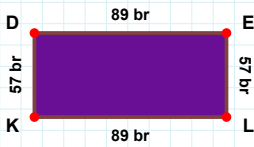
|DE| kaç cmdir?

- ☐ 7 cm  
☐ 20 cm  
☐ 17 cm



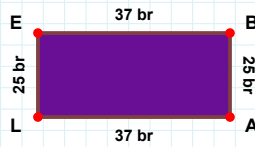
|ĞŞ| kaç cmdir?

- ☐ 26 cm  
☐ 23 cm  
☐ 21 cm



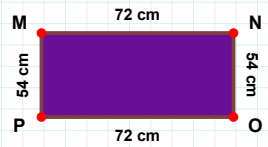
|PM| kaç cmdir?

- ☐ 52 cm  
☐ 54 cm  
☐ 55 cm



|DE| kaç brdir?

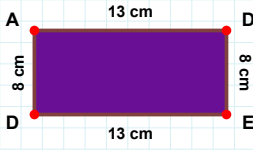
- ☐ 90 br  
☐ 94 br  
☐ 89 br



|AL| kaç brdir?

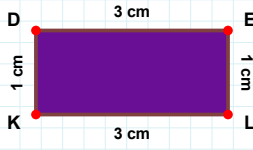
- ☐ 35 br  
☐ 37 br  
☐ 32 br

**SORU:** Aşağıdaki şekillerde istenen kenarın kaç birim veya santimetre olduğunu bulunuz.



|AD| kaç cmdir?

- ☐ 15 cm  
☐ 23 cm  
☐ 13 cm



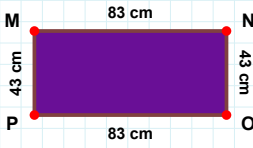
|LE| kaç brdir?

- ☐ 80 br  
☐ 85 br  
☐ 81 br



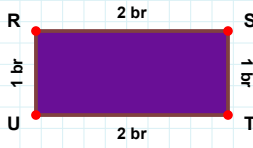
|KD| kaç cmdir?

- ☐ 6 cm  
☐ 3 cm  
☐ 1 cm



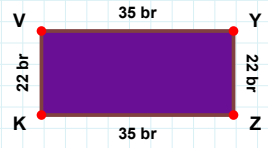
|RS| kaç brdir?

- ☐ 7 br  
☐ 12 br  
☐ 2 br



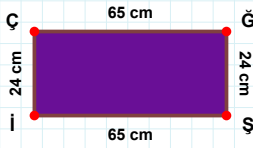
|MN| kaç cmdir?

- ☐ 93 cm  
☐ 83 cm  
☐ 80 cm



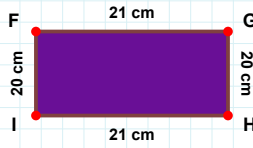
|YZ| kaç brdir?

- ☐ 25 br  
☐ 20 br  
☐ 22 br



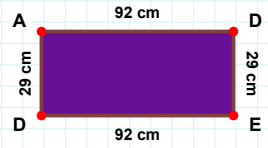
|DE| kaç cmdir?

- ☐ 29 cm  
☐ 27 cm  
☐ 28 cm



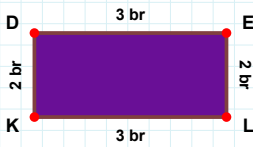
|GŞ| kaç cmdir?

- ☐ 29 cm  
☐ 24 cm  
☐ 14 cm



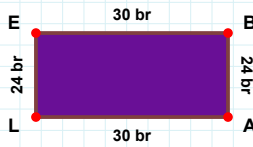
|İF| kaç cmdir?

- ☐ 17 cm  
☐ 20 cm  
☐ 19 cm



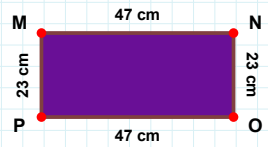
|EL| kaç brdir?

- ☐ 4 br  
☐ 12 br  
☐ 2 br



|AL| kaç brdir?

- ☐ 40 br  
☐ 30 br  
☐ 31 br



|PM| kaç cmdir?

- ☐ 20 cm  
☐ 23 cm  
☐ 25 cm

### SÜREÇ ODAKLI DEĞERLENDİRME ÖLÇEĞİ

Doğru Sayısı: ..... / 24

Öğretmen ilgili kutucuğu işaretler.

Geliştirilmeli (0-8)

İyi (9-14)

Çok İyi (15-20)

Mükemmel (21-24)

☐
☐
☐
☐

Hazırlayan: .....

Bu bölüme sınıfınızın ilgili kazanıma yönelik genel durumuna ilişkin gözlem ve izlenimlerinizi, öğrencilerinizin bu kazanımla ilgili öğrenme eksikliklerini ve bu eksikliklerin giderilmesi amacıyla yaptığınız/yapmayı planladığınız faaliyetleri not edebilirsiniz.

No	Adı - Soyadı	Toplam Puan	Değerlendirme
1			
2			
3			
4			
5			
6			
7			
8			
9			
10			
11			
12			
13			
14			
15			
16			
17			
18			
19			
20			
21			
22			
23			
24			
25			
26			
27			
28			
29			
30			
31			
32			
33			
34			
35			

Hazırlayan: .....