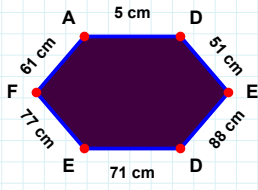
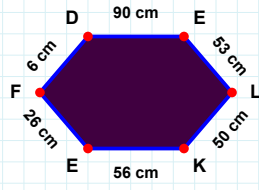


**SORU:** Aşağıdaki şekillerde istenen kenarın kaç birim veya santimetre olduğunu bulunuz.

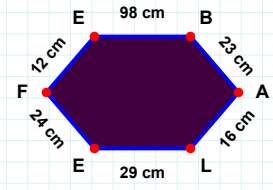
|FD| kaç cmdir?

- ☐ 6 cm  
☐ 7 cm  
☐ 1 cm



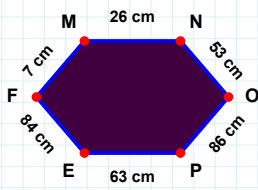
|AD| kaç cmdir?

- ☐ 2 cm  
☐ 3 cm  
☐ 5 cm



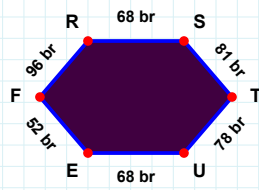
|EB| kaç cmdir?

- ☐ 96 cm  
☐ 95 cm  
☐ 98 cm



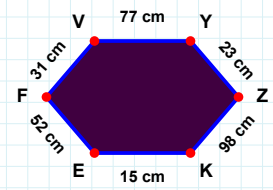
|EF| kaç brdir?

- ☐ 50 br  
☐ 53 br  
☐ 52 br



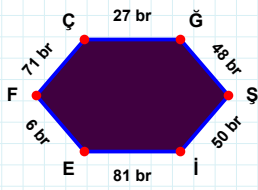
|YZ| kaç cmdir?

- ☐ 18 cm  
☐ 23 cm  
☐ 21 cm



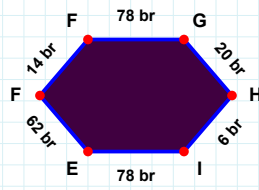
|PE| kaç cmdir?

- ☐ 63 cm  
☐ 65 cm  
☐ 73 cm



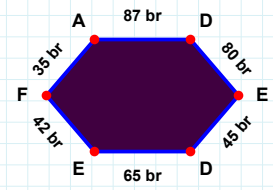
|ÇĞ| kaç brdir?

- ☐ 28 br  
☐ 22 br  
☐ 27 br



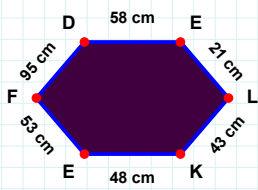
|HI| kaç brdir?

- ☐ 6 br  
☐ 1 br  
☐ 5 br



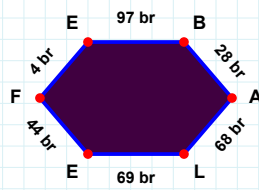
|EF| kaç brdir?

- ☐ 32 br  
☐ 42 br  
☐ 39 br



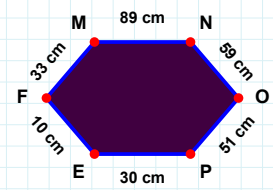
|EF| kaç cmdir?

- ☐ 10 cm  
☐ 15 cm  
☐ 9 cm



|EF| kaç cmdir?

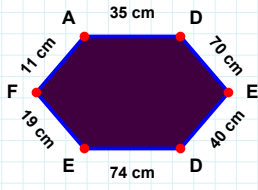
- ☐ 54 cm  
☐ 53 cm  
☐ 55 cm



|AL| kaç brdir?

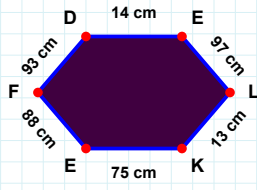
- ☐ 68 br  
☐ 78 br  
☐ 70 br

**SORU:** Aşağıdaki şekillerde istenen kenarın kaç birim veya santimetre olduğunu bulunuz.



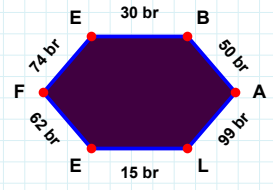
|EF| kaç cmdir?

- ☐ 9 cm  
☐ 19 cm  
☐ 17 cm



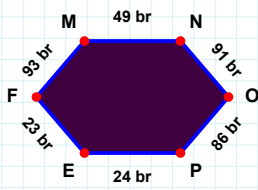
|EF| kaç brdir?

- ☐ 62 br  
☐ 60 br  
☐ 63 br



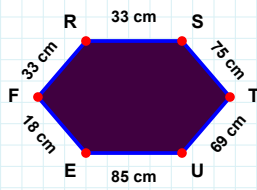
|LK| kaç cmdir?

- ☐ 13 cm  
☐ 12 cm  
☐ 11 cm



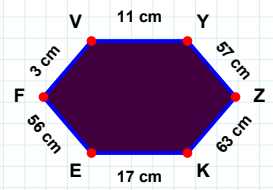
|FM| kaç brdir?

- ☐ 95 br  
☐ 83 br  
☐ 93 br



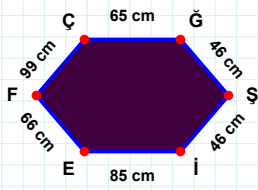
|FV| kaç cmdir?

- ☐ 3 cm  
☐ 4 cm  
☐ 8 cm



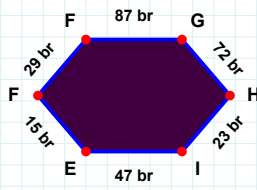
|ST| kaç cmdir?

- ☐ 75 cm  
☐ 74 cm  
☐ 73 cm



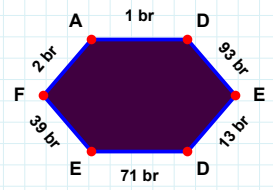
|EF| kaç brdir?

- ☐ 41 br  
☐ 39 br  
☐ 42 br



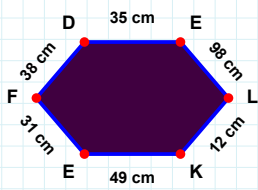
|GH| kaç brdir?

- ☐ 62 br  
☐ 72 br  
☐ 74 br



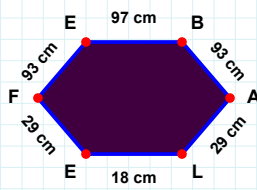
|IE| kaç cmdir?

- ☐ 88 cm  
☐ 90 cm  
☐ 85 cm



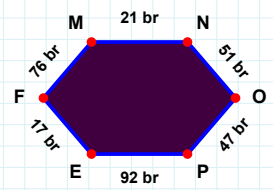
|EF| kaç brdir?

- ☐ 17 br  
☐ 22 br  
☐ 19 br



|DE| kaç cmdir?

- ☐ 38 cm  
☐ 34 cm  
☐ 35 cm



|FE| kaç cmdir?

- ☐ 95 cm  
☐ 93 cm  
☐ 88 cm

### SÜREÇ ODAKLI DEĞERLENDİRME ÖLÇEĞİ

Doğru Sayısı: ..... / 24

Öğretmen ilgili kutucuğu işaretler.

Geliştirilmeli (0-8)

İyi (9-14)

Çok İyi (15-20)

Mükemmel (21-24)

☐
☐
☐
☐

Hazırlayan: .....

Bu bölüme sınıfınızın ilgili kazanıma yönelik genel durumuna ilişkin gözlem ve izlenimlerinizi, öğrencilerinizin bu kazanımla ilgili öğrenme eksikliklerini ve bu eksikliklerin giderilmesi amacıyla yaptığınız/yapmayı planladığınız faaliyetleri not edebilirsiniz.

No	Adı - Soyadı	Toplam Puan	Değerlendirme
1			
2			
3			
4			
5			
6			
7			
8			
9			
10			
11			
12			
13			
14			
15			
16			
17			
18			
19			
20			
21			
22			
23			
24			
25			
26			
27			
28			
29			
30			
31			
32			
33			
34			
35			

Hazırlayan: .....