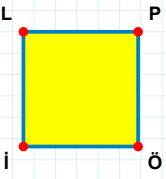
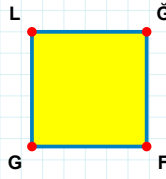


SORU: Aşağıdaki şekillerde verilen kenarlardan şekle ait olmayanı bulunuz.



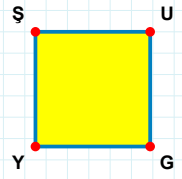
Şekle ait olmayan kenar/kenarları işaretleyelim.

- ☐ LP kenarı
☐ Pİ kenarı
☐ PÖ kenarı



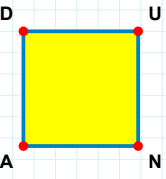
Şekle ait olmayan kenar/kenarları işaretleyelim.

- ☐ GL kenarı
☐ ĞG kenarı
☐ FG kenarı



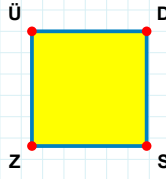
Şekle ait olmayan kenar/kenarları işaretleyelim.

- ☐ ŞG kenarı
☐ UG kenarı
☐ GY kenarı



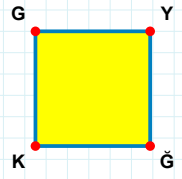
Şekle ait olmayan kenar/kenarları işaretleyelim.

- ☐ UA kenarı
☐ DN kenarı
☐ UN kenarı



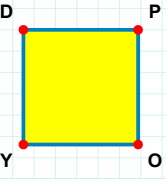
Şekle ait olmayan kenar/kenarları işaretleyelim.

- ☐ ÜD kenarı
☐ DS kenarı
☐ ÜS kenarı



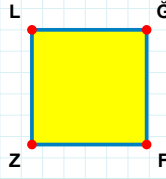
Şekle ait olmayan kenar/kenarları işaretleyelim.

- ☐ GY kenarı
☐ YK kenarı
☐ ĞK kenarı



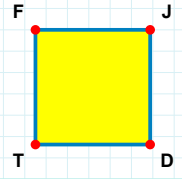
Şekle ait olmayan kenar/kenarları işaretleyelim.

- ☐ PY kenarı
☐ YD kenarı
☐ DP kenarı



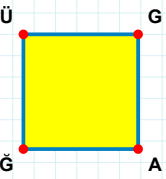
Şekle ait olmayan kenar/kenarları işaretleyelim.

- ☐ ĞZ kenarı
☐ LF kenarı
☐ ZL kenarı



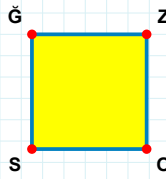
Şekle ait olmayan kenar/kenarları işaretleyelim.

- ☐ JT kenarı
☐ DT kenarı
☐ FD kenarı



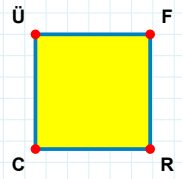
Şekle ait olmayan kenar/kenarları işaretleyelim.

- ☐ ÜG kenarı
☐ ĞĞ kenarı
☐ ÜA kenarı



Şekle ait olmayan kenar/kenarları işaretleyelim.

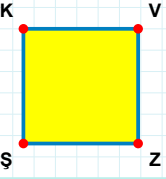
- ☐ ĞZ kenarı
☐ ZS kenarı
☐ ĞO kenarı



Şekle ait olmayan kenar/kenarları işaretleyelim.

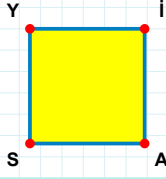
- ☐ ÜR kenarı
☐ ÜF kenarı
☐ FC kenarı

SORU: Aşağıdaki şekillerde verilen kenarlardan şekle ait olmayanı bulunuz.



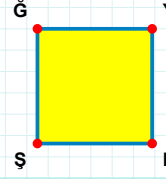
Şekle ait olmayan kenar/kenarları işaretleyelim.

- ☐ VŞ kenarı
☐ VZ kenarı
☐ KZ kenarı



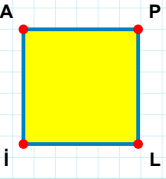
Şekle ait olmayan kenar/kenarları işaretleyelim.

- ☐ İS kenarı
☐ YA kenarı
☐ İA kenarı



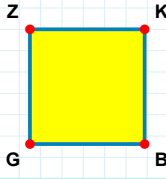
Şekle ait olmayan kenar/kenarları işaretleyelim.

- ☐ PŞ kenarı
☐ GP kenarı
☐ YŞ kenarı



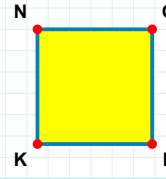
Şekle ait olmayan kenar/kenarları işaretleyelim.

- ☐ AP kenarı
☐ PL kenarı
☐ AL kenarı



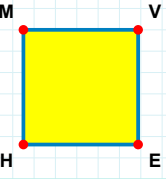
Şekle ait olmayan kenar/kenarları işaretleyelim.

- ☐ KG kenarı
☐ KB kenarı
☐ ZK kenarı



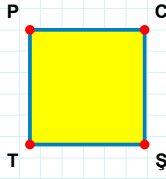
Şekle ait olmayan kenar/kenarları işaretleyelim.

- ☐ GK kenarı
☐ NP kenarı
☐ KN kenarı



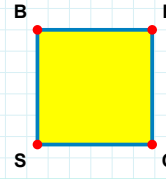
Şekle ait olmayan kenar/kenarları işaretleyelim.

- ☐ VH kenarı
☐ MV kenarı
☐ ME kenarı



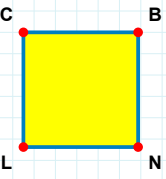
Şekle ait olmayan kenar/kenarları işaretleyelim.

- ☐ TP kenarı
☐ PC kenarı
☐ CT kenarı



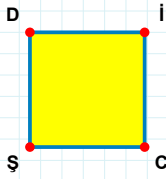
Şekle ait olmayan kenar/kenarları işaretleyelim.

- ☐ RS kenarı
☐ OS kenarı
☐ BR kenarı



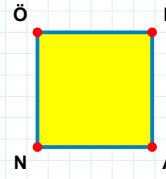
Şekle ait olmayan kenar/kenarları işaretleyelim.

- ☐ BL kenarı
☐ CN kenarı
☐ BN kenarı



Şekle ait olmayan kenar/kenarları işaretleyelim.

- ☐ DC kenarı
☐ İŞ kenarı
☐ İC kenarı



Şekle ait olmayan kenar/kenarları işaretleyelim.

- ☐ ÖF kenarı
☐ ÖA kenarı
☐ AN kenarı

SORU: Aşağıdaki şekillerde verilen kenarlardan şekle ait olmayanı bulunuz.



Şekle ait olmayan kenar/kenarları işaretleyelim.

- ☐ RS kenarı
☐ KP kenarı
☐ PR kenarı




Şekle ait olmayan kenar/kenarları işaretleyelim.

- ☐ PT kenarı
☐ İP kenarı
☐ Çİ kenarı




Şekle ait olmayan kenar/kenarları işaretleyelim.

- ☐ ER kenarı
☐ YR kenarı
☐ RT kenarı




Şekle ait olmayan kenar/kenarları işaretleyelim.

- ☐ LS kenarı
☐ LJ kenarı
☐ SZ kenarı




Şekle ait olmayan kenar/kenarları işaretleyelim.

- ☐ KB kenarı
☐ TK kenarı
☐ KE kenarı




Şekle ait olmayan kenar/kenarları işaretleyelim.

- ☐ AP kenarı
☐ ŞP kenarı
☐ ĞA kenarı




Şekle ait olmayan kenar/kenarları işaretleyelim.

- ☐ Oİ kenarı
☐ YB kenarı
☐ Bİ kenarı




Şekle ait olmayan kenar/kenarları işaretleyelim.

- ☐ LS kenarı
☐ SG kenarı
☐ GŞ kenarı




Şekle ait olmayan kenar/kenarları işaretleyelim.

- ☐ DN kenarı
☐ DY kenarı
☐ NT kenarı




Şekle ait olmayan kenar/kenarları işaretleyelim.

- ☐ ÇL kenarı
☐ ÇF kenarı
☐ LJ kenarı



Şekle ait olmayan kenar/kenarları işaretleyelim.

- ☐ GP kenarı
☐ ZG kenarı
☐ ÇG kenarı



Şekle ait olmayan kenar/kenarları işaretleyelim.

- ☐ ZB kenarı
☐ AZ kenarı
☐ AŞ kenarı

SORU: Aşağıdaki şekillerde verilen kenarlardan şekle ait olmayanı bulunuz.




Şekle ait olmayan kenar/kenarları işaretleyelim.

- ☐ RO kenarı
☐ UR kenarı
☐ HR kenarı




Şekle ait olmayan kenar/kenarları işaretleyelim.

- ☐ JV kenarı
☐ SV kenarı
☐ SI kenarı




Şekle ait olmayan kenar/kenarları işaretleyelim.

- ☐ PR kenarı
☐ VR kenarı
☐ RE kenarı




Şekle ait olmayan kenar/kenarları işaretleyelim.

- ☐ BC kenarı
☐ BP kenarı
☐ SB kenarı




Şekle ait olmayan kenar/kenarları işaretleyelim.

- ☐ EL kenarı
☐ UE kenarı
☐ VL kenarı




Şekle ait olmayan kenar/kenarları işaretleyelim.

- ☐ GB kenarı
☐ GL kenarı
☐ LJ kenarı




Şekle ait olmayan kenar/kenarları işaretleyelim.

- ☐ RN kenarı
☐ NT kenarı
☐ RĞ kenarı




Şekle ait olmayan kenar/kenarları işaretleyelim.

- ☐ TZ kenarı
☐ ZD kenarı
☐ TO kenarı




Şekle ait olmayan kenar/kenarları işaretleyelim.

- ☐ LÇ kenarı
☐ VÇ kenarı
☐ AV kenarı




Şekle ait olmayan kenar/kenarları işaretleyelim.

- ☐ LG kenarı
☐ ÖM kenarı
☐ ÖG kenarı



Şekle ait olmayan kenar/kenarları işaretleyelim.

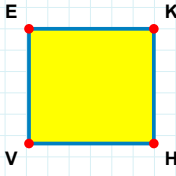
- ☐ OK kenarı
☐ ŞO kenarı
☐ ŞS kenarı



Şekle ait olmayan kenar/kenarları işaretleyelim.

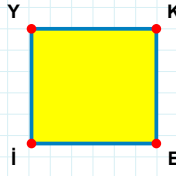
- ☐ ŞS kenarı
☐ FĞ kenarı
☐ SF kenarı

SORU: Aşağıdaki şekillerde verilen kenarlardan şekle ait olmayanı bulunuz.



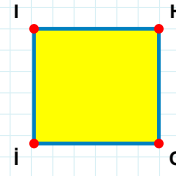
Şekle ait olmayan kenar/kenarları işaretleyelim.

- ☐ KH kenarı
☐ VE kenarı
☐ KV kenarı



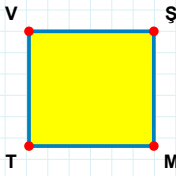
Şekle ait olmayan kenar/kenarları işaretleyelim.

- ☐ KE kenarı
☐ YE kenarı
☐ KI kenarı



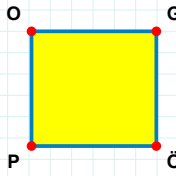
Şekle ait olmayan kenar/kenarları işaretleyelim.

- ☐ IO kenarı
☐ HI kenarı
☐ İİ kenarı



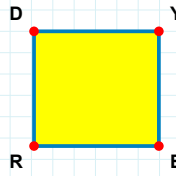
Şekle ait olmayan kenar/kenarları işaretleyelim.

- ☐ ŞT kenarı
☐ VŞ kenarı
☐ VM kenarı



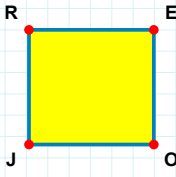
Şekle ait olmayan kenar/kenarları işaretleyelim.

- ☐ OÖ kenarı
☐ GP kenarı
☐ GÖ kenarı



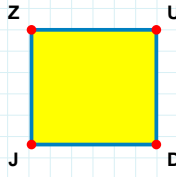
Şekle ait olmayan kenar/kenarları işaretleyelim.

- ☐ DE kenarı
☐ YR kenarı
☐ RD kenarı



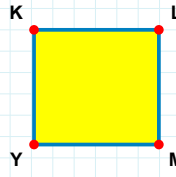
Şekle ait olmayan kenar/kenarları işaretleyelim.

- ☐ OJ kenarı
☐ JR kenarı
☐ EJ kenarı



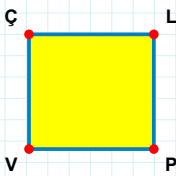
Şekle ait olmayan kenar/kenarları işaretleyelim.

- ☐ ZD kenarı
☐ DJ kenarı
☐ ZU kenarı



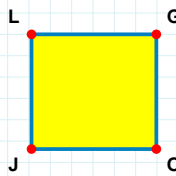
Şekle ait olmayan kenar/kenarları işaretleyelim.

- ☐ LY kenarı
☐ KM kenarı
☐ MY kenarı



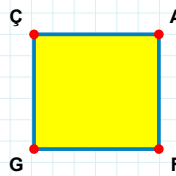
Şekle ait olmayan kenar/kenarları işaretleyelim.

- ☐ PV kenarı
☐ ÇP kenarı
☐ LP kenarı



Şekle ait olmayan kenar/kenarları işaretleyelim.

- ☐ LO kenarı
☐ GJ kenarı
☐ LG kenarı



Şekle ait olmayan kenar/kenarları işaretleyelim.

- ☐ AF kenarı
☐ GÇ kenarı
☐ ÇF kenarı

SORU: Aşağıdaki şekillerde verilen kenarlardan şekle ait olmayanı bulunuz.

Şekle ait olmayan kenar/kenarları işaretleyelim.

- ☐ GÇ kenarı
- ☐ GR kenarı
- ☐ RV kenarı

Şekle ait olmayan kenar/kenarları işaretleyelim.

- ☐ UK kenarı
- ☐ KT kenarı
- ☐ TU kenarı

Şekle ait olmayan kenar/kenarları işaretleyelim.

- ☐ YU kenarı
- ☐ YB kenarı
- ☐ UE kenarı

Şekle ait olmayan kenar/kenarları işaretleyelim.

- ☐ NP kenarı
- ☐ IP kenarı
- ☐ GN kenarı

Şekle ait olmayan kenar/kenarları işaretleyelim.

- ☐ VF kenarı
- ☐ VÇ kenarı
- ☐ ÇZ kenarı

Şekle ait olmayan kenar/kenarları işaretleyelim.

- ☐ NÖ kenarı
- ☐ MK kenarı
- ☐ KÖ kenarı

Şekle ait olmayan kenar/kenarları işaretleyelim.

- ☐ CI kenarı
- ☐ CR kenarı
- ☐ ÖI kenarı

Şekle ait olmayan kenar/kenarları işaretleyelim.

- ☐ TS kenarı
- ☐ SZ kenarı
- ☐ TZ kenarı

Şekle ait olmayan kenar/kenarları işaretleyelim.

- ☐ EP kenarı
- ☐ MT kenarı
- ☐ EM kenarı

Şekle ait olmayan kenar/kenarları işaretleyelim.

- ☐ JO kenarı
- ☐ ED kenarı
- ☐ DO kenarı

Şekle ait olmayan kenar/kenarları işaretleyelim.

- ☐ ĞE kenarı
- ☐ ĞF kenarı
- ☐ FY kenarı

Şekle ait olmayan kenar/kenarları işaretleyelim.

- ☐ NF kenarı
- ☐ OĞ kenarı
- ☐ ĞF kenarı

SORU: Aşağıdaki şekillerde verilen kenarlardan şekle ait olmayanı bulunuz.

Şekle ait olmayan kenar/kenarları işaretleyelim.

☐ GU kenarı

☐ SU kenarı

☐ VG kenarı

Şekle ait olmayan kenar/kenarları işaretleyelim.

☐ Şİ kenarı

☐ EÇ kenarı

☐ EI kenarı

Şekle ait olmayan kenar/kenarları işaretleyelim.

☐ DÇ kenarı

☐ GE kenarı

☐ ET kenarı

Şekle ait olmayan kenar/kenarları işaretleyelim.

☐ IA kenarı

☐ GA kenarı

☐ IG kenarı

Şekle ait olmayan kenar/kenarları işaretleyelim.

☐ İŞ kenarı

☐ Yİ kenarı

☐ CI kenarı

Şekle ait olmayan kenar/kenarları işaretleyelim.

☐ PI kenarı

☐ PĞ kenarı

☐ VR kenarı

Şekle ait olmayan kenar/kenarları işaretleyelim.

☐ PV kenarı

☐ VR kenarı

☐ PO kenarı

Şekle ait olmayan kenar/kenarları işaretleyelim.

☐ DF kenarı

☐ DÇ kenarı

☐ DS kenarı

Şekle ait olmayan kenar/kenarları işaretleyelim.

☐ MÖ kenarı

☐ YR kenarı

☐ YM kenarı

Şekle ait olmayan kenar/kenarları işaretleyelim.

☐ İP kenarı

☐ Dİ kenarı

☐ İİ kenarı

Şekle ait olmayan kenar/kenarları işaretleyelim.

☐ ÇN kenarı

☐ NT kenarı

☐ RT kenarı

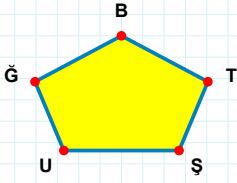
Şekle ait olmayan kenar/kenarları işaretleyelim.

☐ KŞ kenarı

☐ KD kenarı

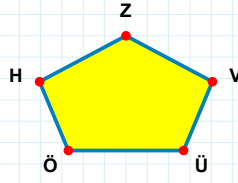
☐ DŞ kenarı

SORU: Aşağıdaki şekillerde verilen kenarlardan şekle ait olmayanı bulunuz.



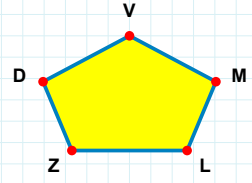
Şekle ait olmayan kenar/kenarları işaretleyelim.

- ☐ BU kenarı
☐ ŞT kenarı
☐ GÜ kenarı



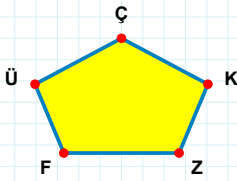
Şekle ait olmayan kenar/kenarları işaretleyelim.

- ☐ ZÖ kenarı
☐ ÖV kenarı
☐ HÜ kenarı



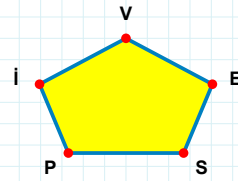
Şekle ait olmayan kenar/kenarları işaretleyelim.

- ☐ VZ kenarı
☐ VL kenarı
☐ DM kenarı



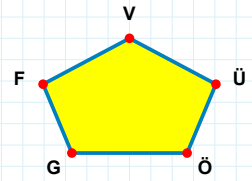
Şekle ait olmayan kenar/kenarları işaretleyelim.

- ☐ KÇ kenarı
☐ ÇF kenarı
☐ ÜK kenarı



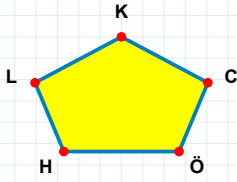
Şekle ait olmayan kenar/kenarları işaretleyelim.

- ☐ VS kenarı
☐ İE kenarı
☐ PE kenarı



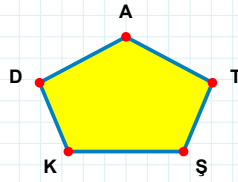
Şekle ait olmayan kenar/kenarları işaretleyelim.

- ☐ VG kenarı
☐ FG kenarı
☐ VÖ kenarı



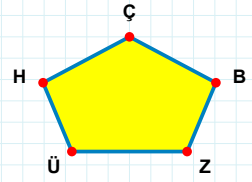
Şekle ait olmayan kenar/kenarları işaretleyelim.

- ☐ LC kenarı
☐ KL kenarı
☐ CK kenarı



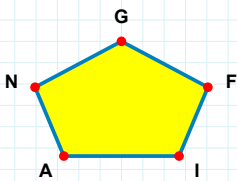
Şekle ait olmayan kenar/kenarları işaretleyelim.

- ☐ DŞ kenarı
☐ AŞ kenarı
☐ DT kenarı



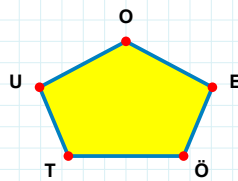
Şekle ait olmayan kenar/kenarları işaretleyelim.

- ☐ ÜB kenarı
☐ HB kenarı
☐ ÇH kenarı



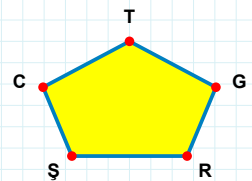
Şekle ait olmayan kenar/kenarları işaretleyelim.

- ☐ AI kenarı
☐ AF kenarı
☐ GA kenarı



Şekle ait olmayan kenar/kenarları işaretleyelim.

- ☐ UT kenarı
☐ UE kenarı
☐ EO kenarı



Şekle ait olmayan kenar/kenarları işaretleyelim.

- ☐ CŞ kenarı
☐ ŞG kenarı
☐ ŞR kenarı

SORU: Aşağıdaki şekillerde verilen kenarlardan şekle ait olmayanı bulunuz.

Şekle ait olmayan kenar/kenarları işaretleyelim.

☐ ZA kenarı

☐ OA kenarı

☐ GZ kenarı

Şekle ait olmayan kenar/kenarları işaretleyelim.

☐ GA kenarı

☐ GY kenarı

☐ ZY kenarı

Şekle ait olmayan kenar/kenarları işaretleyelim.

☐ FU kenarı

☐ MV kenarı

☐ UV kenarı

Şekle ait olmayan kenar/kenarları işaretleyelim.

☐ AĞ kenarı

☐ İI kenarı

☐ BA kenarı

Şekle ait olmayan kenar/kenarları işaretleyelim.

☐ JI kenarı

☐ Şİ kenarı

☐ NŞ kenarı

Şekle ait olmayan kenar/kenarları işaretleyelim.

☐ GL kenarı

☐ GH kenarı

☐ LA kenarı

Şekle ait olmayan kenar/kenarları işaretleyelim.

☐ ÖI kenarı

☐ Ci kenarı

☐ ÖR kenarı

Şekle ait olmayan kenar/kenarları işaretleyelim.

☐ ÇŞ kenarı

☐ LZ kenarı

☐ LÇ kenarı

Şekle ait olmayan kenar/kenarları işaretleyelim.

☐ ÇY kenarı

☐ YM kenarı

☐ YH kenarı

Şekle ait olmayan kenar/kenarları işaretleyelim.

☐ LI kenarı

☐ IC kenarı

☐ LC kenarı

Şekle ait olmayan kenar/kenarları işaretleyelim.

☐ CM kenarı

☐ CP kenarı

☐ MI kenarı

Şekle ait olmayan kenar/kenarları işaretleyelim.

☐ KJ kenarı

☐ JP kenarı

☐ JD kenarı

SORU: Aşağıdaki şekillerde verilen kenarlardan şekle ait olmayanı bulunuz.

Şekle ait olmayan kenar/kenarları işaretleyelim.

☐ ÜL kenarı
☐ LĞ kenarı
☐ ÜR kenarı

Şekle ait olmayan kenar/kenarları işaretleyelim.

☐ PK kenarı
☐ DK kenarı
☐ İK kenarı

Şekle ait olmayan kenar/kenarları işaretleyelim.

☐ BN kenarı
☐ VO kenarı
☐ BV kenarı

Şekle ait olmayan kenar/kenarları işaretleyelim.

☐ RS kenarı
☐ HR kenarı
☐ RN kenarı

Şekle ait olmayan kenar/kenarları işaretleyelim.

☐ OB kenarı
☐ HO kenarı
☐ OZ kenarı

Şekle ait olmayan kenar/kenarları işaretleyelim.

☐ ZR kenarı
☐ ÖR kenarı
☐ ŞÖ kenarı

Şekle ait olmayan kenar/kenarları işaretleyelim.

☐ VÖ kenarı
☐ Vİ kenarı
☐ VO kenarı

Şekle ait olmayan kenar/kenarları işaretleyelim.

☐ EĞ kenarı
☐ UF kenarı
☐ UĞ kenarı

Şekle ait olmayan kenar/kenarları işaretleyelim.

☐ VK kenarı
☐ VH kenarı
☐ VR kenarı

Şekle ait olmayan kenar/kenarları işaretleyelim.

☐ FB kenarı
☐ BA kenarı
☐ BM kenarı

Şekle ait olmayan kenar/kenarları işaretleyelim.

☐ GZ kenarı
☐ ŞG kenarı
☐ ÖŞ kenarı

Şekle ait olmayan kenar/kenarları işaretleyelim.

☐ JY kenarı
☐ YA kenarı
☐ JT kenarı

SORU: Aşağıdaki şekillerde verilen kenarlardan şekle ait olmayanı bulunuz.

Şekle ait olmayan kenar/kenarları işaretleyelim.

- ☐ ĞC kenarı
- ☐ AC kenarı
- ☐ CU kenarı

Şekle ait olmayan kenar/kenarları işaretleyelim.

- ☐ RB kenarı
- ☐ YF kenarı
- ☐ RY kenarı

Şekle ait olmayan kenar/kenarları işaretleyelim.

- ☐ VF kenarı
- ☐ SI kenarı
- ☐ JI kenarı

Şekle ait olmayan kenar/kenarları işaretleyelim.

- ☐ RS kenarı
- ☐ SC kenarı
- ☐ EY kenarı

Şekle ait olmayan kenar/kenarları işaretleyelim.

- ☐ İK kenarı
- ☐ MT kenarı
- ☐ İZ kenarı

Şekle ait olmayan kenar/kenarları işaretleyelim.

- ☐ YO kenarı
- ☐ ZL kenarı
- ☐ LĞ kenarı

Şekle ait olmayan kenar/kenarları işaretleyelim.

- ☐ ZD kenarı
- ☐ UD kenarı
- ☐ UN kenarı

Şekle ait olmayan kenar/kenarları işaretleyelim.

- ☐ NT kenarı
- ☐ NL kenarı
- ☐ GS kenarı

Şekle ait olmayan kenar/kenarları işaretleyelim.

- ☐ YŞ kenarı
- ☐ ÖÇ kenarı
- ☐ ŞP kenarı

Şekle ait olmayan kenar/kenarları işaretleyelim.

- ☐ FK kenarı
- ☐ FR kenarı
- ☐ ER kenarı

Şekle ait olmayan kenar/kenarları işaretleyelim.

- ☐ ĞD kenarı
- ☐ ŞL kenarı
- ☐ DL kenarı

Şekle ait olmayan kenar/kenarları işaretleyelim.

- ☐ RY kenarı
- ☐ LŞ kenarı
- ☐ RL kenarı

SORU: Aşağıdaki şekillerde verilen kenarlardan şekle ait olmayanı bulunuz.

Şekle ait olmayan kenar/kenarları işaretleyelim.

- ☐ NE kenarı
- ☐ İŞ kenarı
- ☐ EI kenarı

Şekle ait olmayan kenar/kenarları işaretleyelim.

- ☐ ÇC kenarı
- ☐ LY kenarı
- ☐ ÇY kenarı

Şekle ait olmayan kenar/kenarları işaretleyelim.

- ☐ JÖ kenarı
- ☐ ZP kenarı
- ☐ PB kenarı

Şekle ait olmayan kenar/kenarları işaretleyelim.

- ☐ Tİ kenarı
- ☐ TÖ kenarı
- ☐ İH kenarı

Şekle ait olmayan kenar/kenarları işaretleyelim.

- ☐ MR kenarı
- ☐ ZM kenarı
- ☐ KM kenarı

Şekle ait olmayan kenar/kenarları işaretleyelim.

- ☐ HŞ kenarı
- ☐ NŞ kenarı
- ☐ İŞ kenarı

Şekle ait olmayan kenar/kenarları işaretleyelim.

- ☐ AB kenarı
- ☐ BÇ kenarı
- ☐ YÇ kenarı

Şekle ait olmayan kenar/kenarları işaretleyelim.

- ☐ GĞ kenarı
- ☐ GA kenarı
- ☐ AZ kenarı

Şekle ait olmayan kenar/kenarları işaretleyelim.

- ☐ Şİ kenarı
- ☐ Çİ kenarı
- ☐ ÇN kenarı

Şekle ait olmayan kenar/kenarları işaretleyelim.

- ☐ HÜ kenarı
- ☐ SH kenarı
- ☐ MS kenarı

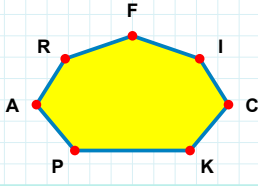
Şekle ait olmayan kenar/kenarları işaretleyelim.

- ☐ Tİ kenarı
- ☐ Hİ kenarı
- ☐ HÜ kenarı

Şekle ait olmayan kenar/kenarları işaretleyelim.

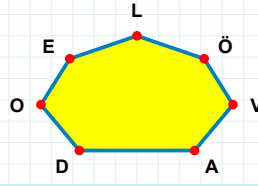
- ☐ FK kenarı
- ☐ FG kenarı
- ☐ FZ kenarı

SORU: Aşağıdaki şekillerde verilen kenarlardan şekle ait olmayanı bulunuz.



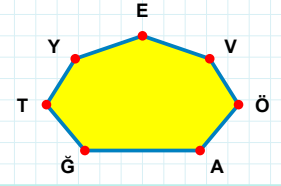
Şekle ait olmayan kenar/kenarları işaretleyelim.

- ☐ PC kenarı
☐ FR kenarı
☐ FA kenarı



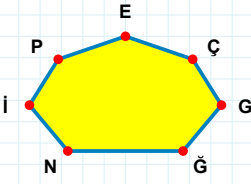
Şekle ait olmayan kenar/kenarları işaretleyelim.

- ☐ AV kenarı
☐ EO kenarı
☐ DÖ kenarı



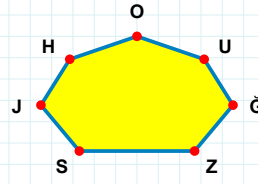
Şekle ait olmayan kenar/kenarları işaretleyelim.

- ☐ YV kenarı
☐ TV kenarı
☐ EA kenarı



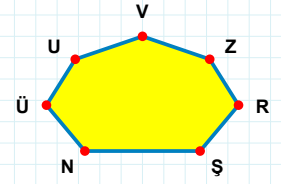
Şekle ait olmayan kenar/kenarları işaretleyelim.

- ☐ ĞÇ kenarı
☐ NG kenarı
☐ NÇ kenarı



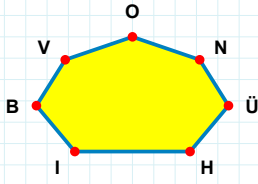
Şekle ait olmayan kenar/kenarları işaretleyelim.

- ☐ JS kenarı
☐ SĞ kenarı
☐ HĞ kenarı



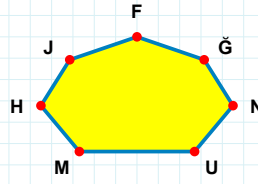
Şekle ait olmayan kenar/kenarları işaretleyelim.

- ☐ NR kenarı
☐ RZ kenarı
☐ ŞR kenarı



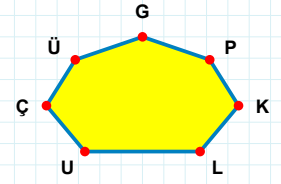
Şekle ait olmayan kenar/kenarları işaretleyelim.

- ☐ VI kenarı
☐ OI kenarı
☐ BÜ kenarı



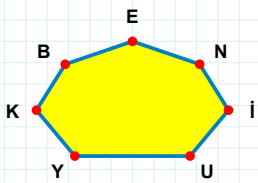
Şekle ait olmayan kenar/kenarları işaretleyelim.

- ☐ HM kenarı
☐ FH kenarı
☐ FU kenarı



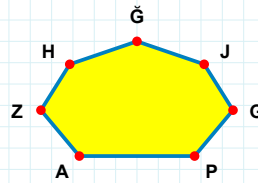
Şekle ait olmayan kenar/kenarları işaretleyelim.

- ☐ UP kenarı
☐ UL kenarı
☐ PG kenarı



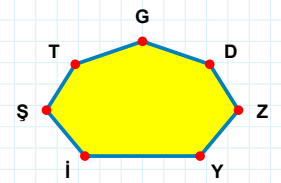
Şekle ait olmayan kenar/kenarları işaretleyelim.

- ☐ KN kenarı
☐ Bİ kenarı
☐ EB kenarı



Şekle ait olmayan kenar/kenarları işaretleyelim.

- ☐ AJ kenarı
☐ ZA kenarı
☐ HJ kenarı



Şekle ait olmayan kenar/kenarları işaretleyelim.

- ☐ GT kenarı
☐ Şİ kenarı
☐ GZ kenarı

SORU: Aşağıdaki şekillerde verilen kenarlardan şekle ait olmayanı bulunuz.

Şekle ait olmayan kenar/kenarları işaretleyelim.

☐ SH kenarı
☐ LS kenarı
☐ OL kenarı

Şekle ait olmayan kenar/kenarları işaretleyelim.

☐ ÜR kenarı
☐ ÖP kenarı
☐ ÖB kenarı

Şekle ait olmayan kenar/kenarları işaretleyelim.

☐ VM kenarı
☐ HÖ kenarı
☐ JH kenarı

Şekle ait olmayan kenar/kenarları işaretleyelim.

☐ RB kenarı
☐ LN kenarı
☐ HL kenarı

Şekle ait olmayan kenar/kenarları işaretleyelim.

☐ TH kenarı
☐ HG kenarı
☐ ĞH kenarı

Şekle ait olmayan kenar/kenarları işaretleyelim.

☐ RÖ kenarı
☐ ÖH kenarı
☐ KY kenarı

Şekle ait olmayan kenar/kenarları işaretleyelim.

☐ ÖN kenarı
☐ İN kenarı
☐ ÖY kenarı

Şekle ait olmayan kenar/kenarları işaretleyelim.

☐ ŞY kenarı
☐ AŞ kenarı
☐ YA kenarı

Şekle ait olmayan kenar/kenarları işaretleyelim.

☐ FP kenarı
☐ PM kenarı
☐ PI kenarı

Şekle ait olmayan kenar/kenarları işaretleyelim.

☐ TB kenarı
☐ NG kenarı
☐ TG kenarı

Şekle ait olmayan kenar/kenarları işaretleyelim.

☐ SK kenarı
☐ OV kenarı
☐ LV kenarı

Şekle ait olmayan kenar/kenarları işaretleyelim.

☐ TU kenarı
☐ ŞG kenarı
☐ LŞ kenarı

SORU: Aşağıdaki şekillerde verilen kenarlardan şekle ait olmayanı bulunuz.

Şekle ait olmayan kenar/kenarları işaretleyelim.

☐ VH kenarı
☐ ŞV kenarı
☐ CG kenarı

Şekle ait olmayan kenar/kenarları işaretleyelim.

☐ CE kenarı
☐ EN kenarı
☐ ED kenarı

Şekle ait olmayan kenar/kenarları işaretleyelim.

☐ TJ kenarı
☐ HÖ kenarı
☐ TŞ kenarı

Şekle ait olmayan kenar/kenarları işaretleyelim.

☐ JÇ kenarı
☐ KJ kenarı
☐ JL kenarı

Şekle ait olmayan kenar/kenarları işaretleyelim.

☐ KL kenarı
☐ ŞD kenarı
☐ KS kenarı

Şekle ait olmayan kenar/kenarları işaretleyelim.

☐ TC kenarı
☐ TF kenarı
☐ ML kenarı

Şekle ait olmayan kenar/kenarları işaretleyelim.

☐ ÖB kenarı
☐ YB kenarı
☐ OY kenarı

Şekle ait olmayan kenar/kenarları işaretleyelim.

☐ CV kenarı
☐ DÖ kenarı
☐ CG kenarı

Şekle ait olmayan kenar/kenarları işaretleyelim.

☐ CD kenarı
☐ IC kenarı
☐ EY kenarı

Şekle ait olmayan kenar/kenarları işaretleyelim.

☐ MÖ kenarı
☐ MP kenarı
☐ Öİ kenarı

Şekle ait olmayan kenar/kenarları işaretleyelim.

☐ GD kenarı
☐ ŞN kenarı
☐ AD kenarı

Şekle ait olmayan kenar/kenarları işaretleyelim.

☐ UĞ kenarı
☐ AĞ kenarı
☐ CH kenarı

SORU: Aşağıdaki şekillerde verilen kenarlardan şekle ait olmayanı bulunuz.

Şekle ait olmayan kenar/kenarları işaretleyelim.

☐ ÇL kenarı

☐ ÇÖ kenarı

☐ TY kenarı

Şekle ait olmayan kenar/kenarları işaretleyelim.

☐ DC kenarı

☐ ÜÜ kenarı

☐ DH kenarı

Şekle ait olmayan kenar/kenarları işaretleyelim.

☐ JM kenarı

☐ İJ kenarı

☐ LA kenarı

Şekle ait olmayan kenar/kenarları işaretleyelim.

☐ CT kenarı

☐ NI kenarı

☐ TU kenarı

Şekle ait olmayan kenar/kenarları işaretleyelim.

☐ İİ kenarı

☐ JV kenarı

☐ JI kenarı

Şekle ait olmayan kenar/kenarları işaretleyelim.

☐ MF kenarı

☐ MU kenarı

☐ FÇ kenarı

Şekle ait olmayan kenar/kenarları işaretleyelim.

☐ RM kenarı

☐ OC kenarı

☐ ML kenarı

Şekle ait olmayan kenar/kenarları işaretleyelim.

☐ OŞ kenarı

☐ ŞG kenarı

☐ ĞT kenarı

Şekle ait olmayan kenar/kenarları işaretleyelim.

☐ SV kenarı

☐ DE kenarı

☐ LD kenarı

Şekle ait olmayan kenar/kenarları işaretleyelim.

☐ LC kenarı

☐ CR kenarı

☐ OH kenarı

Şekle ait olmayan kenar/kenarları işaretleyelim.

☐ OV kenarı

☐ KŞ kenarı

☐ SK kenarı

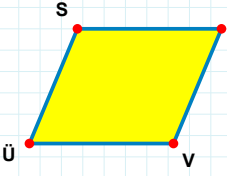
Şekle ait olmayan kenar/kenarları işaretleyelim.

☐ OH kenarı

☐ BO kenarı

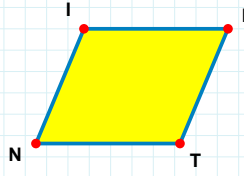
☐ ĞF kenarı

SORU: Aşağıdaki şekillerde verilen kenarlardan şekle ait olmayanı bulunuz.



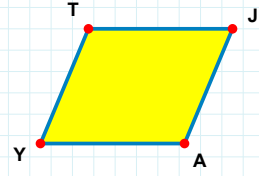
Şekle ait olmayan kenar/kenarları işaretleyelim.

- ☐ GV kenarı
☐ ÜS kenarı
☐ GÜ kenarı



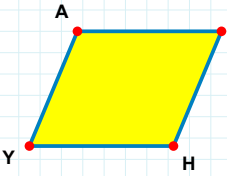
Şekle ait olmayan kenar/kenarları işaretleyelim.

- ☐ KN kenarı
☐ IK kenarı
☐ IT kenarı



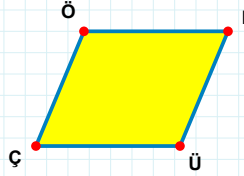
Şekle ait olmayan kenar/kenarları işaretleyelim.

- ☐ TJ kenarı
☐ JY kenarı
☐ TA kenarı



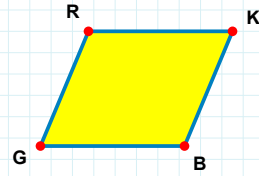
Şekle ait olmayan kenar/kenarları işaretleyelim.

- ☐ YA kenarı
☐ AÜ kenarı
☐ ÜY kenarı



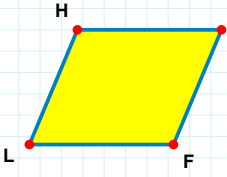
Şekle ait olmayan kenar/kenarları işaretleyelim.

- ☐ ÜÇ kenarı
☐ RÇ kenarı
☐ ÖR kenarı



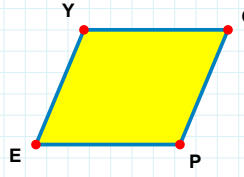
Şekle ait olmayan kenar/kenarları işaretleyelim.

- ☐ KG kenarı
☐ KB kenarı
☐ GR kenarı



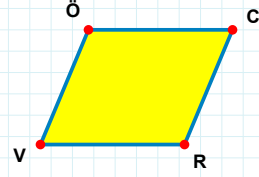
Şekle ait olmayan kenar/kenarları işaretleyelim.

- ☐ MF kenarı
☐ HF kenarı
☐ ML kenarı



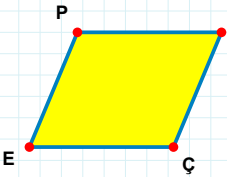
Şekle ait olmayan kenar/kenarları işaretleyelim.

- ☐ ĞE kenarı
☐ PE kenarı
☐ EY kenarı



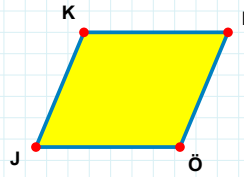
Şekle ait olmayan kenar/kenarları işaretleyelim.

- ☐ CR kenarı
☐ VÖ kenarı
☐ CV kenarı



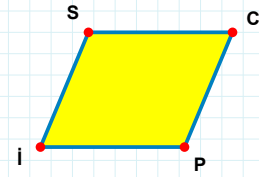
Şekle ait olmayan kenar/kenarları işaretleyelim.

- ☐ PÇ kenarı
☐ NE kenarı
☐ EP kenarı



Şekle ait olmayan kenar/kenarları işaretleyelim.

- ☐ KB kenarı
☐ KÖ kenarı
☐ BÖ kenarı



Şekle ait olmayan kenar/kenarları işaretleyelim.

- ☐ SC kenarı
☐ SP kenarı
☐ Cİ kenarı

SORU: Aşağıdaki şekillerde verilen kenarlardan şekle ait olmayanı bulunuz.

Şekle ait olmayan kenar/kenarları işaretleyelim.

☐ PD kenarı
☐ DO kenarı
☐ IP kenarı

Şekle ait olmayan kenar/kenarları işaretleyelim.

☐ KÖ kenarı
☐ YÖ kenarı
☐ KV kenarı

Şekle ait olmayan kenar/kenarları işaretleyelim.

☐ HO kenarı
☐ NH kenarı
☐ NR kenarı

Şekle ait olmayan kenar/kenarları işaretleyelim.

☐ VM kenarı
☐ GV kenarı
☐ ÖM kenarı

Şekle ait olmayan kenar/kenarları işaretleyelim.

☐ ĞV kenarı
☐ HĞ kenarı
☐ VI kenarı

Şekle ait olmayan kenar/kenarları işaretleyelim.

☐ PN kenarı
☐ ÇP kenarı
☐ UÇ kenarı

Şekle ait olmayan kenar/kenarları işaretleyelim.

☐ PO kenarı
☐ OY kenarı
☐ PĞ kenarı

Şekle ait olmayan kenar/kenarları işaretleyelim.

☐ UI kenarı
☐ KU kenarı
☐ IH kenarı

Şekle ait olmayan kenar/kenarları işaretleyelim.

☐ DC kenarı
☐ OI kenarı
☐ OD kenarı

Şekle ait olmayan kenar/kenarları işaretleyelim.

☐ ÜB kenarı
☐ İB kenarı
☐ BT kenarı

Şekle ait olmayan kenar/kenarları işaretleyelim.

☐ UC kenarı
☐ İU kenarı
☐ KC kenarı

Şekle ait olmayan kenar/kenarları işaretleyelim.

☐ OG kenarı
☐ GĞ kenarı
☐ KG kenarı

SORU: Aşağıdaki şekillerde verilen kenarlardan şekle ait olmayanı bulunuz.

Şekle ait olmayan kenar/kenarları işaretleyelim.

☐ GN kenarı
☐ BN kenarı
☐ GP kenarı

Şekle ait olmayan kenar/kenarları işaretleyelim.

☐ KÇ kenarı
☐ DF kenarı
☐ ÇF kenarı

Şekle ait olmayan kenar/kenarları işaretleyelim.

☐ GO kenarı
☐ GK kenarı
☐ OL kenarı

Şekle ait olmayan kenar/kenarları işaretleyelim.

☐ HE kenarı
☐ ÜM kenarı
☐ EM kenarı

Şekle ait olmayan kenar/kenarları işaretleyelim.

☐ EÖ kenarı
☐ ÖF kenarı
☐ FE kenarı

Şekle ait olmayan kenar/kenarları işaretleyelim.

☐ ĞR kenarı
☐ MĞ kenarı
☐ ĞB kenarı

Şekle ait olmayan kenar/kenarları işaretleyelim.

☐ KJ kenarı
☐ KN kenarı
☐ NL kenarı

Şekle ait olmayan kenar/kenarları işaretleyelim.

☐ ZN kenarı
☐ ZK kenarı
☐ KÇ kenarı

Şekle ait olmayan kenar/kenarları işaretleyelim.

☐ CJ kenarı
☐ JP kenarı
☐ PC kenarı

Şekle ait olmayan kenar/kenarları işaretleyelim.

☐ FÜ kenarı
☐ AF kenarı
☐ ÜA kenarı

Şekle ait olmayan kenar/kenarları işaretleyelim.

☐ IS kenarı
☐ SL kenarı
☐ ĞL kenarı

Şekle ait olmayan kenar/kenarları işaretleyelim.

☐ RY kenarı
☐ SR kenarı
☐ YO kenarı

SORU: Aşağıdaki şekillerde verilen kenarlardan şekle ait olmayanı bulunuz.

Şekle ait olmayan kenar/kenarları işaretleyelim.

- ☐ AÖ kenarı
- ☐ AÇ kenarı
- ☐ ÖÇ kenarı

Şekle ait olmayan kenar/kenarları işaretleyelim.

- ☐ DE kenarı
- ☐ JA kenarı
- ☐ JD kenarı

Şekle ait olmayan kenar/kenarları işaretleyelim.

- ☐ UK kenarı
- ☐ CU kenarı
- ☐ KC kenarı

Şekle ait olmayan kenar/kenarları işaretleyelim.

- ☐ BE kenarı
- ☐ ZE kenarı
- ☐ LB kenarı

Şekle ait olmayan kenar/kenarları işaretleyelim.

- ☐ RA kenarı
- ☐ RŞ kenarı
- ☐ PR kenarı

Şekle ait olmayan kenar/kenarları işaretleyelim.

- ☐ HI kenarı
- ☐ NI kenarı
- ☐ HN kenarı

Şekle ait olmayan kenar/kenarları işaretleyelim.

- ☐ ŞR kenarı
- ☐ GO kenarı
- ☐ GŞ kenarı

Şekle ait olmayan kenar/kenarları işaretleyelim.

- ☐ BH kenarı
- ☐ HZ kenarı
- ☐ IZ kenarı

Şekle ait olmayan kenar/kenarları işaretleyelim.

- ☐ KG kenarı
- ☐ KÖ kenarı
- ☐ GÖ kenarı

Şekle ait olmayan kenar/kenarları işaretleyelim.

- ☐ LC kenarı
- ☐ DV kenarı
- ☐ DC kenarı

Şekle ait olmayan kenar/kenarları işaretleyelim.

- ☐ SÖ kenarı
- ☐ ÖD kenarı
- ☐ DJ kenarı

Şekle ait olmayan kenar/kenarları işaretleyelim.

- ☐ CS kenarı
- ☐ CB kenarı
- ☐ BK kenarı

SORU: Aşağıdaki şekillerde verilen kenarlardan şekle ait olmayanı bulunuz.

Şekle ait olmayan kenar/kenarları işaretleyelim.

☐ Öİ kenarı
☐ İÇ kenarı
☐ ÇÖ kenarı

Şekle ait olmayan kenar/kenarları işaretleyelim.

☐ MH kenarı
☐ UH kenarı
☐ LU kenarı

Şekle ait olmayan kenar/kenarları işaretleyelim.

☐ MO kenarı
☐ EO kenarı
☐ EM kenarı

Şekle ait olmayan kenar/kenarları işaretleyelim.

☐ UÜ kenarı
☐ Çİ kenarı
☐ Üİ kenarı

Şekle ait olmayan kenar/kenarları işaretleyelim.

☐ İA kenarı
☐ GÇ kenarı
☐ İÇ kenarı

Şekle ait olmayan kenar/kenarları işaretleyelim.

☐ TC kenarı
☐ KV kenarı
☐ KT kenarı

Şekle ait olmayan kenar/kenarları işaretleyelim.

☐ GÜ kenarı
☐ MG kenarı
☐ DÜ kenarı

Şekle ait olmayan kenar/kenarları işaretleyelim.

☐ AÖ kenarı
☐ FO kenarı
☐ OÖ kenarı

Şekle ait olmayan kenar/kenarları işaretleyelim.

☐ YV kenarı
☐ ÇD kenarı
☐ VD kenarı

Şekle ait olmayan kenar/kenarları işaretleyelim.

☐ HI kenarı
☐ İH kenarı
☐ GI kenarı

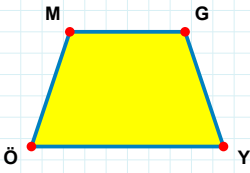
Şekle ait olmayan kenar/kenarları işaretleyelim.

☐ OG kenarı
☐ YG kenarı
☐ GD kenarı

Şekle ait olmayan kenar/kenarları işaretleyelim.

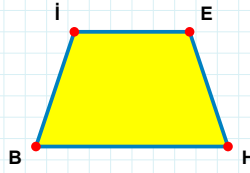
☐ İÇ kenarı
☐ İH kenarı
☐ OÇ kenarı

SORU: Aşağıdaki şekillerde verilen kenarlardan şekle ait olmayanı bulunuz.



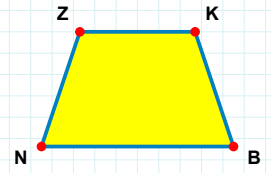
Şekle ait olmayan kenar/kenarları işaretleyelim.

- ☐ MG kenarı
☐ GÖ kenarı
☐ MY kenarı



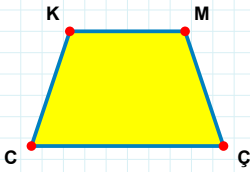
Şekle ait olmayan kenar/kenarları işaretleyelim.

- ☐ İH kenarı
☐ İE kenarı
☐ EB kenarı



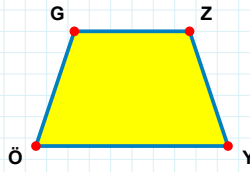
Şekle ait olmayan kenar/kenarları işaretleyelim.

- ☐ NZ kenarı
☐ ZB kenarı
☐ KB kenarı



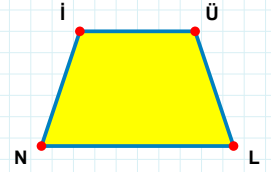
Şekle ait olmayan kenar/kenarları işaretleyelim.

- ☐ KÇ kenarı
☐ KM kenarı
☐ MÇ kenarı



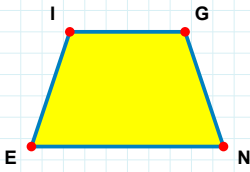
Şekle ait olmayan kenar/kenarları işaretleyelim.

- ☐ ZÖ kenarı
☐ GZ kenarı
☐ GY kenarı



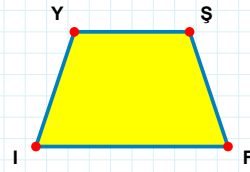
Şekle ait olmayan kenar/kenarları işaretleyelim.

- ☐ ÜN kenarı
☐ LN kenarı
☐ Nİ kenarı



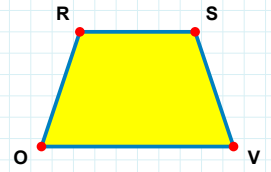
Şekle ait olmayan kenar/kenarları işaretleyelim.

- ☐ İG kenarı
☐ NE kenarı
☐ IN kenarı



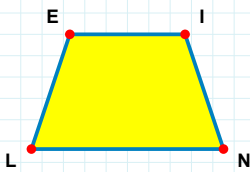
Şekle ait olmayan kenar/kenarları işaretleyelim.

- ☐ Şİ kenarı
☐ YF kenarı
☐ YŞ kenarı



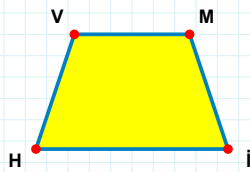
Şekle ait olmayan kenar/kenarları işaretleyelim.

- ☐ OR kenarı
☐ SO kenarı
☐ RV kenarı



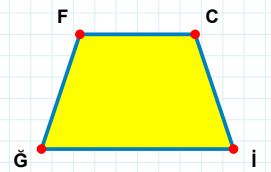
Şekle ait olmayan kenar/kenarları işaretleyelim.

- ☐ İN kenarı
☐ EI kenarı
☐ EN kenarı



Şekle ait olmayan kenar/kenarları işaretleyelim.

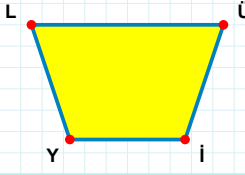
- ☐ MH kenarı
☐ İH kenarı
☐ Mİ kenarı



Şekle ait olmayan kenar/kenarları işaretleyelim.

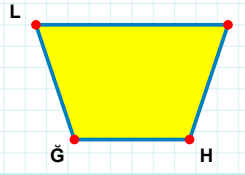
- ☐ CĞ kenarı
☐ FC kenarı
☐ Fİ kenarı

SORU: Aşağıdaki şekillerde verilen kenarlardan şekle ait olmayanı bulunuz.



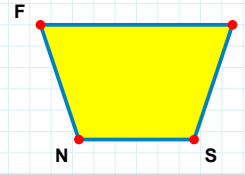
Şekle ait olmayan kenar/kenarları işaretleyelim.

- ☐ YL kenarı
☐ Lİ kenarı
☐ ÜY kenarı



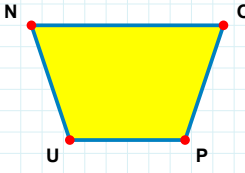
Şekle ait olmayan kenar/kenarları işaretleyelim.

- ☐ IĞ kenarı
☐ ĞL kenarı
☐ LH kenarı



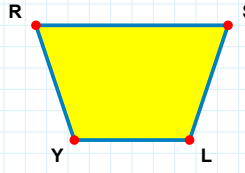
Şekle ait olmayan kenar/kenarları işaretleyelim.

- ☐ FS kenarı
☐ FL kenarı
☐ NF kenarı



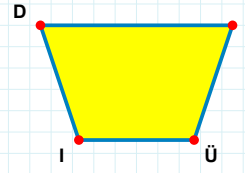
Şekle ait olmayan kenar/kenarları işaretleyelim.

- ☐ UN kenarı
☐ NP kenarı
☐ OU kenarı



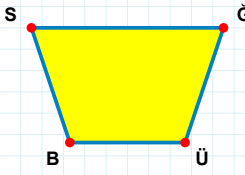
Şekle ait olmayan kenar/kenarları işaretleyelim.

- ☐ YR kenarı
☐ RL kenarı
☐ SL kenarı



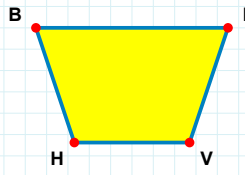
Şekle ait olmayan kenar/kenarları işaretleyelim.

- ☐ HÜ kenarı
☐ DÜ kenarı
☐ HI kenarı



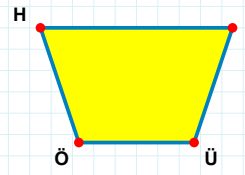
Şekle ait olmayan kenar/kenarları işaretleyelim.

- ☐ SĞ kenarı
☐ ĞB kenarı
☐ ÜB kenarı



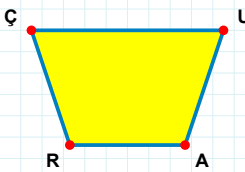
Şekle ait olmayan kenar/kenarları işaretleyelim.

- ☐ FH kenarı
☐ BF kenarı
☐ BV kenarı



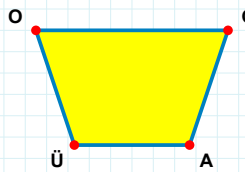
Şekle ait olmayan kenar/kenarları işaretleyelim.

- ☐ İÜ kenarı
☐ ÜÖ kenarı
☐ HÜ kenarı



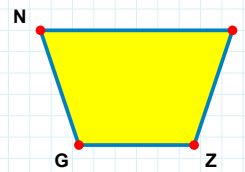
Şekle ait olmayan kenar/kenarları işaretleyelim.

- ☐ ÇA kenarı
☐ AR kenarı
☐ UR kenarı



Şekle ait olmayan kenar/kenarları işaretleyelim.

- ☐ OĞ kenarı
☐ ĞÜ kenarı
☐ OA kenarı



Şekle ait olmayan kenar/kenarları işaretleyelim.

- ☐ HG kenarı
☐ GN kenarı
☐ NZ kenarı

SORU: Aşağıdaki şekillerde verilen kenarlardan şekle ait olmayanı bulunuz.

Şekle ait olmayan kenar/kenarları işaretleyelim.

☐ AO kenarı
☐ ZN kenarı
☐ ZA kenarı

Şekle ait olmayan kenar/kenarları işaretleyelim.

☐ TU kenarı
☐ NH kenarı
☐ TN kenarı

Şekle ait olmayan kenar/kenarları işaretleyelim.

☐ ÇS kenarı
☐ SĞ kenarı
☐ ĞÇ kenarı

Şekle ait olmayan kenar/kenarları işaretleyelim.

☐ BF kenarı
☐ FU kenarı
☐ BR kenarı

Şekle ait olmayan kenar/kenarları işaretleyelim.

☐ EÖ kenarı
☐ OS kenarı
☐ SE kenarı

Şekle ait olmayan kenar/kenarları işaretleyelim.

☐ FB kenarı
☐ BE kenarı
☐ FE kenarı

Şekle ait olmayan kenar/kenarları işaretleyelim.

☐ AR kenarı
☐ FP kenarı
☐ FA kenarı

Şekle ait olmayan kenar/kenarları işaretleyelim.

☐ MB kenarı
☐ MĞ kenarı
☐ ĞV kenarı

Şekle ait olmayan kenar/kenarları işaretleyelim.

☐ YU kenarı
☐ UO kenarı
☐ EO kenarı

Şekle ait olmayan kenar/kenarları işaretleyelim.

☐ UY kenarı
☐ MU kenarı
☐ JY kenarı

Şekle ait olmayan kenar/kenarları işaretleyelim.

☐ UH kenarı
☐ OU kenarı
☐ DU kenarı

Şekle ait olmayan kenar/kenarları işaretleyelim.

☐ JÜ kenarı
☐ YÜ kenarı
☐ HY kenarı

SÜREÇ ODAKLI DEĞERLENDİRME ÖLÇEĞİ			
Geliştirilmeli (0-100)	İyi (101-172)	Çok İyi (173-244)	Mükemmel (245-288)
<input type="checkbox"/>	<input type="checkbox"/>	<input type="checkbox"/>	<input type="checkbox"/>

Hazırlayan:

Bu bölüme sınıfınızın ilgili kazanıma yönelik genel durumuna ilişkin gözlem ve izlenimlerinizi, öğrencilerinizin bu kazanımla ilgili öğrenme eksikliklerini ve bu eksikliklerin giderilmesi amacıyla yaptığınız/yapmayı planladığınız faaliyetleri not edebilirsiniz.

No	Adı - Soyadı	Toplam Puan	Değerlendirme
1			
2			
3			
4			
5			
6			
7			
8			
9			
10			
11			
12			
13			
14			
15			
16			
17			
18			
19			
20			
21			
22			
23			
24			
25			
26			
27			
28			
29			
30			
31			
32			
33			
34			
35			

Hazırlayan: