

**SORU:** Aşağıdaki şekillerde verilen kenarlardan şekle ait olmayanı bulunuz.

Şekle ait olmayan kenar/kenarları işaretleyelim.

☐ ÖG kenarı

☐ YG kenarı

☐ YT kenarı

Şekle ait olmayan kenar/kenarları işaretleyelim.

☐ TS kenarı

☐ RF kenarı

☐ FT kenarı

Şekle ait olmayan kenar/kenarları işaretleyelim.

☐ VÖ kenarı

☐ BV kenarı

☐ ÖY kenarı

Şekle ait olmayan kenar/kenarları işaretleyelim.

☐ ĞT kenarı

☐ CT kenarı

☐ MĞ kenarı

Şekle ait olmayan kenar/kenarları işaretleyelim.

☐ AB kenarı

☐ SĞ kenarı

☐ AS kenarı

Şekle ait olmayan kenar/kenarları işaretleyelim.

☐ İH kenarı

☐ FI kenarı

☐ FK kenarı

Şekle ait olmayan kenar/kenarları işaretleyelim.

☐ İA kenarı

☐ UÖ kenarı

☐ ÖA kenarı

Şekle ait olmayan kenar/kenarları işaretleyelim.

☐ SA kenarı

☐ AT kenarı

☐ TS kenarı

Şekle ait olmayan kenar/kenarları işaretleyelim.

☐ NL kenarı

☐ OL kenarı

☐ OZ kenarı

Şekle ait olmayan kenar/kenarları işaretleyelim.

☐ İR kenarı

☐ MR kenarı

☐ FM kenarı

Şekle ait olmayan kenar/kenarları işaretleyelim.

☐ İÖ kenarı

☐ GI kenarı

☐ ÖG kenarı

Şekle ait olmayan kenar/kenarları işaretleyelim.

☐ CT kenarı

☐ ÖC kenarı

☐ OT kenarı

**SORU:** Aşağıdaki şekillerde verilen kenarlardan şekle ait olmayanı bulunuz.

Şekle ait olmayan kenar/kenarları işaretleyelim.

☐ VT kenarı

☐ ÇV kenarı

☐ VG kenarı

Şekle ait olmayan kenar/kenarları işaretleyelim.

☐ KH kenarı

☐ HG kenarı

☐ BG kenarı

Şekle ait olmayan kenar/kenarları işaretleyelim.

☐ BE kenarı

☐ BK kenarı

☐ KE kenarı

Şekle ait olmayan kenar/kenarları işaretleyelim.

☐ FÜ kenarı

☐ FO kenarı

☐ ON kenarı

Şekle ait olmayan kenar/kenarları işaretleyelim.

☐ GJ kenarı

☐ TJ kenarı

☐ KG kenarı

Şekle ait olmayan kenar/kenarları işaretleyelim.

☐ JÇ kenarı

☐ JH kenarı

☐ AH kenarı

Şekle ait olmayan kenar/kenarları işaretleyelim.

☐ EK kenarı

☐ ŞE kenarı

☐ KŞ kenarı

Şekle ait olmayan kenar/kenarları işaretleyelim.

☐ KÖ kenarı

☐ RK kenarı

☐ RÖ kenarı

Şekle ait olmayan kenar/kenarları işaretleyelim.

☐ İJ kenarı

☐ HJ kenarı

☐ PI kenarı

Şekle ait olmayan kenar/kenarları işaretleyelim.

☐ ZY kenarı

☐ İK kenarı

☐ ZK kenarı

Şekle ait olmayan kenar/kenarları işaretleyelim.

☐ ŞB kenarı

☐ AF kenarı

☐ AŞ kenarı


Şekle ait olmayan kenar/kenarları işaretleyelim.

☐ İU kenarı

☐ GY kenarı


☐ YU kenarı

**SORU:** Aşağıdaki şekillerde verilen kenarlardan şekle ait olmayanı bulunuz.




Şekle ait olmayan kenar/kenarları işaretleyelim.

- ☐ DI kenarı  
☐ İC kenarı  
☐ CD kenarı




Şekle ait olmayan kenar/kenarları işaretleyelim.

- ☐ PB kenarı  
☐ FR kenarı  
☐ RP kenarı




Şekle ait olmayan kenar/kenarları işaretleyelim.

- ☐ İÖ kenarı  
☐ ÖZ kenarı  
☐ IN kenarı




Şekle ait olmayan kenar/kenarları işaretleyelim.

- ☐ LŞ kenarı  
☐ LG kenarı  
☐ GO kenarı




Şekle ait olmayan kenar/kenarları işaretleyelim.

- ☐ Üİ kenarı  
☐ İI kenarı  
☐ İÖ kenarı




Şekle ait olmayan kenar/kenarları işaretleyelim.

- ☐ ÖG kenarı  
☐ TE kenarı  
☐ GE kenarı




Şekle ait olmayan kenar/kenarları işaretleyelim.

- ☐ KA kenarı  
☐ İA kenarı  
☐ KL kenarı



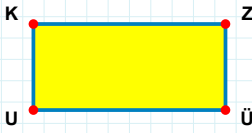
Şekle ait olmayan kenar/kenarları işaretleyelim.

- ☐ ZO kenarı  
☐ ZÖ kenarı  
☐ DO kenarı



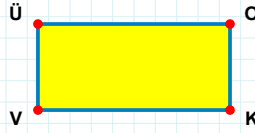
Şekle ait olmayan kenar/kenarları işaretleyelim.

- ☐ İY kenarı  
☐ LI kenarı  
☐ YL kenarı



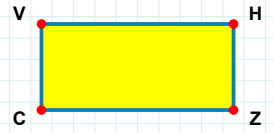
Şekle ait olmayan kenar/kenarları işaretleyelim.

- ☐ KZ kenarı  
☐ KÜ kenarı  
☐ ZU kenarı



Şekle ait olmayan kenar/kenarları işaretleyelim.


- ☐ KV kenarı  
☐ OK kenarı  
☐ ÜK kenarı



Şekle ait olmayan kenar/kenarları işaretleyelim.

- ☐ VZ kenarı  
☐ HZ kenarı  
☐ HC kenarı

**SORU:** Aşağıdaki şekillerde verilen kenarlardan şekle ait olmayanı bulunuz.




Şekle ait olmayan kenar/kenarları işaretleyelim.

- ☐ YC kenarı  
☐ CM kenarı  
☐ YG kenarı




Şekle ait olmayan kenar/kenarları işaretleyelim.

- ☐ RO kenarı  
☐ TC kenarı  
☐ TR kenarı




Şekle ait olmayan kenar/kenarları işaretleyelim.

- ☐ BT kenarı  
☐ İB kenarı  
☐ BF kenarı




Şekle ait olmayan kenar/kenarları işaretleyelim.

- ☐ AÇ kenarı  
☐ HÇ kenarı  
☐ HG kenarı




Şekle ait olmayan kenar/kenarları işaretleyelim.

- ☐ DR kenarı  
☐ ŞY kenarı  
☐ DŞ kenarı




Şekle ait olmayan kenar/kenarları işaretleyelim.

- ☐ ŞY kenarı  
☐ ÖT kenarı  
☐ ÖY kenarı




Şekle ait olmayan kenar/kenarları işaretleyelim.

- ☐ UR kenarı  
☐ RL kenarı  
☐ LO kenarı



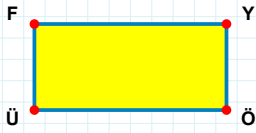
Şekle ait olmayan kenar/kenarları işaretleyelim.

- ☐ GR kenarı  
☐ ĞG kenarı  
☐ RV kenarı




Şekle ait olmayan kenar/kenarları işaretleyelim.

- ☐ JZ kenarı  
☐ TZ kenarı  
☐ DT kenarı



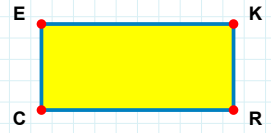
Şekle ait olmayan kenar/kenarları işaretleyelim.

- ☐ FÖ kenarı  
☐ ÜF kenarı  
☐ YÜ kenarı



Şekle ait olmayan kenar/kenarları işaretleyelim.

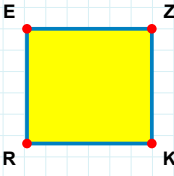
- ☐ ŞB kenarı  
☐ LZ kenarı  
☐ LB kenarı



Şekle ait olmayan kenar/kenarları işaretleyelim.

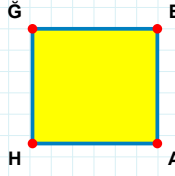
- ☐ ER kenarı  
☐ KC kenarı  
☐ KR kenarı

**SORU:** Aşağıdaki şekillerde verilen kenarlardan şekle ait olmayanı bulunuz.



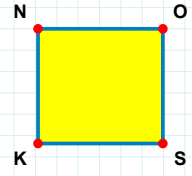
Şekle ait olmayan kenar/kenarları işaretleyelim.

- ☐ EK kenarı  
☐ ZK kenarı  
☐ ZR kenarı



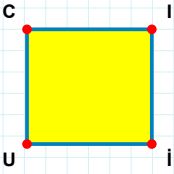
Şekle ait olmayan kenar/kenarları işaretleyelim.

- ☐ ĞA kenarı  
☐ HĞ kenarı  
☐ EA kenarı



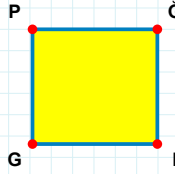
Şekle ait olmayan kenar/kenarları işaretleyelim.

- ☐ SK kenarı  
☐ NS kenarı  
☐ OS kenarı



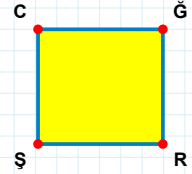
Şekle ait olmayan kenar/kenarları işaretleyelim.

- ☐ UC kenarı  
☐ IU kenarı  
☐ CI kenarı



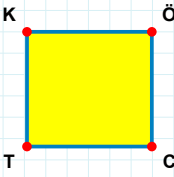
Şekle ait olmayan kenar/kenarları işaretleyelim.

- ☐ GP kenarı  
☐ PI kenarı  
☐ ĞG kenarı



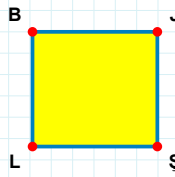
Şekle ait olmayan kenar/kenarları işaretleyelim.

- ☐ ĞŞ kenarı  
☐ ŞC kenarı  
☐ CR kenarı



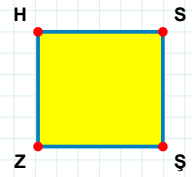
Şekle ait olmayan kenar/kenarları işaretleyelim.

- ☐ ÖT kenarı  
☐ CT kenarı  
☐ KÖ kenarı



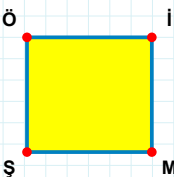
Şekle ait olmayan kenar/kenarları işaretleyelim.

- ☐ BŞ kenarı  
☐ ŞL kenarı  
☐ JL kenarı



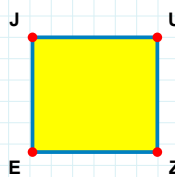
Şekle ait olmayan kenar/kenarları işaretleyelim.

- ☐ ŞZ kenarı  
☐ HŞ kenarı  
☐ SZ kenarı



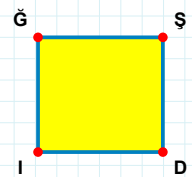
Şekle ait olmayan kenar/kenarları işaretleyelim.

- ☐ İŞ kenarı  
☐ ŞÖ kenarı  
☐ Öİ kenarı



Şekle ait olmayan kenar/kenarları işaretleyelim.

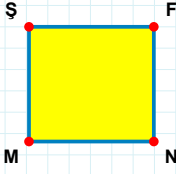
- ☐ UE kenarı  
☐ JZ kenarı  
☐ UZ kenarı



Şekle ait olmayan kenar/kenarları işaretleyelim.

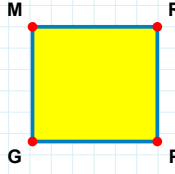
- ☐ ĞŞ kenarı  
☐ ĞD kenarı  
☐ Şİ kenarı

**SORU:** Aşağıdaki şekillerde verilen kenarlardan şekle ait olmayanı bulunuz.



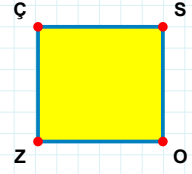
Şekle ait olmayan kenar/kenarları işaretleyelim.

- ☐ NM kenarı  
☐ ŞN kenarı  
☐ FM kenarı



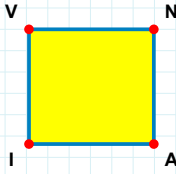
Şekle ait olmayan kenar/kenarları işaretleyelim.

- ☐ MP kenarı  
☐ GM kenarı  
☐ PG kenarı



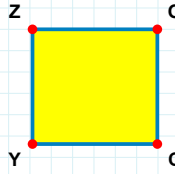
Şekle ait olmayan kenar/kenarları işaretleyelim.

- ☐ ÇS kenarı  
☐ ÇO kenarı  
☐ ZÇ kenarı



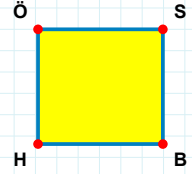
Şekle ait olmayan kenar/kenarları işaretleyelim.

- ☐ NI kenarı  
☐ IV kenarı  
☐ VA kenarı



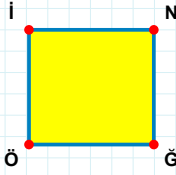
Şekle ait olmayan kenar/kenarları işaretleyelim.

- ☐ CY kenarı  
☐ ZC kenarı  
☐ ZO kenarı



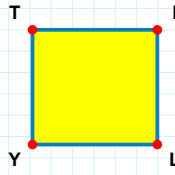
Şekle ait olmayan kenar/kenarları işaretleyelim.

- ☐ SH kenarı  
☐ SB kenarı  
☐ ÖB kenarı



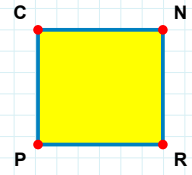
Şekle ait olmayan kenar/kenarları işaretleyelim.

- ☐ İĞ kenarı  
☐ Öİ kenarı  
☐ NĞ kenarı



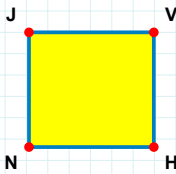
Şekle ait olmayan kenar/kenarları işaretleyelim.

- ☐ İY kenarı  
☐ YT kenarı  
☐ TL kenarı



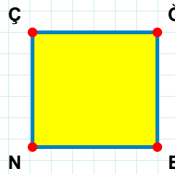
Şekle ait olmayan kenar/kenarları işaretleyelim.

- ☐ CR kenarı  
☐ NP kenarı  
☐ RP kenarı



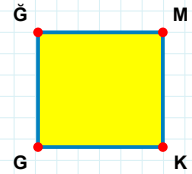
Şekle ait olmayan kenar/kenarları işaretleyelim.

- ☐ JH kenarı  
☐ NJ kenarı  
☐ HN kenarı



Şekle ait olmayan kenar/kenarları işaretleyelim.

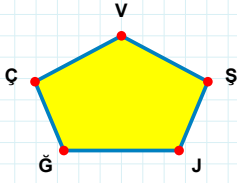
- ☐ ĞB kenarı  
☐ ĞN kenarı  
☐ BN kenarı



Şekle ait olmayan kenar/kenarları işaretleyelim.

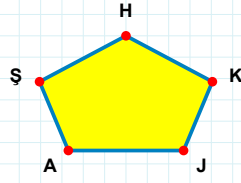
- ☐ KG kenarı  
☐ ĞK kenarı  
☐ GĞ kenarı

**SORU:** Aşağıdaki şekillerde verilen kenarlardan şekle ait olmayanı bulunuz.



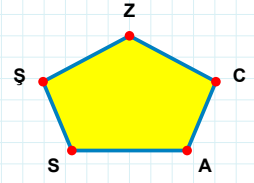
Şekle ait olmayan kenar/kenarları işaretleyelim.

- ☐ GŞ kenarı  
☐ ŞV kenarı  
☐ ÇJ kenarı



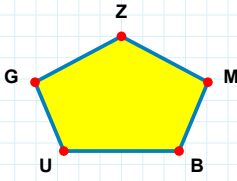
Şekle ait olmayan kenar/kenarları işaretleyelim.

- ☐ JK kenarı  
☐ HA kenarı  
☐ AJ kenarı



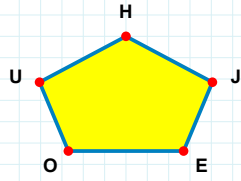
Şekle ait olmayan kenar/kenarları işaretleyelim.

- ☐ ZŞ kenarı  
☐ CZ kenarı  
☐ SC kenarı



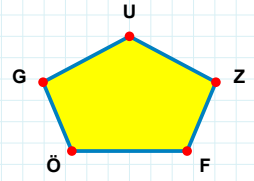
Şekle ait olmayan kenar/kenarları işaretleyelim.

- ☐ GM kenarı  
☐ UB kenarı  
☐ BM kenarı



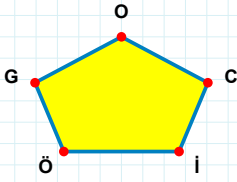
Şekle ait olmayan kenar/kenarları işaretleyelim.

- ☐ UO kenarı  
☐ UJ kenarı  
☐ HO kenarı



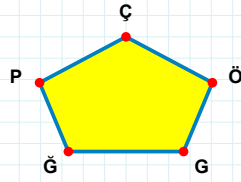
Şekle ait olmayan kenar/kenarları işaretleyelim.

- ☐ GZ kenarı  
☐ GF kenarı  
☐ ÖZ kenarı



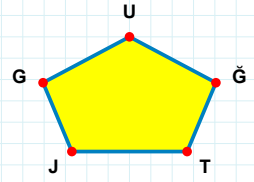
Şekle ait olmayan kenar/kenarları işaretleyelim.

- ☐ GI kenarı  
☐ ÖC kenarı  
☐ OÖ kenarı



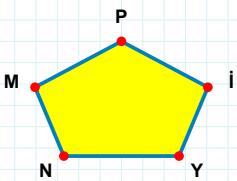
Şekle ait olmayan kenar/kenarları işaretleyelim.

- ☐ ÇG kenarı  
☐ GG kenarı  
☐ ÇP kenarı



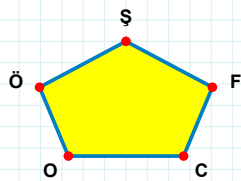
Şekle ait olmayan kenar/kenarları işaretleyelim.

- ☐ GU kenarı  
☐ GG kenarı  
☐ GT kenarı



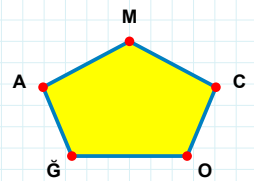
Şekle ait olmayan kenar/kenarları işaretleyelim.

- ☐ NI kenarı  
☐ Yİ kenarı  
☐ NY kenarı



Şekle ait olmayan kenar/kenarları işaretleyelim.

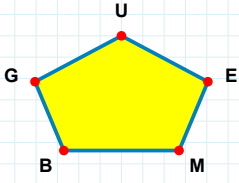
- ☐ CF kenarı  
☐ OC kenarı  
☐ ÖF kenarı



Şekle ait olmayan kenar/kenarları işaretleyelim.

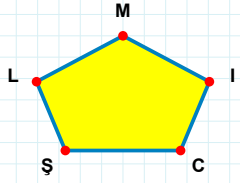
- ☐ MĞ kenarı  
☐ CM kenarı  
☐ AO kenarı

**SORU:** Aşağıdaki şekillerde verilen kenarlardan şekle ait olmayanı bulunuz.



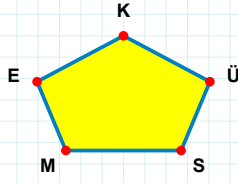
Şekle ait olmayan kenar/kenarları işaretleyelim.

- ☐ BE kenarı  
☐ UB kenarı  
☐ GE kenarı



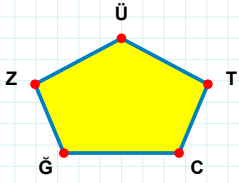
Şekle ait olmayan kenar/kenarları işaretleyelim.

- ☐ LŞ kenarı  
☐ LC kenarı  
☐ MŞ kenarı



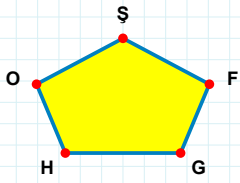
Şekle ait olmayan kenar/kenarları işaretleyelim.

- ☐ KS kenarı  
☐ KM kenarı  
☐ MS kenarı



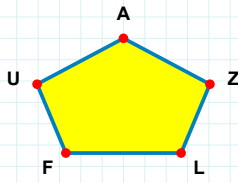
Şekle ait olmayan kenar/kenarları işaretleyelim.

- ☐ ÜC kenarı  
☐ ZĞ kenarı  
☐ ĞC kenarı



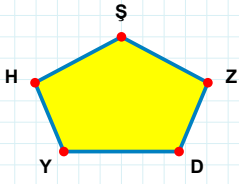
Şekle ait olmayan kenar/kenarları işaretleyelim.

- ☐ OG kenarı  
☐ GF kenarı  
☐ FŞ kenarı



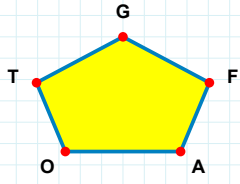
Şekle ait olmayan kenar/kenarları işaretleyelim.

- ☐ UZ kenarı  
☐ UL kenarı  
☐ AL kenarı



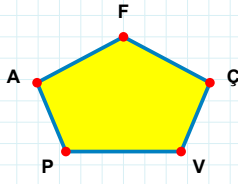
Şekle ait olmayan kenar/kenarları işaretleyelim.

- ☐ HD kenarı  
☐ YZ kenarı  
☐ HY kenarı



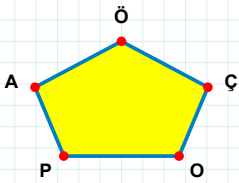
Şekle ait olmayan kenar/kenarları işaretleyelim.

- ☐ TF kenarı  
☐ AF kenarı  
☐ TO kenarı



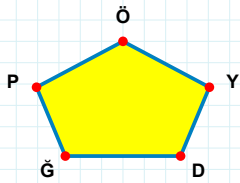
Şekle ait olmayan kenar/kenarları işaretleyelim.

- ☐ PV kenarı  
☐ PÇ kenarı  
☐ AP kenarı



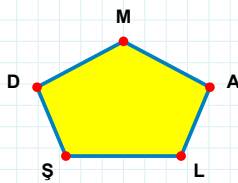
Şekle ait olmayan kenar/kenarları işaretleyelim.

- ☐ ÖO kenarı  
☐ AÇ kenarı  
☐ ÖP kenarı



Şekle ait olmayan kenar/kenarları işaretleyelim.

- ☐ PĞ kenarı  
☐ ÖP kenarı  
☐ ÖĞ kenarı



Şekle ait olmayan kenar/kenarları işaretleyelim.

- ☐ MD kenarı  
☐ DL kenarı  
☐ MŞ kenarı



**SORU:** Aşağıdaki şekillerde verilen kenarlardan şekle ait olmayanı bulunuz.

Şekle ait olmayan kenar/kenarları işaretleyelim.

- ☐ YF kenarı
- ☐ GF kenarı
- ☐ YI kenarı

Şekle ait olmayan kenar/kenarları işaretleyelim.

- ☐ ÇM kenarı
- ☐ MF kenarı
- ☐ Fİ kenarı

Şekle ait olmayan kenar/kenarları işaretleyelim.

- ☐ ÇV kenarı
- ☐ YÇ kenarı
- ☐ ÇJ kenarı

Şekle ait olmayan kenar/kenarları işaretleyelim.

- ☐ CS kenarı
- ☐ IS kenarı
- ☐ CV kenarı

Şekle ait olmayan kenar/kenarları işaretleyelim.

- ☐ BU kenarı
- ☐ UC kenarı
- ☐ BĞ kenarı

Şekle ait olmayan kenar/kenarları işaretleyelim.

- ☐ KS kenarı
- ☐ SJ kenarı
- ☐ CV kenarı

Şekle ait olmayan kenar/kenarları işaretleyelim.

- ☐ BÇ kenarı
- ☐ OP kenarı
- ☐ OÇ kenarı

Şekle ait olmayan kenar/kenarları işaretleyelim.

- ☐ ŞB kenarı
- ☐ YŞ kenarı
- ☐ YĞ kenarı

Şekle ait olmayan kenar/kenarları işaretleyelim.

- ☐ OP kenarı
- ☐ MO kenarı
- ☐ ZM kenarı

Şekle ait olmayan kenar/kenarları işaretleyelim.

- ☐ OZ kenarı
- ☐ PZ kenarı
- ☐ EZ kenarı

Şekle ait olmayan kenar/kenarları işaretleyelim.

- ☐ DĞ kenarı
- ☐ FB kenarı
- ☐ FĞ kenarı

Şekle ait olmayan kenar/kenarları işaretleyelim.

- ☐ SJ kenarı
- ☐ BZ kenarı
- ☐ SB kenarı

**SORU:** Aşağıdaki şekillerde verilen kenarlardan şekle ait olmayanı bulunuz.

Şekle ait olmayan kenar/kenarları işaretleyelim.

☐ JT kenarı

☐ ÖU kenarı

☐ JÖ kenarı

Şekle ait olmayan kenar/kenarları işaretleyelim.

☐ AE kenarı

☐ ĞE kenarı

☐ ÇR kenarı

Şekle ait olmayan kenar/kenarları işaretleyelim.

☐ ĞH kenarı

☐ HF kenarı

☐ ĞN kenarı

Şekle ait olmayan kenar/kenarları işaretleyelim.

☐ ĞJ kenarı

☐ İĞ kenarı

☐ OE kenarı

Şekle ait olmayan kenar/kenarları işaretleyelim.

☐ ŞO kenarı

☐ OM kenarı

☐ ÖO kenarı

Şekle ait olmayan kenar/kenarları işaretleyelim.

☐ ÜZ kenarı

☐ NZ kenarı

☐ ÜU kenarı

Şekle ait olmayan kenar/kenarları işaretleyelim.

☐ MF kenarı

☐ MA kenarı

☐ FO kenarı

Şekle ait olmayan kenar/kenarları işaretleyelim.

☐ ĞN kenarı

☐ ÇB kenarı

☐ NÇ kenarı

Şekle ait olmayan kenar/kenarları işaretleyelim.

☐ NM kenarı

☐ NT kenarı

☐ MT kenarı

Şekle ait olmayan kenar/kenarları işaretleyelim.

☐ KB kenarı

☐ TB kenarı

☐ MT kenarı

Şekle ait olmayan kenar/kenarları işaretleyelim.

☐ NT kenarı

☐ SI kenarı

☐ SN kenarı

Şekle ait olmayan kenar/kenarları işaretleyelim.

☐ ÖE kenarı

☐ ÖD kenarı

☐ DN kenarı

**SORU:** Aşağıdaki şekillerde verilen kenarlardan şekle ait olmayanı bulunuz.

Şekle ait olmayan kenar/kenarları işaretleyelim.

- ☐ VS kenarı
- ☐ CJ kenarı
- ☐ SD kenarı

Şekle ait olmayan kenar/kenarları işaretleyelim.

- ☐ TĞ kenarı
- ☐ ÜT kenarı
- ☐ DL kenarı

Şekle ait olmayan kenar/kenarları işaretleyelim.

- ☐ PZ kenarı
- ☐ İT kenarı
- ☐ ZU kenarı

Şekle ait olmayan kenar/kenarları işaretleyelim.

- ☐ ÜT kenarı
- ☐ TÖ kenarı
- ☐ CS kenarı

Şekle ait olmayan kenar/kenarları işaretleyelim.

- ☐ MH kenarı
- ☐ MB kenarı
- ☐ BH kenarı

Şekle ait olmayan kenar/kenarları işaretleyelim.

- ☐ VG kenarı
- ☐ DV kenarı
- ☐ VT kenarı

Şekle ait olmayan kenar/kenarları işaretleyelim.

- ☐ LC kenarı
- ☐ KN kenarı
- ☐ CK kenarı

Şekle ait olmayan kenar/kenarları işaretleyelim.

- ☐ NĞ kenarı
- ☐ NÇ kenarı
- ☐ ÇL kenarı

Şekle ait olmayan kenar/kenarları işaretleyelim.

- ☐ TZ kenarı
- ☐ TK kenarı
- ☐ KÇ kenarı

Şekle ait olmayan kenar/kenarları işaretleyelim.

- ☐ SZ kenarı
- ☐ BG kenarı
- ☐ GÜ kenarı

Şekle ait olmayan kenar/kenarları işaretleyelim.

- ☐ VG kenarı
- ☐ TV kenarı
- ☐ ES kenarı

Şekle ait olmayan kenar/kenarları işaretleyelim.

- ☐ GR kenarı
- ☐ ÇF kenarı
- ☐ GH kenarı

**SORU:** Aşağıdaki şekillerde verilen kenarlardan şekle ait olmayanı bulunuz.

Şekle ait olmayan kenar/kenarları işaretleyelim.

- ☐ FO kenarı
- ☐ FL kenarı
- ☐ UÜ kenarı

Şekle ait olmayan kenar/kenarları işaretleyelim.

- ☐ IÜ kenarı
- ☐ PI kenarı
- ☐ OU kenarı

Şekle ait olmayan kenar/kenarları işaretleyelim.

- ☐ Üİ kenarı
- ☐ VI kenarı
- ☐ ÜC kenarı

Şekle ait olmayan kenar/kenarları işaretleyelim.

- ☐ DI kenarı
- ☐ Zİ kenarı
- ☐ ZD kenarı

Şekle ait olmayan kenar/kenarları işaretleyelim.

- ☐ TD kenarı
- ☐ ÖR kenarı
- ☐ ÖM kenarı

Şekle ait olmayan kenar/kenarları işaretleyelim.

- ☐ YL kenarı
- ☐ TÜ kenarı
- ☐ ZY kenarı

Şekle ait olmayan kenar/kenarları işaretleyelim.

- ☐ YF kenarı
- ☐ PC kenarı
- ☐ RP kenarı

Şekle ait olmayan kenar/kenarları işaretleyelim.

- ☐ PG kenarı
- ☐ İE kenarı
- ☐ ED kenarı

Şekle ait olmayan kenar/kenarları işaretleyelim.

- ☐ AV kenarı
- ☐ ZV kenarı
- ☐ VÇ kenarı

Şekle ait olmayan kenar/kenarları işaretleyelim.

- ☐ LF kenarı
- ☐ ZL kenarı
- ☐ FS kenarı

Şekle ait olmayan kenar/kenarları işaretleyelim.

- ☐ RA kenarı
- ☐ MG kenarı
- ☐ ĞA kenarı

Şekle ait olmayan kenar/kenarları işaretleyelim.

- ☐ SB kenarı
- ☐ EB kenarı
- ☐ GB kenarı

**SORU:** Aşağıdaki şekillerde verilen kenarlardan şekle ait olmayanı bulunuz.

Şekle ait olmayan kenar/kenarları işaretleyelim.

☐ ŞÇ kenarı  
☐ YO kenarı  
☐ OŞ kenarı

Şekle ait olmayan kenar/kenarları işaretleyelim.

☐ ÖB kenarı  
☐ ZK kenarı  
☐ ÖA kenarı

Şekle ait olmayan kenar/kenarları işaretleyelim.

☐ IT kenarı  
☐ ŞB kenarı  
☐ ŞN kenarı

Şekle ait olmayan kenar/kenarları işaretleyelim.

☐ SV kenarı  
☐ PV kenarı  
☐ PS kenarı

Şekle ait olmayan kenar/kenarları işaretleyelim.

☐ ĞO kenarı  
☐ TO kenarı  
☐ TL kenarı

Şekle ait olmayan kenar/kenarları işaretleyelim.

☐ IS kenarı  
☐ İ kenarı  
☐ ĞI kenarı

Şekle ait olmayan kenar/kenarları işaretleyelim.

☐ LS kenarı  
☐ LF kenarı  
☐ LP kenarı

Şekle ait olmayan kenar/kenarları işaretleyelim.

☐ ÜC kenarı  
☐ AK kenarı  
☐ IC kenarı

Şekle ait olmayan kenar/kenarları işaretleyelim.

☐ BU kenarı  
☐ RK kenarı  
☐ DB kenarı

Şekle ait olmayan kenar/kenarları işaretleyelim.

☐ İO kenarı  
☐ ÜÜ kenarı  
☐ Bİ kenarı

Şekle ait olmayan kenar/kenarları işaretleyelim.

☐ AÇ kenarı  
☐ ĞA kenarı  
☐ GŞ kenarı

Şekle ait olmayan kenar/kenarları işaretleyelim.

☐ JB kenarı  
☐ ÖZ kenarı  
☐ JZ kenarı

**SORU:** Aşağıdaki şekillerde verilen kenarlardan şekle ait olmayanı bulunuz.

Şekle ait olmayan kenar/kenarları işaretleyelim.

☐ CO kenarı  
☐ KC kenarı  
☐ CÇ kenarı

Şekle ait olmayan kenar/kenarları işaretleyelim.

☐ İÜ kenarı  
☐ DA kenarı  
☐ VA kenarı

Şekle ait olmayan kenar/kenarları işaretleyelim.

☐ ZA kenarı  
☐ YM kenarı  
☐ İM kenarı

Şekle ait olmayan kenar/kenarları işaretleyelim.

☐ PÜ kenarı  
☐ PU kenarı  
☐ UV kenarı

Şekle ait olmayan kenar/kenarları işaretleyelim.

☐ TN kenarı  
☐ CU kenarı  
☐ ZU kenarı

Şekle ait olmayan kenar/kenarları işaretleyelim.

☐ YR kenarı  
☐ HÇ kenarı  
☐ YĞ kenarı

Şekle ait olmayan kenar/kenarları işaretleyelim.

☐ PG kenarı  
☐ CJ kenarı  
☐ EG kenarı

Şekle ait olmayan kenar/kenarları işaretleyelim.

☐ MD kenarı  
☐ ÖH kenarı  
☐ CH kenarı

Şekle ait olmayan kenar/kenarları işaretleyelim.

☐ TU kenarı  
☐ EL kenarı  
☐ JT kenarı

Şekle ait olmayan kenar/kenarları işaretleyelim.

☐ AB kenarı  
☐ FI kenarı  
☐ EA kenarı

Şekle ait olmayan kenar/kenarları işaretleyelim.

☐ ÖO kenarı  
☐ DB kenarı  
☐ AO kenarı

Şekle ait olmayan kenar/kenarları işaretleyelim.

☐ İC kenarı  
☐ ZR kenarı  
☐ Üİ kenarı

**SORU:** Aşağıdaki şekillerde verilen kenarlardan şekle ait olmayanı bulunuz.

Şekle ait olmayan kenar/kenarları işaretleyelim.

☐ DL kenarı  
☐ ED kenarı  
☐ GD kenarı

Şekle ait olmayan kenar/kenarları işaretleyelim.

☐ ÖP kenarı  
☐ ÖZ kenarı  
☐ ÖÇ kenarı

Şekle ait olmayan kenar/kenarları işaretleyelim.

☐ CM kenarı  
☐ LJ kenarı  
☐ MU kenarı

Şekle ait olmayan kenar/kenarları işaretleyelim.

☐ İİ kenarı  
☐ FI kenarı  
☐ EF kenarı

Şekle ait olmayan kenar/kenarları işaretleyelim.

☐ ÜD kenarı  
☐ OD kenarı  
☐ UE kenarı

Şekle ait olmayan kenar/kenarları işaretleyelim.

☐ RE kenarı  
☐ ED kenarı  
☐ ÇJ kenarı

Şekle ait olmayan kenar/kenarları işaretleyelim.

☐ BD kenarı  
☐ OB kenarı  
☐ İÜ kenarı

Şekle ait olmayan kenar/kenarları işaretleyelim.

☐ HŞ kenarı  
☐ GA kenarı  
☐ NM kenarı

Şekle ait olmayan kenar/kenarları işaretleyelim.

☐ EA kenarı  
☐ OE kenarı  
☐ İJ kenarı

Şekle ait olmayan kenar/kenarları işaretleyelim.

☐ PJ kenarı  
☐ ZJ kenarı  
☐ JY kenarı

Şekle ait olmayan kenar/kenarları işaretleyelim.

☐ OA kenarı  
☐ ZO kenarı  
☐ VO kenarı

Şekle ait olmayan kenar/kenarları işaretleyelim.

☐ EC kenarı  
☐ İİ kenarı  
☐ Jİ kenarı

**SORU:** Aşağıdaki şekillerde verilen kenarlardan şekle ait olmayanı bulunuz.

Şekle ait olmayan kenar/kenarları işaretleyelim.

☐ ÜÖ kenarı  
☐ ME kenarı  
☐ ÜE kenarı

Şekle ait olmayan kenar/kenarları işaretleyelim.

☐ OG kenarı  
☐ RO kenarı  
☐ VŞ kenarı

Şekle ait olmayan kenar/kenarları işaretleyelim.

☐ NM kenarı  
☐ MH kenarı  
☐ İN kenarı

Şekle ait olmayan kenar/kenarları işaretleyelim.

☐ IL kenarı  
☐ ZV kenarı  
☐ VC kenarı

Şekle ait olmayan kenar/kenarları işaretleyelim.

☐ ND kenarı  
☐ ID kenarı  
☐ IA kenarı

Şekle ait olmayan kenar/kenarları işaretleyelim.

☐ FB kenarı  
☐ FV kenarı  
☐ TG kenarı

Şekle ait olmayan kenar/kenarları işaretleyelim.

☐ GM kenarı  
☐ JU kenarı  
☐ ZM kenarı

Şekle ait olmayan kenar/kenarları işaretleyelim.

☐ ĞY kenarı  
☐ ŞF kenarı  
☐ ŞD kenarı

Şekle ait olmayan kenar/kenarları işaretleyelim.

☐ İG kenarı  
☐ FĞ kenarı  
☐ TI kenarı

Şekle ait olmayan kenar/kenarları işaretleyelim.

☐ AN kenarı  
☐ SN kenarı  
☐ US kenarı

Şekle ait olmayan kenar/kenarları işaretleyelim.

☐ UE kenarı  
☐ GI kenarı  
☐ FE kenarı

Şekle ait olmayan kenar/kenarları işaretleyelim.

☐ KG kenarı  
☐ ÖJ kenarı  
☐ CJ kenarı



**SORU:** Aşağıdaki şekillerde verilen kenarlardan şekle ait olmayanı bulunuz.

Şekle ait olmayan kenar/kenarları işaretleyelim.

☐ KL kenarı

☐ TF kenarı

☐ TL kenarı

Şekle ait olmayan kenar/kenarları işaretleyelim.

☐ ĞI kenarı

☐ NI kenarı

☐ CĞ kenarı

Şekle ait olmayan kenar/kenarları işaretleyelim.

☐ Ri kenarı

☐ OÖ kenarı

☐ İO kenarı

Şekle ait olmayan kenar/kenarları işaretleyelim.

☐ UY kenarı

☐ UL kenarı

☐ YÇ kenarı

Şekle ait olmayan kenar/kenarları işaretleyelim.

☐ Oİ kenarı

☐ İÜ kenarı

☐ Üİ kenarı

Şekle ait olmayan kenar/kenarları işaretleyelim.

☐ İL kenarı

☐ LH kenarı

☐ İH kenarı

Şekle ait olmayan kenar/kenarları işaretleyelim.

☐ YŞ kenarı

☐ ŞN kenarı

☐ NY kenarı

Şekle ait olmayan kenar/kenarları işaretleyelim.

☐ ÜV kenarı

☐ RS kenarı

☐ VS kenarı

Şekle ait olmayan kenar/kenarları işaretleyelim.

☐ KB kenarı

☐ ÖŞ kenarı

☐ KŞ kenarı

Şekle ait olmayan kenar/kenarları işaretleyelim.

☐ LŞ kenarı

☐ RL kenarı

☐ GŞ kenarı

Şekle ait olmayan kenar/kenarları işaretleyelim.

☐ PA kenarı

☐ PÜ kenarı

☐ EP kenarı

Şekle ait olmayan kenar/kenarları işaretleyelim.

☐ SŞ kenarı

☐ ŞY kenarı

☐ JY kenarı

**SORU:** Aşağıdaki şekillerde verilen kenarlardan şekle ait olmayanı bulunuz.

Şekle ait olmayan kenar/kenarları işaretleyelim.

☐ UI kenarı

☐ ÇK kenarı

☐ UÇ kenarı

Şekle ait olmayan kenar/kenarları işaretleyelim.

☐ BO kenarı

☐ PB kenarı

☐ VO kenarı

Şekle ait olmayan kenar/kenarları işaretleyelim.

☐ DU kenarı

☐ EU kenarı

☐ UI kenarı

Şekle ait olmayan kenar/kenarları işaretleyelim.

☐ BS kenarı

☐ KS kenarı

☐ BT kenarı

Şekle ait olmayan kenar/kenarları işaretleyelim.

☐ OK kenarı

☐ RK kenarı

☐ RO kenarı

Şekle ait olmayan kenar/kenarları işaretleyelim.

☐ SL kenarı

☐ ŞS kenarı

☐ HL kenarı

Şekle ait olmayan kenar/kenarları işaretleyelim.

☐ YF kenarı

☐ YV kenarı

☐ CF kenarı

Şekle ait olmayan kenar/kenarları işaretleyelim.

☐ ŞZ kenarı

☐ İU kenarı

☐ ZU kenarı

Şekle ait olmayan kenar/kenarları işaretleyelim.

☐ LP kenarı

☐ ZL kenarı

☐ ZĞ kenarı

Şekle ait olmayan kenar/kenarları işaretleyelim.

☐ ÇG kenarı

☐ KS kenarı

☐ KG kenarı

Şekle ait olmayan kenar/kenarları işaretleyelim.

☐ İY kenarı

☐ TK kenarı

☐ YK kenarı

Şekle ait olmayan kenar/kenarları işaretleyelim.

☐ DC kenarı

☐ CÖ kenarı

☐ JD kenarı

**SORU:** Aşağıdaki şekillerde verilen kenarlardan şekle ait olmayanı bulunuz.

Şekle ait olmayan kenar/kenarları işaretleyelim.

- ☐ IN kenarı
- ☐ IG kenarı
- ☐ NM kenarı

Şekle ait olmayan kenar/kenarları işaretleyelim.

- ☐ İŞ kenarı
- ☐ İM kenarı
- ☐ ÇM kenarı

Şekle ait olmayan kenar/kenarları işaretleyelim.

- ☐ RZ kenarı
- ☐ NR kenarı
- ☐ LZ kenarı

Şekle ait olmayan kenar/kenarları işaretleyelim.

- ☐ NL kenarı
- ☐ PL kenarı
- ☐ NG kenarı

Şekle ait olmayan kenar/kenarları işaretleyelim.

- ☐ UÖ kenarı
- ☐ RÖ kenarı
- ☐ ÇR kenarı

Şekle ait olmayan kenar/kenarları işaretleyelim.

- ☐ US kenarı
- ☐ İS kenarı
- ☐ İP kenarı

Şekle ait olmayan kenar/kenarları işaretleyelim.

- ☐ VG kenarı
- ☐ FS kenarı
- ☐ FG kenarı

Şekle ait olmayan kenar/kenarları işaretleyelim.

- ☐ BE kenarı
- ☐ MC kenarı
- ☐ EM kenarı

Şekle ait olmayan kenar/kenarları işaretleyelim.

- ☐ PL kenarı
- ☐ YL kenarı
- ☐ BY kenarı

Şekle ait olmayan kenar/kenarları işaretleyelim.

- ☐ MS kenarı
- ☐ MY kenarı
- ☐ YZ kenarı

Şekle ait olmayan kenar/kenarları işaretleyelim.

- ☐ EÖ kenarı
- ☐ VE kenarı
- ☐ ĞV kenarı

Şekle ait olmayan kenar/kenarları işaretleyelim.

- ☐ BH kenarı
- ☐ JH kenarı
- ☐ BJ kenarı

**SORU:** Aşağıdaki şekillerde verilen kenarlardan şekle ait olmayanı bulunuz.

Şekle ait olmayan kenar/kenarları işaretleyelim.

- ☐ SG kenarı
- ☐ VA kenarı
- ☐ GA kenarı

Şekle ait olmayan kenar/kenarları işaretleyelim.

- ☐ JG kenarı
- ☐ UE kenarı
- ☐ UJ kenarı

Şekle ait olmayan kenar/kenarları işaretleyelim.

- ☐ PÜ kenarı
- ☐ ÜO kenarı
- ☐ PN kenarı

Şekle ait olmayan kenar/kenarları işaretleyelim.

- ☐ OD kenarı
- ☐ DF kenarı
- ☐ FO kenarı

Şekle ait olmayan kenar/kenarları işaretleyelim.

- ☐ AĞ kenarı
- ☐ GS kenarı
- ☐ FG kenarı

Şekle ait olmayan kenar/kenarları işaretleyelim.

- ☐ OY kenarı
- ☐ HR kenarı
- ☐ RY kenarı

Şekle ait olmayan kenar/kenarları işaretleyelim.

- ☐ AR kenarı
- ☐ RV kenarı
- ☐ AV kenarı

Şekle ait olmayan kenar/kenarları işaretleyelim.

- ☐ JG kenarı
- ☐ VJ kenarı
- ☐ NJ kenarı

Şekle ait olmayan kenar/kenarları işaretleyelim.

- ☐ UI kenarı
- ☐ RU kenarı
- ☐ IP kenarı

Şekle ait olmayan kenar/kenarları işaretleyelim.

- ☐ JH kenarı
- ☐ JB kenarı
- ☐ BÖ kenarı

Şekle ait olmayan kenar/kenarları işaretleyelim.

- ☐ PM kenarı
- ☐ DV kenarı
- ☐ VP kenarı

Şekle ait olmayan kenar/kenarları işaretleyelim.

- ☐ ZJ kenarı
- ☐ BN kenarı
- ☐ BJ kenarı

**SORU:** Aşağıdaki şekillerde verilen kenarlardan şekle ait olmayanı bulunuz.

Şekle ait olmayan kenar/kenarları işaretleyelim.

☐ NL kenarı  
☐ ÜN kenarı  
☐ ÜD kenarı

Şekle ait olmayan kenar/kenarları işaretleyelim.

☐ NY kenarı  
☐ YL kenarı  
☐ IN kenarı

Şekle ait olmayan kenar/kenarları işaretleyelim.

☐ ÜŞ kenarı  
☐ ÜU kenarı  
☐ UĞ kenarı

Şekle ait olmayan kenar/kenarları işaretleyelim.

☐ SP kenarı  
☐ PK kenarı  
☐ TK kenarı

Şekle ait olmayan kenar/kenarları işaretleyelim.

☐ HY kenarı  
☐ TI kenarı  
☐ IY kenarı

Şekle ait olmayan kenar/kenarları işaretleyelim.

☐ EZ kenarı  
☐ ŞF kenarı  
☐ EF kenarı

Şekle ait olmayan kenar/kenarları işaretleyelim.

☐ JZ kenarı  
☐ DJ kenarı  
☐ ZF kenarı

Şekle ait olmayan kenar/kenarları işaretleyelim.

☐ ÜE kenarı  
☐ SJ kenarı  
☐ EJ kenarı

Şekle ait olmayan kenar/kenarları işaretleyelim.

☐ EA kenarı  
☐ AZ kenarı  
☐ LZ kenarı

Şekle ait olmayan kenar/kenarları işaretleyelim.

☐ CF kenarı  
☐ ÜC kenarı  
☐ CB kenarı

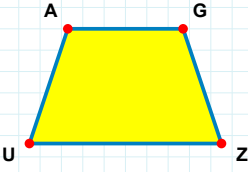
Şekle ait olmayan kenar/kenarları işaretleyelim.

☐ YT kenarı  
☐ YK kenarı  
☐ TI kenarı

Şekle ait olmayan kenar/kenarları işaretleyelim.

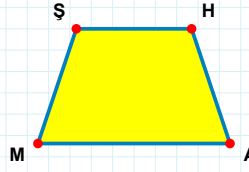
☐ IĞ kenarı  
☐ RI kenarı  
☐ ĞR kenarı

**SORU:** Aşağıdaki şekillerde verilen kenarlardan şekle ait olmayanı bulunuz.



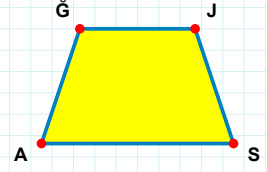
Şekle ait olmayan kenar/kenarları işaretleyelim.

- ☐ GZ kenarı  
☐ ZU kenarı  
☐ AZ kenarı



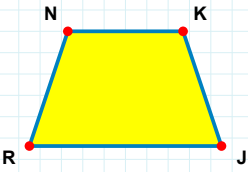
Şekle ait olmayan kenar/kenarları işaretleyelim.

- ☐ HM kenarı  
☐ ŞA kenarı  
☐ HA kenarı



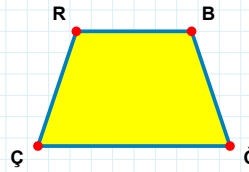
Şekle ait olmayan kenar/kenarları işaretleyelim.

- ☐ AĞ kenarı  
☐ JS kenarı  
☐ ĞS kenarı



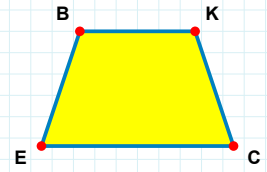
Şekle ait olmayan kenar/kenarları işaretleyelim.

- ☐ RN kenarı  
☐ NJ kenarı  
☐ KR kenarı



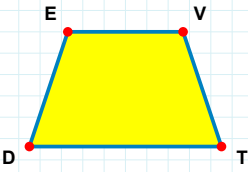
Şekle ait olmayan kenar/kenarları işaretleyelim.

- ☐ BĞ kenarı  
☐ BÇ kenarı  
☐ RĞ kenarı



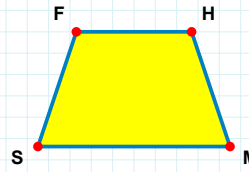
Şekle ait olmayan kenar/kenarları işaretleyelim.

- ☐ CE kenarı  
☐ KC kenarı  
☐ BC kenarı



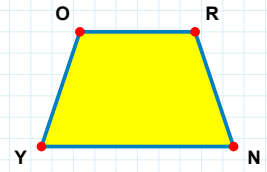
Şekle ait olmayan kenar/kenarları işaretleyelim.

- ☐ TD kenarı  
☐ VD kenarı  
☐ ET kenarı



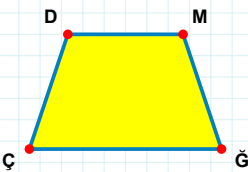
Şekle ait olmayan kenar/kenarları işaretleyelim.

- ☐ HS kenarı  
☐ MS kenarı  
☐ SF kenarı



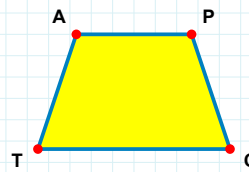
Şekle ait olmayan kenar/kenarları işaretleyelim.

- ☐ YO kenarı  
☐ RY kenarı  
☐ RN kenarı



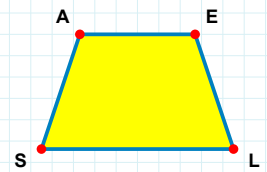
Şekle ait olmayan kenar/kenarları işaretleyelim.

- ☐ MÇ kenarı  
☐ DM kenarı  
☐ DĞ kenarı



Şekle ait olmayan kenar/kenarları işaretleyelim.

- ☐ PC kenarı  
☐ PT kenarı  
☐ AC kenarı



Şekle ait olmayan kenar/kenarları işaretleyelim.

- ☐ EL kenarı  
☐ AL kenarı  
☐ ES kenarı

**SORU:** Aşağıdaki şekillerde verilen kenarlardan şekle ait olmayanı bulunuz.

Şekle ait olmayan kenar/kenarları işaretleyelim.

- ☐ EP kenarı
- ☐ ÜK kenarı
- ☐ KE kenarı

Şekle ait olmayan kenar/kenarları işaretleyelim.

- ☐ FL kenarı
- ☐ ĞJ kenarı
- ☐ JL kenarı

Şekle ait olmayan kenar/kenarları işaretleyelim.

- ☐ İÜ kenarı
- ☐ Bİ kenarı
- ☐ ÜB kenarı

Şekle ait olmayan kenar/kenarları işaretleyelim.

- ☐ HT kenarı
- ☐ ĞÖ kenarı
- ☐ ÖT kenarı

Şekle ait olmayan kenar/kenarları işaretleyelim.

- ☐ GO kenarı
- ☐ GM kenarı
- ☐ OM kenarı

Şekle ait olmayan kenar/kenarları işaretleyelim.

- ☐ DR kenarı
- ☐ VK kenarı
- ☐ RK kenarı

Şekle ait olmayan kenar/kenarları işaretleyelim.

- ☐ İÜ kenarı
- ☐ Cİ kenarı
- ☐ CV kenarı

Şekle ait olmayan kenar/kenarları işaretleyelim.

- ☐ NĞ kenarı
- ☐ ZT kenarı
- ☐ NT kenarı

Şekle ait olmayan kenar/kenarları işaretleyelim.

- ☐ UJ kenarı
- ☐ FÜ kenarı
- ☐ UF kenarı

Şekle ait olmayan kenar/kenarları işaretleyelim.

- ☐ HJ kenarı
- ☐ LĞ kenarı
- ☐ JL kenarı

Şekle ait olmayan kenar/kenarları işaretleyelim.

- ☐ ĞL kenarı
- ☐ ÖĞ kenarı
- ☐ Öİ kenarı

Şekle ait olmayan kenar/kenarları işaretleyelim.

- ☐ JS kenarı
- ☐ JŞ kenarı
- ☐ YJ kenarı

**SORU:** Aşağıdaki şekillerde verilen kenarlardan şekle ait olmayanı bulunuz.

Şekle ait olmayan kenar/kenarları işaretleyelim.

☐ RI kenarı  
☐ RF kenarı  
☐ NR kenarı

Şekle ait olmayan kenar/kenarları işaretleyelim.

☐ MU kenarı  
☐ UO kenarı  
☐ ŞO kenarı

Şekle ait olmayan kenar/kenarları işaretleyelim.

☐ ĞÇ kenarı  
☐ ĞE kenarı  
☐ EI kenarı

Şekle ait olmayan kenar/kenarları işaretleyelim.

☐ ZY kenarı  
☐ DN kenarı  
☐ NZ kenarı

Şekle ait olmayan kenar/kenarları işaretleyelim.

☐ ML kenarı  
☐ LÜ kenarı  
☐ HÜ kenarı

Şekle ait olmayan kenar/kenarları işaretleyelim.

☐ NL kenarı  
☐ NH kenarı  
☐ LI kenarı

Şekle ait olmayan kenar/kenarları işaretleyelim.

☐ IC kenarı  
☐ İV kenarı  
☐ VG kenarı

Şekle ait olmayan kenar/kenarları işaretleyelim.

☐ GK kenarı  
☐ FG kenarı  
☐ KJ kenarı

Şekle ait olmayan kenar/kenarları işaretleyelim.

☐ RE kenarı  
☐ ZE kenarı  
☐ ET kenarı

Şekle ait olmayan kenar/kenarları işaretleyelim.

☐ MJ kenarı  
☐ JY kenarı  
☐ HY kenarı

Şekle ait olmayan kenar/kenarları işaretleyelim.

☐ KA kenarı  
☐ SF kenarı  
☐ FK kenarı

Şekle ait olmayan kenar/kenarları işaretleyelim.

☐ EĞ kenarı  
☐ EO kenarı  
☐ OC kenarı

SÜREÇ ODAKLI DEĞERLENDİRME ÖLÇEĞİ			
Geliştirilmeli (0-100)	İyi (101-172)	Çok İyi (173-244)	Mükemmel (245-288)
<input type="checkbox"/>	<input type="checkbox"/>	<input type="checkbox"/>	<input type="checkbox"/>

Hazırlayan: .....



Bu bölüme sınıfınızın ilgili kazanıma yönelik genel durumuna ilişkin gözlem ve izlenimlerinizi, öğrencilerinizin bu kazanımla ilgili öğrenme eksikliklerini ve bu eksikliklerin giderilmesi amacıyla yaptığınız/yapmayı planladığınız faaliyetleri not edebilirsiniz.

No	Adı - Soyadı	Toplam Puan	Değerlendirme
1			
2			
3			
4			
5			
6			
7			
8			
9			
10			
11			
12			
13			
14			
15			
16			
17			
18			
19			
20			
21			
22			
23			
24			
25			
26			
27			
28			
29			
30			
31			
32			
33			
34			
35			

Hazırlayan: ..... ..