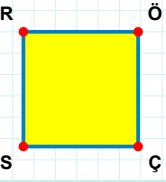
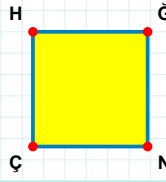


SORU: Aşağıdaki şekillerde verilen kenarlardan şekle ait olmayanı bulunuz.



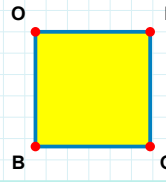
Şekle ait olmayan kenar/kenarları işaretleyelim.

- ☐ ÖS kenarı
☐ RÇ kenarı
☐ ÇS kenarı



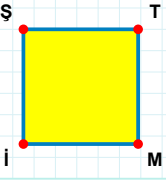
Şekle ait olmayan kenar/kenarları işaretleyelim.

- ☐ HN kenarı
☐ ÇH kenarı
☐ HĞ kenarı



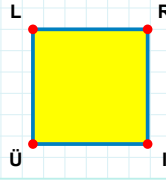
Şekle ait olmayan kenar/kenarları işaretleyelim.

- ☐ OG kenarı
☐ İB kenarı
☐ BO kenarı



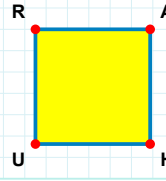
Şekle ait olmayan kenar/kenarları işaretleyelim.

- ☐ ŞM kenarı
☐ Tİ kenarı
☐ Mİ kenarı



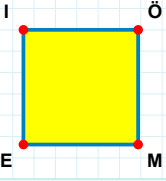
Şekle ait olmayan kenar/kenarları işaretleyelim.

- ☐ ÜL kenarı
☐ RÜ kenarı
☐ Lİ kenarı



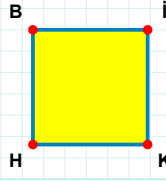
Şekle ait olmayan kenar/kenarları işaretleyelim.

- ☐ AU kenarı
☐ UR kenarı
☐ RH kenarı



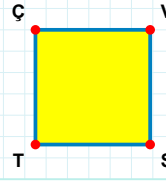
Şekle ait olmayan kenar/kenarları işaretleyelim.

- ☐ İÖ kenarı
☐ ÖE kenarı
☐ İM kenarı



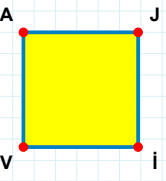
Şekle ait olmayan kenar/kenarları işaretleyelim.

- ☐ KH kenarı
☐ İH kenarı
☐ BK kenarı



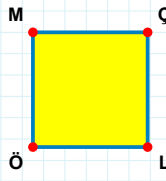
Şekle ait olmayan kenar/kenarları işaretleyelim.

- ☐ ÇV kenarı
☐ ST kenarı
☐ ÇS kenarı



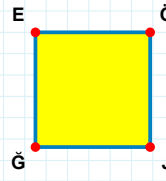
Şekle ait olmayan kenar/kenarları işaretleyelim.

- ☐ İV kenarı
☐ JV kenarı
☐ Aİ kenarı



Şekle ait olmayan kenar/kenarları işaretleyelim.

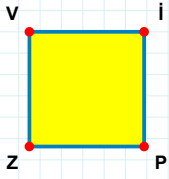
- ☐ ÖM kenarı
☐ ÇÖ kenarı
☐ MÇ kenarı



Şekle ait olmayan kenar/kenarları işaretleyelim.

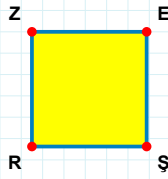
- ☐ ÖĞ kenarı
☐ EJ kenarı
☐ ĞE kenarı

SORU: Aşağıdaki şekillerde verilen kenarlardan şekle ait olmayanı bulunuz.



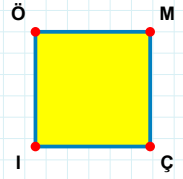
Şekle ait olmayan kenar/kenarları işaretleyelim.

- ☐ ZV kenarı
☐ VP kenarı
☐ PZ kenarı



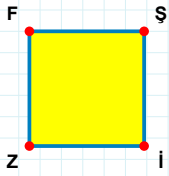
Şekle ait olmayan kenar/kenarları işaretleyelim.

- ☐ ER kenarı
☐ ZE kenarı
☐ ZŞ kenarı



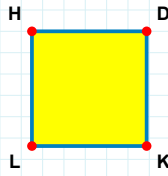
Şekle ait olmayan kenar/kenarları işaretleyelim.

- ☐ ÖM kenarı
☐ İÖ kenarı
☐ Mİ kenarı



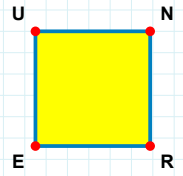
Şekle ait olmayan kenar/kenarları işaretleyelim.

- ☐ FŞ kenarı
☐ Şi kenarı
☐ ŞZ kenarı



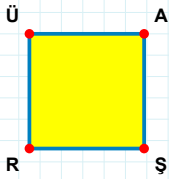
Şekle ait olmayan kenar/kenarları işaretleyelim.

- ☐ HD kenarı
☐ DK kenarı
☐ HK kenarı



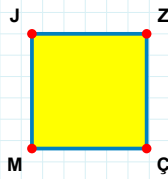
Şekle ait olmayan kenar/kenarları işaretleyelim.

- ☐ UR kenarı
☐ EU kenarı
☐ NE kenarı



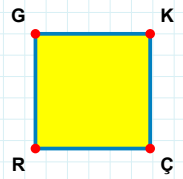
Şekle ait olmayan kenar/kenarları işaretleyelim.

- ☐ AŞ kenarı
☐ AR kenarı
☐ ÜŞ kenarı



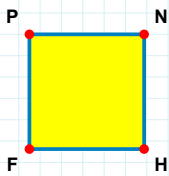
Şekle ait olmayan kenar/kenarları işaretleyelim.

- ☐ JZ kenarı
☐ JÇ kenarı
☐ ZM kenarı



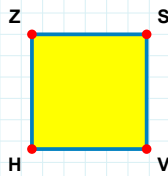
Şekle ait olmayan kenar/kenarları işaretleyelim.

- ☐ RG kenarı
☐ GÇ kenarı
☐ KR kenarı



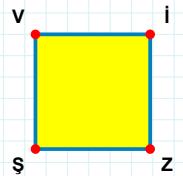
Şekle ait olmayan kenar/kenarları işaretleyelim.

- ☐ PH kenarı
☐ NF kenarı
☐ PN kenarı



Şekle ait olmayan kenar/kenarları işaretleyelim.


- ☐ SH kenarı
☐ SV kenarı
☐ ZV kenarı



Şekle ait olmayan kenar/kenarları işaretleyelim.


- ☐ VZ kenarı
☐ ZŞ kenarı
☐ ŞV kenarı

SORU: Aşağıdaki şekillerde verilen kenarlardan şekle ait olmayanı bulunuz.




Şekle ait olmayan kenar/kenarları işaretleyelim.

- ☐ NT kenarı
☐ IN kenarı
☐ TI kenarı




Şekle ait olmayan kenar/kenarları işaretleyelim.

- ☐ ŞI kenarı
☐ ÜO kenarı
☐ ÜŞ kenarı




Şekle ait olmayan kenar/kenarları işaretleyelim.

- ☐ ÜP kenarı
☐ NH kenarı
☐ ÜN kenarı




Şekle ait olmayan kenar/kenarları işaretleyelim.

- ☐ FY kenarı
☐ MY kenarı
☐ KF kenarı




Şekle ait olmayan kenar/kenarları işaretleyelim.

- ☐ MA kenarı
☐ ÖM kenarı
☐ RÖ kenarı




Şekle ait olmayan kenar/kenarları işaretleyelim.

- ☐ AH kenarı
☐ JL kenarı
☐ LA kenarı




Şekle ait olmayan kenar/kenarları işaretleyelim.

- ☐ AS kenarı
☐ YA kenarı
☐ SY kenarı




Şekle ait olmayan kenar/kenarları işaretleyelim.

- ☐ YT kenarı
☐ CT kenarı
☐ YC kenarı




Şekle ait olmayan kenar/kenarları işaretleyelim.

- ☐ CK kenarı
☐ JC kenarı
☐ KP kenarı




Şekle ait olmayan kenar/kenarları işaretleyelim.

- ☐ JĞ kenarı
☐ ĞV kenarı
☐ OĞ kenarı



Şekle ait olmayan kenar/kenarları işaretleyelim.


- ☐ VU kenarı
☐ PV kenarı
☐ ZU kenarı



Şekle ait olmayan kenar/kenarları işaretleyelim.


- ☐ ĞP kenarı
☐ FI kenarı
☐ İĞ kenarı

SORU: Aşağıdaki şekillerde verilen kenarlardan şekle ait olmayanı bulunuz.




Şekle ait olmayan kenar/kenarları işaretleyelim.

- ☐ İK kenarı
☐ BP kenarı
☐ İB kenarı




Şekle ait olmayan kenar/kenarları işaretleyelim.

- ☐ OH kenarı
☐ TH kenarı
☐ ZT kenarı




Şekle ait olmayan kenar/kenarları işaretleyelim.

- ☐ KT kenarı
☐ NK kenarı
☐ NI kenarı




Şekle ait olmayan kenar/kenarları işaretleyelim.

- ☐ LD kenarı
☐ YD kenarı
☐ YÇ kenarı




Şekle ait olmayan kenar/kenarları işaretleyelim.

- ☐ JP kenarı
☐ YJ kenarı
☐ TY kenarı




Şekle ait olmayan kenar/kenarları işaretleyelim.

- ☐ ÇA kenarı
☐ AZ kenarı
☐ IA kenarı




Şekle ait olmayan kenar/kenarları işaretleyelim.

- ☐ EY kenarı
☐ NĞ kenarı
☐ YĞ kenarı




Şekle ait olmayan kenar/kenarları işaretleyelim.

- ☐ AY kenarı
☐ PH kenarı
☐ YP kenarı




Şekle ait olmayan kenar/kenarları işaretleyelim.

- ☐ MP kenarı
☐ CÜ kenarı
☐ PC kenarı




Şekle ait olmayan kenar/kenarları işaretleyelim.

- ☐ DG kenarı
☐ HG kenarı
☐ GF kenarı



Şekle ait olmayan kenar/kenarları işaretleyelim.

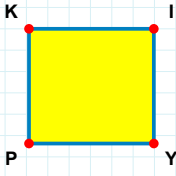
- ☐ CŞ kenarı
☐ BŞ kenarı
☐ TC kenarı



Şekle ait olmayan kenar/kenarları işaretleyelim.

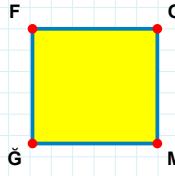
- ☐ GM kenarı
☐ ÜG kenarı
☐ MÜ kenarı

SORU: Aşağıdaki şekillerde verilen kenarlardan şekle ait olmayanı bulunuz.



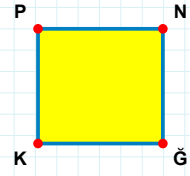
Şekle ait olmayan kenar/kenarları işaretleyelim.

- ☐ YP kenarı
☐ IP kenarı
☐ KY kenarı



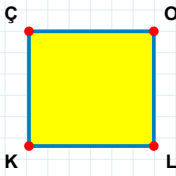
Şekle ait olmayan kenar/kenarları işaretleyelim.

- ☐ OĞ kenarı
☐ FM kenarı
☐ MĞ kenarı



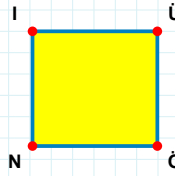
Şekle ait olmayan kenar/kenarları işaretleyelim.

- ☐ PN kenarı
☐ PĞ kenarı
☐ NK kenarı



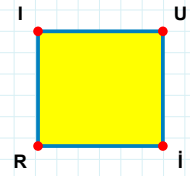
Şekle ait olmayan kenar/kenarları işaretleyelim.

- ☐ LK kenarı
☐ OK kenarı
☐ ÇL kenarı



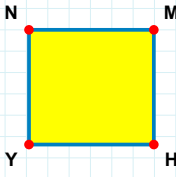
Şekle ait olmayan kenar/kenarları işaretleyelim.

- ☐ ÜN kenarı
☐ İÜ kenarı
☐ NI kenarı



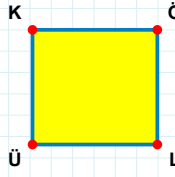
Şekle ait olmayan kenar/kenarları işaretleyelim.

- ☐ RI kenarı
☐ İİ kenarı
☐ IU kenarı



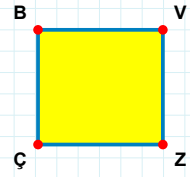
Şekle ait olmayan kenar/kenarları işaretleyelim.

- ☐ NM kenarı
☐ NH kenarı
☐ YN kenarı



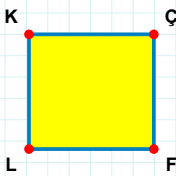
Şekle ait olmayan kenar/kenarları işaretleyelim.

- ☐ KL kenarı
☐ ÖL kenarı
☐ ÖÜ kenarı



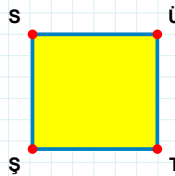
Şekle ait olmayan kenar/kenarları işaretleyelim.

- ☐ VZ kenarı
☐ BV kenarı
☐ VÇ kenarı



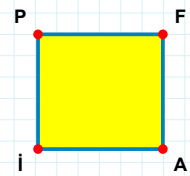
Şekle ait olmayan kenar/kenarları işaretleyelim.

- ☐ FL kenarı
☐ LK kenarı
☐ ÇL kenarı



Şekle ait olmayan kenar/kenarları işaretleyelim.

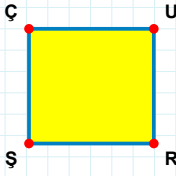
- ☐ ST kenarı
☐ ŞS kenarı
☐ ÜŞ kenarı



Şekle ait olmayan kenar/kenarları işaretleyelim.

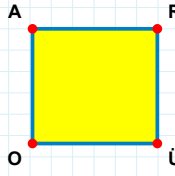
- ☐ PA kenarı
☐ FA kenarı
☐ Fİ kenarı

SORU: Aşağıdaki şekillerde verilen kenarlardan şekle ait olmayanı bulunuz.



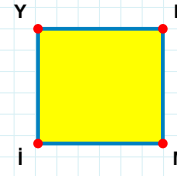
Şekle ait olmayan kenar/kenarları işaretleyelim.

- ☐ ŞÇ kenarı
☐ UR kenarı
☐ UŞ kenarı



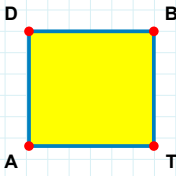
Şekle ait olmayan kenar/kenarları işaretleyelim.

- ☐ RÜ kenarı
☐ RO kenarı
☐ AÜ kenarı



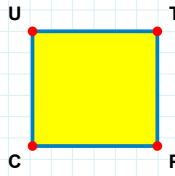
Şekle ait olmayan kenar/kenarları işaretleyelim.

- ☐ Nİ kenarı
☐ YN kenarı
☐ YM kenarı



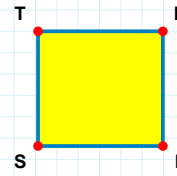
Şekle ait olmayan kenar/kenarları işaretleyelim.

- ☐ DT kenarı
☐ BA kenarı
☐ DB kenarı



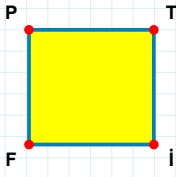
Şekle ait olmayan kenar/kenarları işaretleyelim.

- ☐ PC kenarı
☐ UP kenarı
☐ TC kenarı



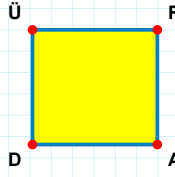
Şekle ait olmayan kenar/kenarları işaretleyelim.

- ☐ TL kenarı
☐ TH kenarı
☐ HS kenarı



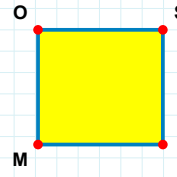
Şekle ait olmayan kenar/kenarları işaretleyelim.

- ☐ TF kenarı
☐ PT kenarı
☐ İF kenarı



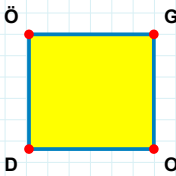
Şekle ait olmayan kenar/kenarları işaretleyelim.

- ☐ ÜR kenarı
☐ ÜA kenarı
☐ RD kenarı



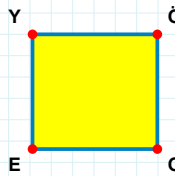
Şekle ait olmayan kenar/kenarları işaretleyelim.

- ☐ OS kenarı
☐ İM kenarı
☐ Oİ kenarı



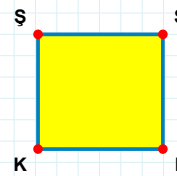
Şekle ait olmayan kenar/kenarları işaretleyelim.

- ☐ GD kenarı
☐ GO kenarı
☐ OD kenarı



Şekle ait olmayan kenar/kenarları işaretleyelim.

- ☐ EY kenarı
☐ ÖE kenarı
☐ YO kenarı



Şekle ait olmayan kenar/kenarları işaretleyelim.

- ☐ KŞ kenarı
☐ SL kenarı
☐ SK kenarı

SORU: Aşağıdaki şekillerde verilen kenarlardan şekle ait olmayanı bulunuz.

Şekle ait olmayan kenar/kenarları işaretleyelim.

☐ TÖ kenarı

☐ PÖ kenarı

☐ ÖM kenarı

Şekle ait olmayan kenar/kenarları işaretleyelim.

☐ TĞ kenarı

☐ ĞŞ kenarı

☐ GĞ kenarı

Şekle ait olmayan kenar/kenarları işaretleyelim.

☐ İG kenarı

☐ GK kenarı

☐ EL kenarı

Şekle ait olmayan kenar/kenarları işaretleyelim.

☐ AI kenarı

☐ TA kenarı

☐ ĞA kenarı

Şekle ait olmayan kenar/kenarları işaretleyelim.

☐ AI kenarı

☐ AL kenarı

☐ AT kenarı

Şekle ait olmayan kenar/kenarları işaretleyelim.

☐ İİ kenarı

☐ IR kenarı

☐ GR kenarı

Şekle ait olmayan kenar/kenarları işaretleyelim.

☐ GZ kenarı

☐ KP kenarı

☐ KD kenarı

Şekle ait olmayan kenar/kenarları işaretleyelim.

☐ KN kenarı

☐ TR kenarı

☐ TK kenarı

Şekle ait olmayan kenar/kenarları işaretleyelim.

☐ BT kenarı

☐ ĞT kenarı

☐ HĞ kenarı

Şekle ait olmayan kenar/kenarları işaretleyelim.

☐ İÇ kenarı

☐ İM kenarı

☐ MB kenarı

Şekle ait olmayan kenar/kenarları işaretleyelim.

☐ OY kenarı

☐ PN kenarı

☐ YP kenarı

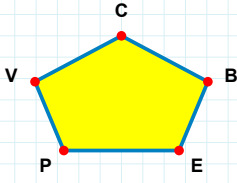
Şekle ait olmayan kenar/kenarları işaretleyelim.

☐ NM kenarı

☐ MD kenarı

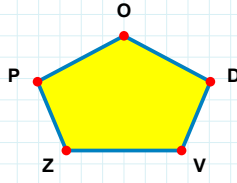
☐ MB kenarı

SORU: Aşağıdaki şekillerde verilen kenarlardan şekle ait olmayanı bulunuz.



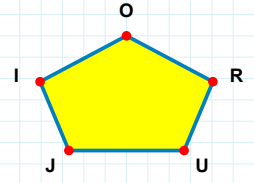
Şekle ait olmayan kenar/kenarları işaretleyelim.

- ☐ CP kenarı
☐ CE kenarı
☐ VE kenarı



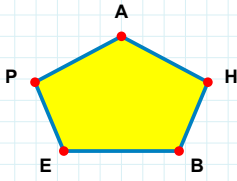
Şekle ait olmayan kenar/kenarları işaretleyelim.

- ☐ OZ kenarı
☐ PV kenarı
☐ VD kenarı



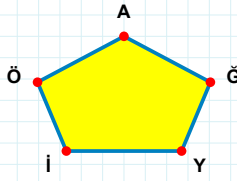
Şekle ait olmayan kenar/kenarları işaretleyelim.

- ☐ IR kenarı
☐ JR kenarı
☐ IU kenarı



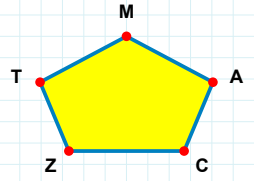
Şekle ait olmayan kenar/kenarları işaretleyelim.

- ☐ PE kenarı
☐ AE kenarı
☐ EH kenarı



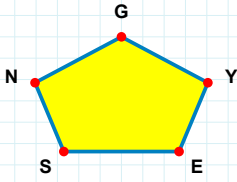
Şekle ait olmayan kenar/kenarları işaretleyelim.

- ☐ YĞ kenarı
☐ AI kenarı
☐ AY kenarı



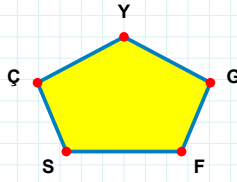
Şekle ait olmayan kenar/kenarları işaretleyelim.

- ☐ MZ kenarı
☐ MT kenarı
☐ ZC kenarı



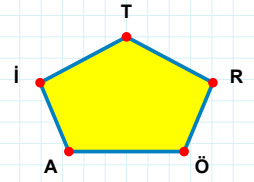
Şekle ait olmayan kenar/kenarları işaretleyelim.

- ☐ SY kenarı
☐ NY kenarı
☐ GE kenarı



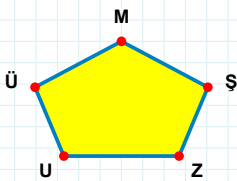
Şekle ait olmayan kenar/kenarları işaretleyelim.

- ☐ ÇF kenarı
☐ YF kenarı
☐ GY kenarı



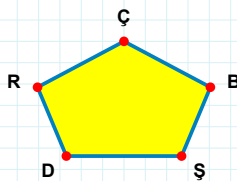
Şekle ait olmayan kenar/kenarları işaretleyelim.

- ☐ TÖ kenarı
☐ İR kenarı
☐ TA kenarı



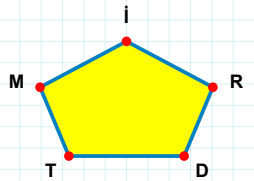
Şekle ait olmayan kenar/kenarları işaretleyelim.

- ☐ MZ kenarı
☐ UZ kenarı
☐ MU kenarı



Şekle ait olmayan kenar/kenarları işaretleyelim.

- ☐ DB kenarı
☐ RB kenarı
☐ ÇD kenarı



Şekle ait olmayan kenar/kenarları işaretleyelim.

- ☐ MD kenarı
☐ İT kenarı
☐ İM kenarı

SORU: Aşağıdaki şekillerde verilen kenarlardan şekle ait olmayanı bulunuz.

Şekle ait olmayan kenar/kenarları işaretleyelim.

☐ PI kenarı

☐ JI kenarı

☐ JP kenarı

Şekle ait olmayan kenar/kenarları işaretleyelim.

☐ MG kenarı

☐ GD kenarı

☐ MD kenarı

Şekle ait olmayan kenar/kenarları işaretleyelim.

☐ VŞ kenarı

☐ KM kenarı

☐ KA kenarı

Şekle ait olmayan kenar/kenarları işaretleyelim.

☐ HR kenarı

☐ CM kenarı

☐ ÇC kenarı

Şekle ait olmayan kenar/kenarları işaretleyelim.

☐ ŞS kenarı

☐ DŞ kenarı

☐ ES kenarı

Şekle ait olmayan kenar/kenarları işaretleyelim.

☐ UY kenarı

☐ İU kenarı

☐ MD kenarı

Şekle ait olmayan kenar/kenarları işaretleyelim.

☐ UR kenarı

☐ MR kenarı

☐ RJ kenarı

Şekle ait olmayan kenar/kenarları işaretleyelim.

☐ GF kenarı

☐ MG kenarı

☐ FM kenarı

Şekle ait olmayan kenar/kenarları işaretleyelim.

☐ Öİ kenarı

☐ KF kenarı

☐ Vİ kenarı

Şekle ait olmayan kenar/kenarları işaretleyelim.

☐ Çİ kenarı

☐ ÇZ kenarı

☐ Üİ kenarı

Şekle ait olmayan kenar/kenarları işaretleyelim.

☐ CE kenarı

☐ NC kenarı

☐ EY kenarı

Şekle ait olmayan kenar/kenarları işaretleyelim.

☐ GM kenarı

☐ GF kenarı

☐ TV kenarı

SORU: Aşağıdaki şekillerde verilen kenarlardan şekle ait olmayanı bulunuz.

Şekle ait olmayan kenar/kenarları işaretleyelim.

☐ KB kenarı

☐ ÜŞ kenarı

☐ ŞB kenarı

Şekle ait olmayan kenar/kenarları işaretleyelim.

☐ YB kenarı

☐ YD kenarı

☐ JE kenarı

Şekle ait olmayan kenar/kenarları işaretleyelim.

☐ SJ kenarı

☐ İS kenarı

☐ İÖ kenarı

Şekle ait olmayan kenar/kenarları işaretleyelim.

☐ Bİ kenarı

☐ BJ kenarı

☐ LB kenarı

Şekle ait olmayan kenar/kenarları işaretleyelim.

☐ KE kenarı

☐ EZ kenarı

☐ ÜH kenarı

Şekle ait olmayan kenar/kenarları işaretleyelim.

☐ ÜĞ kenarı

☐ ĞT kenarı

☐ TÜ kenarı

Şekle ait olmayan kenar/kenarları işaretleyelim.

☐ LU kenarı

☐ SG kenarı

☐ UI kenarı

Şekle ait olmayan kenar/kenarları işaretleyelim.

☐ JL kenarı

☐ BL kenarı

☐ LC kenarı

Şekle ait olmayan kenar/kenarları işaretleyelim.

☐ LŞ kenarı

☐ ĞC kenarı

☐ ÖC kenarı

Şekle ait olmayan kenar/kenarları işaretleyelim.

☐ RP kenarı

☐ YP kenarı

☐ NR kenarı

Şekle ait olmayan kenar/kenarları işaretleyelim.

☐ LK kenarı

☐ İÜ kenarı

☐ İK kenarı

Şekle ait olmayan kenar/kenarları işaretleyelim.

☐ SM kenarı

☐ CG kenarı

☐ CY kenarı

SORU: Aşağıdaki şekillerde verilen kenarlardan şekle ait olmayanı bulunuz.

Şekle ait olmayan kenar/kenarları işaretleyelim.

- ☐ AÇ kenarı
- ☐ ÇK kenarı
- ☐ AM kenarı

Şekle ait olmayan kenar/kenarları işaretleyelim.

- ☐ OH kenarı
- ☐ HF kenarı
- ☐ OŞ kenarı

Şekle ait olmayan kenar/kenarları işaretleyelim.

- ☐ VÜ kenarı
- ☐ ÖE kenarı
- ☐ UÜ kenarı

Şekle ait olmayan kenar/kenarları işaretleyelim.

- ☐ VG kenarı
- ☐ BL kenarı
- ☐ GN kenarı

Şekle ait olmayan kenar/kenarları işaretleyelim.

- ☐ KJ kenarı
- ☐ TÜ kenarı
- ☐ DJ kenarı

Şekle ait olmayan kenar/kenarları işaretleyelim.

- ☐ BZ kenarı
- ☐ DY kenarı
- ☐ ZÇ kenarı

Şekle ait olmayan kenar/kenarları işaretleyelim.

- ☐ ÖF kenarı
- ☐ FÇ kenarı
- ☐ OD kenarı

Şekle ait olmayan kenar/kenarları işaretleyelim.

- ☐ AC kenarı
- ☐ DA kenarı
- ☐ MA kenarı

Şekle ait olmayan kenar/kenarları işaretleyelim.

- ☐ ÇG kenarı
- ☐ KG kenarı
- ☐ GF kenarı

Şekle ait olmayan kenar/kenarları işaretleyelim.

- ☐ FJ kenarı
- ☐ NŞ kenarı
- ☐ ŞF kenarı

Şekle ait olmayan kenar/kenarları işaretleyelim.

- ☐ KZ kenarı
- ☐ MG kenarı
- ☐ JG kenarı

Şekle ait olmayan kenar/kenarları işaretleyelim.

- ☐ SÖ kenarı
- ☐ Jİ kenarı
- ☐ Yİ kenarı

SORU: Aşağıdaki şekillerde verilen kenarlardan şekle ait olmayanı bulunuz.

Şekle ait olmayan kenar/kenarları işaretleyelim.

- ☐ ÇR kenarı
- ☐ VE kenarı
- ☐ DE kenarı

Şekle ait olmayan kenar/kenarları işaretleyelim.

- ☐ ER kenarı
- ☐ SO kenarı
- ☐ FO kenarı

Şekle ait olmayan kenar/kenarları işaretleyelim.

- ☐ ĞZ kenarı
- ☐ ZU kenarı
- ☐ VĞ kenarı

Şekle ait olmayan kenar/kenarları işaretleyelim.

- ☐ ZG kenarı
- ☐ HY kenarı
- ☐ YE kenarı

Şekle ait olmayan kenar/kenarları işaretleyelim.

- ☐ JI kenarı
- ☐ GD kenarı
- ☐ JD kenarı

Şekle ait olmayan kenar/kenarları işaretleyelim.

- ☐ PL kenarı
- ☐ RC kenarı
- ☐ LC kenarı

Şekle ait olmayan kenar/kenarları işaretleyelim.

- ☐ HD kenarı
- ☐ GF kenarı
- ☐ HF kenarı

Şekle ait olmayan kenar/kenarları işaretleyelim.

- ☐ ŞĞ kenarı
- ☐ MF kenarı
- ☐ MĞ kenarı

Şekle ait olmayan kenar/kenarları işaretleyelim.

- ☐ ÖB kenarı
- ☐ ED kenarı
- ☐ EÜ kenarı

Şekle ait olmayan kenar/kenarları işaretleyelim.

- ☐ RH kenarı
- ☐ ZO kenarı
- ☐ ÖZ kenarı

Şekle ait olmayan kenar/kenarları işaretleyelim.

- ☐ ŞG kenarı
- ☐ ŞÜ kenarı
- ☐ ÜG kenarı

Şekle ait olmayan kenar/kenarları işaretleyelim.

- ☐ ÜP kenarı
- ☐ TM kenarı
- ☐ TY kenarı

SORU: Aşağıdaki şekillerde verilen kenarlardan şekle ait olmayanı bulunuz.

Şekle ait olmayan kenar/kenarları işaretleyelim.

- ☐ JO kenarı
- ☐ VC kenarı
- ☐ ŞV kenarı

Şekle ait olmayan kenar/kenarları işaretleyelim.

- ☐ ZE kenarı
- ☐ BŞ kenarı
- ☐ ŞĞ kenarı

Şekle ait olmayan kenar/kenarları işaretleyelim.

- ☐ GV kenarı
- ☐ PN kenarı
- ☐ YN kenarı

Şekle ait olmayan kenar/kenarları işaretleyelim.

- ☐ YG kenarı
- ☐ PT kenarı
- ☐ TG kenarı

Şekle ait olmayan kenar/kenarları işaretleyelim.

- ☐ AU kenarı
- ☐ UY kenarı
- ☐ ŞS kenarı

Şekle ait olmayan kenar/kenarları işaretleyelim.

- ☐ ÇU kenarı
- ☐ ÜŞ kenarı
- ☐ ÜO kenarı

Şekle ait olmayan kenar/kenarları işaretleyelim.

- ☐ ÖN kenarı
- ☐ JE kenarı
- ☐ EY kenarı

Şekle ait olmayan kenar/kenarları işaretleyelim.

- ☐ SB kenarı
- ☐ KS kenarı
- ☐ PB kenarı

Şekle ait olmayan kenar/kenarları işaretleyelim.

- ☐ NŞ kenarı
- ☐ CÜ kenarı
- ☐ GC kenarı

Şekle ait olmayan kenar/kenarları işaretleyelim.

- ☐ İI kenarı
- ☐ LU kenarı
- ☐ İT kenarı

Şekle ait olmayan kenar/kenarları işaretleyelim.

- ☐ UA kenarı
- ☐ ZU kenarı
- ☐ DU kenarı

Şekle ait olmayan kenar/kenarları işaretleyelim.

- ☐ ZR kenarı
- ☐ ÇB kenarı
- ☐ ZÇ kenarı

SORU: Aşağıdaki şekillerde verilen kenarlardan şekle ait olmayanı bulunuz.

Şekle ait olmayan kenar/kenarları işaretleyelim.

☐ EZ kenarı
☐ NE kenarı
☐ UZ kenarı

Şekle ait olmayan kenar/kenarları işaretleyelim.

☐ GC kenarı
☐ KC kenarı
☐ CD kenarı

Şekle ait olmayan kenar/kenarları işaretleyelim.

☐ MV kenarı
☐ BM kenarı
☐ ZM kenarı

Şekle ait olmayan kenar/kenarları işaretleyelim.

☐ CÜ kenarı
☐ FH kenarı
☐ ÖH kenarı

Şekle ait olmayan kenar/kenarları işaretleyelim.

☐ ST kenarı
☐ HÜ kenarı
☐ SU kenarı

Şekle ait olmayan kenar/kenarları işaretleyelim.

☐ JÖ kenarı
☐ PĞ kenarı
☐ ÖL kenarı

Şekle ait olmayan kenar/kenarları işaretleyelim.

☐ MF kenarı
☐ GM kenarı
☐ OF kenarı

Şekle ait olmayan kenar/kenarları işaretleyelim.

☐ GE kenarı
☐ EJ kenarı
☐ FE kenarı

Şekle ait olmayan kenar/kenarları işaretleyelim.

☐ NO kenarı
☐ BN kenarı
☐ ÖC kenarı

Şekle ait olmayan kenar/kenarları işaretleyelim.

☐ ÇL kenarı
☐ JM kenarı
☐ MÇ kenarı

Şekle ait olmayan kenar/kenarları işaretleyelim.

☐ TF kenarı
☐ İM kenarı
☐ FN kenarı

Şekle ait olmayan kenar/kenarları işaretleyelim.

☐ ÇS kenarı
☐ ÇB kenarı
☐ TU kenarı

SORU: Aşağıdaki şekillerde verilen kenarlardan şekle ait olmayanı bulunuz.

Şekle ait olmayan kenar/kenarları işaretleyelim.

☐ DŞ kenarı
☐ KC kenarı
☐ CŞ kenarı

Şekle ait olmayan kenar/kenarları işaretleyelim.

☐ HD kenarı
☐ İL kenarı
☐ ÖL kenarı

Şekle ait olmayan kenar/kenarları işaretleyelim.

☐ DV kenarı
☐ İÖ kenarı
☐ ÇG kenarı

Şekle ait olmayan kenar/kenarları işaretleyelim.

☐ ĞA kenarı
☐ KA kenarı
☐ DK kenarı

Şekle ait olmayan kenar/kenarları işaretleyelim.

☐ SG kenarı
☐ AT kenarı
☐ VZ kenarı

Şekle ait olmayan kenar/kenarları işaretleyelim.

☐ YV kenarı
☐ TV kenarı
☐ ZD kenarı

Şekle ait olmayan kenar/kenarları işaretleyelim.

☐ NV kenarı
☐ HN kenarı
☐ ÖA kenarı

Şekle ait olmayan kenar/kenarları işaretleyelim.

☐ PN kenarı
☐ JĞ kenarı
☐ ĞÖ kenarı

Şekle ait olmayan kenar/kenarları işaretleyelim.

☐ LF kenarı
☐ İL kenarı
☐ ĞL kenarı

Şekle ait olmayan kenar/kenarları işaretleyelim.

☐ LÇ kenarı
☐ GÜ kenarı
☐ ÖP kenarı

Şekle ait olmayan kenar/kenarları işaretleyelim.

☐ AŞ kenarı
☐ AI kenarı
☐ İL kenarı

Şekle ait olmayan kenar/kenarları işaretleyelim.

☐ DM kenarı
☐ ÇG kenarı
☐ SÇ kenarı

SORU: Aşağıdaki şekillerde verilen kenarlardan şekle ait olmayanı bulunuz.

Şekle ait olmayan kenar/kenarları işaretleyelim.

- ☐ FL kenarı
- ☐ MV kenarı
- ☐ DF kenarı

Şekle ait olmayan kenar/kenarları işaretleyelim.

- ☐ LN kenarı
- ☐ LD kenarı
- ☐ DĞ kenarı

Şekle ait olmayan kenar/kenarları işaretleyelim.

- ☐ VD kenarı
- ☐ ÜK kenarı
- ☐ ÜI kenarı

Şekle ait olmayan kenar/kenarları işaretleyelim.

- ☐ VK kenarı
- ☐ ŞK kenarı
- ☐ DP kenarı

Şekle ait olmayan kenar/kenarları işaretleyelim.

- ☐ FV kenarı
- ☐ ŞN kenarı
- ☐ ÇT kenarı

Şekle ait olmayan kenar/kenarları işaretleyelim.

- ☐ DL kenarı
- ☐ BT kenarı
- ☐ GE kenarı

Şekle ait olmayan kenar/kenarları işaretleyelim.

- ☐ İB kenarı
- ☐ VI kenarı
- ☐ GV kenarı

Şekle ait olmayan kenar/kenarları işaretleyelim.

- ☐ RĞ kenarı
- ☐ CS kenarı
- ☐ BI kenarı

Şekle ait olmayan kenar/kenarları işaretleyelim.

- ☐ CÖ kenarı
- ☐ JÇ kenarı
- ☐ ŞO kenarı

Şekle ait olmayan kenar/kenarları işaretleyelim.

- ☐ LB kenarı
- ☐ Bİ kenarı
- ☐ LY kenarı

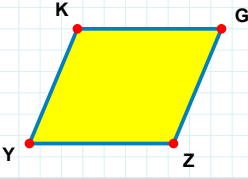
Şekle ait olmayan kenar/kenarları işaretleyelim.

- ☐ RN kenarı
- ☐ AR kenarı
- ☐ RD kenarı

Şekle ait olmayan kenar/kenarları işaretleyelim.

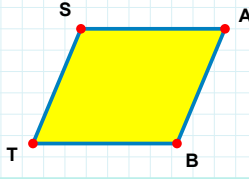
- ☐ İZ kenarı
- ☐ FH kenarı
- ☐ LD kenarı

SORU: Aşağıdaki şekillerde verilen kenarlardan şekle ait olmayanı bulunuz.



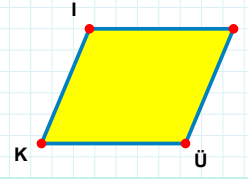
Şekle ait olmayan kenar/kenarları işaretleyelim.

- ☐ KZ kenarı
☐ GY kenarı
☐ ZY kenarı



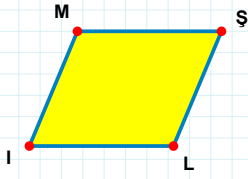
Şekle ait olmayan kenar/kenarları işaretleyelim.

- ☐ SA kenarı
☐ TS kenarı
☐ SB kenarı



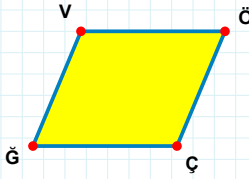
Şekle ait olmayan kenar/kenarları işaretleyelim.

- ☐ LK kenarı
☐ IÜ kenarı
☐ IL kenarı



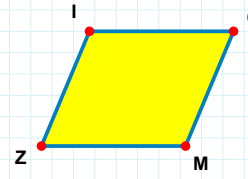
Şekle ait olmayan kenar/kenarları işaretleyelim.

- ☐ ML kenarı
☐ ŞI kenarı
☐ ŞL kenarı



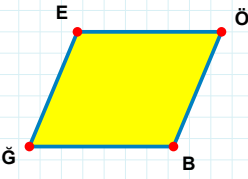
Şekle ait olmayan kenar/kenarları işaretleyelim.

- ☐ VÇ kenarı
☐ ÖĞ kenarı
☐ ÇĞ kenarı



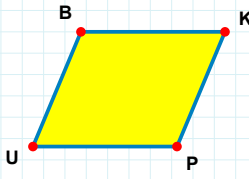
Şekle ait olmayan kenar/kenarları işaretleyelim.

- ☐ OZ kenarı
☐ ZI kenarı
☐ IM kenarı



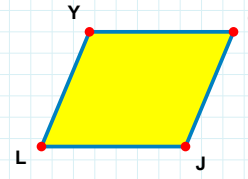
Şekle ait olmayan kenar/kenarları işaretleyelim.

- ☐ EB kenarı
☐ BĞ kenarı
☐ ĞE kenarı



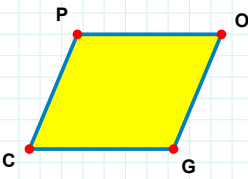
Şekle ait olmayan kenar/kenarları işaretleyelim.

- ☐ KU kenarı
☐ BP kenarı
☐ PU kenarı



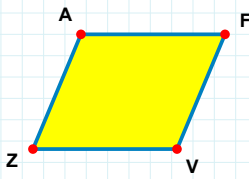
Şekle ait olmayan kenar/kenarları işaretleyelim.

- ☐ ÇL kenarı
☐ JL kenarı
☐ YJ kenarı



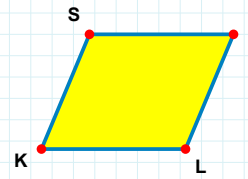
Şekle ait olmayan kenar/kenarları işaretleyelim.

- ☐ GC kenarı
☐ OG kenarı
☐ OC kenarı



Şekle ait olmayan kenar/kenarları işaretleyelim.

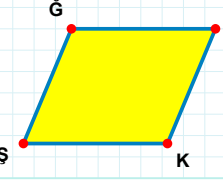
- ☐ AV kenarı
☐ AF kenarı
☐ FV kenarı



Şekle ait olmayan kenar/kenarları işaretleyelim.

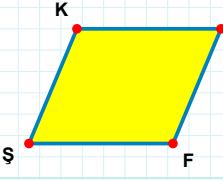
- ☐ LK kenarı
☐ SL kenarı
☐ KS kenarı

SORU: Aşağıdaki şekillerde verilen kenarlardan şekle ait olmayanı bulunuz.



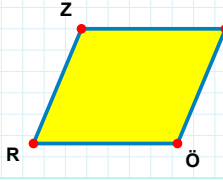
Şekle ait olmayan kenar/kenarları işaretleyelim.

☐ ĞK kenarı
☐ ĞG kenarı
☐ GŞ kenarı



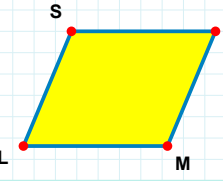
Şekle ait olmayan kenar/kenarları işaretleyelim.

☐ ÇŞ kenarı
☐ ÇF kenarı
☐ KÇ kenarı



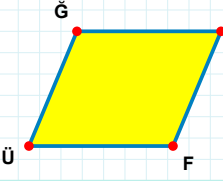
Şekle ait olmayan kenar/kenarları işaretleyelim.

☐ ZS kenarı
☐ SR kenarı
☐ ZÖ kenarı



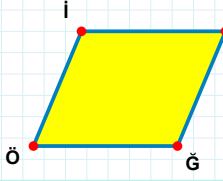
Şekle ait olmayan kenar/kenarları işaretleyelim.

☐ NL kenarı
☐ SN kenarı
☐ SM kenarı



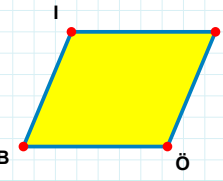
Şekle ait olmayan kenar/kenarları işaretleyelim.

☐ ÇF kenarı
☐ FÜ kenarı
☐ ÇÜ kenarı



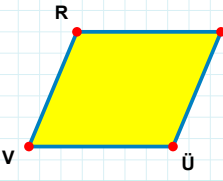
Şekle ait olmayan kenar/kenarları işaretleyelim.

☐ Öİ kenarı
☐ İĞ kenarı
☐ ZÖ kenarı



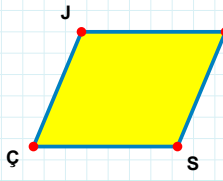
Şekle ait olmayan kenar/kenarları işaretleyelim.

☐ LÖ kenarı
☐ BI kenarı
☐ LB kenarı



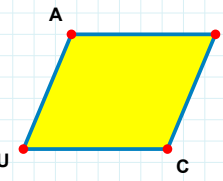
Şekle ait olmayan kenar/kenarları işaretleyelim.

☐ ÜV kenarı
☐ MV kenarı
☐ RÜ kenarı



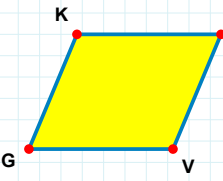
Şekle ait olmayan kenar/kenarları işaretleyelim.

☐ FÇ kenarı
☐ FS kenarı
☐ JS kenarı



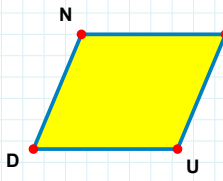
Şekle ait olmayan kenar/kenarları işaretleyelim.

☐ CU kenarı
☐ AC kenarı
☐ ÇU kenarı



Şekle ait olmayan kenar/kenarları işaretleyelim.

☐ İG kenarı
☐ GK kenarı
☐ KV kenarı



Şekle ait olmayan kenar/kenarları işaretleyelim.

☐ DN kenarı
☐ UD kenarı
☐ GD kenarı

SORU: Aşağıdaki şekillerde verilen kenarlardan şekle ait olmayanı bulunuz.

Şekle ait olmayan kenar/kenarları işaretleyelim.

- ☐ GL kenarı
- ☐ ÇG kenarı
- ☐ GF kenarı

Şekle ait olmayan kenar/kenarları işaretleyelim.

- ☐ DF kenarı
- ☐ MF kenarı
- ☐ MT kenarı

Şekle ait olmayan kenar/kenarları işaretleyelim.

- ☐ KY kenarı
- ☐ GA kenarı
- ☐ YA kenarı

Şekle ait olmayan kenar/kenarları işaretleyelim.

- ☐ EI kenarı
- ☐ BZ kenarı
- ☐ İZ kenarı

Şekle ait olmayan kenar/kenarları işaretleyelim.

- ☐ JV kenarı
- ☐ NI kenarı
- ☐ İJ kenarı

Şekle ait olmayan kenar/kenarları işaretleyelim.

- ☐ DN kenarı
- ☐ NH kenarı
- ☐ AD kenarı

Şekle ait olmayan kenar/kenarları işaretleyelim.

- ☐ İR kenarı
- ☐ IŞ kenarı
- ☐ RŞ kenarı

Şekle ait olmayan kenar/kenarları işaretleyelim.

- ☐ RB kenarı
- ☐ FR kenarı
- ☐ FA kenarı

Şekle ait olmayan kenar/kenarları işaretleyelim.

- ☐ ÖÇ kenarı
- ☐ ZC kenarı
- ☐ CÖ kenarı

Şekle ait olmayan kenar/kenarları işaretleyelim.

- ☐ IC kenarı
- ☐ CV kenarı
- ☐ CG kenarı

Şekle ait olmayan kenar/kenarları işaretleyelim.

- ☐ US kenarı
- ☐ VU kenarı
- ☐ SV kenarı

Şekle ait olmayan kenar/kenarları işaretleyelim.

- ☐ HK kenarı
- ☐ GH kenarı
- ☐ KŞ kenarı

SORU: Aşağıdaki şekillerde verilen kenarlardan şekle ait olmayanı bulunuz.

Şekle ait olmayan kenar/kenarları işaretleyelim.

- ☐ IE kenarı
- ☐ HJ kenarı
- ☐ IJ kenarı

Şekle ait olmayan kenar/kenarları işaretleyelim.

- ☐ ÜĞ kenarı
- ☐ BL kenarı
- ☐ ĞL kenarı

Şekle ait olmayan kenar/kenarları işaretleyelim.

- ☐ HV kenarı
- ☐ VD kenarı
- ☐ VC kenarı

Şekle ait olmayan kenar/kenarları işaretleyelim.

- ☐ HE kenarı
- ☐ ER kenarı
- ☐ YE kenarı

Şekle ait olmayan kenar/kenarları işaretleyelim.

- ☐ DI kenarı
- ☐ OI kenarı
- ☐ FD kenarı

Şekle ait olmayan kenar/kenarları işaretleyelim.

- ☐ OM kenarı
- ☐ KM kenarı
- ☐ IO kenarı

Şekle ait olmayan kenar/kenarları işaretleyelim.

- ☐ MS kenarı
- ☐ SĞ kenarı
- ☐ ĞA kenarı

Şekle ait olmayan kenar/kenarları işaretleyelim.

- ☐ NA kenarı
- ☐ ŞN kenarı
- ☐ VN kenarı

Şekle ait olmayan kenar/kenarları işaretleyelim.

- ☐ NG kenarı
- ☐ FV kenarı
- ☐ NF kenarı

Şekle ait olmayan kenar/kenarları işaretleyelim.

- ☐ LŞ kenarı
- ☐ LT kenarı
- ☐ KT kenarı

Şekle ait olmayan kenar/kenarları işaretleyelim.

- ☐ ŞP kenarı
- ☐ YŞ kenarı
- ☐ YU kenarı

Şekle ait olmayan kenar/kenarları işaretleyelim.

- ☐ Şİ kenarı
- ☐ İJ kenarı
- ☐ ŞJ kenarı

SORU: Aşağıdaki şekillerde verilen kenarlardan şekle ait olmayanı bulunuz.

Şekle ait olmayan kenar/kenarları işaretleyelim.

☐ HM kenarı

☐ MT kenarı

☐ ÇH kenarı

Şekle ait olmayan kenar/kenarları işaretleyelim.

☐ BS kenarı

☐ CS kenarı

☐ BG kenarı

Şekle ait olmayan kenar/kenarları işaretleyelim.

☐ IP kenarı

☐ PÇ kenarı

☐ GÇ kenarı

Şekle ait olmayan kenar/kenarları işaretleyelim.

☐ ÜB kenarı

☐ ZB kenarı

☐ ĞÜ kenarı

Şekle ait olmayan kenar/kenarları işaretleyelim.

☐ GB kenarı

☐ KT kenarı

☐ GT kenarı

Şekle ait olmayan kenar/kenarları işaretleyelim.

☐ IV kenarı

☐ HV kenarı

☐ EI kenarı

Şekle ait olmayan kenar/kenarları işaretleyelim.

☐ İI kenarı

☐ DG kenarı

☐ İG kenarı

Şekle ait olmayan kenar/kenarları işaretleyelim.

☐ TR kenarı

☐ TA kenarı

☐ RA kenarı

Şekle ait olmayan kenar/kenarları işaretleyelim.

☐ YF kenarı

☐ FZ kenarı

☐ İZ kenarı

Şekle ait olmayan kenar/kenarları işaretleyelim.

☐ FG kenarı

☐ VH kenarı

☐ HG kenarı

Şekle ait olmayan kenar/kenarları işaretleyelim.

☐ ZÖ kenarı

☐ ZG kenarı

☐ ÖA kenarı

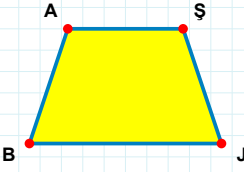
Şekle ait olmayan kenar/kenarları işaretleyelim.

☐ ZD kenarı

☐ ZL kenarı

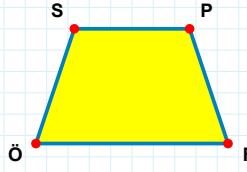
☐ ÖZ kenarı

SORU: Aşağıdaki şekillerde verilen kenarlardan şekle ait olmayanı bulunuz.



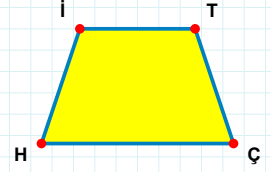
Şekle ait olmayan kenar/kenarları işaretleyelim.

- ☐ ŞB kenarı
☐ AŞ kenarı
☐ JB kenarı



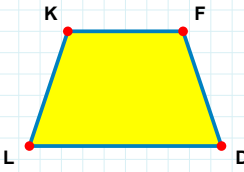
Şekle ait olmayan kenar/kenarları işaretleyelim.

- ☐ PÖ kenarı
☐ PF kenarı
☐ SF kenarı



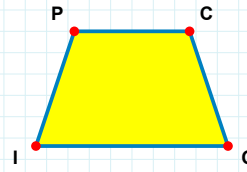
Şekle ait olmayan kenar/kenarları işaretleyelim.

- ☐ TH kenarı
☐ TÇ kenarı
☐ ÇH kenarı



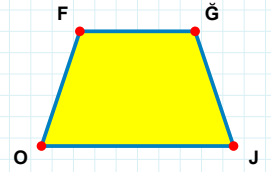
Şekle ait olmayan kenar/kenarları işaretleyelim.

- ☐ KD kenarı
☐ FD kenarı
☐ LK kenarı



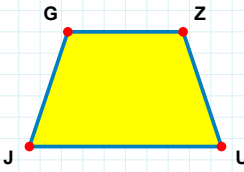
Şekle ait olmayan kenar/kenarları işaretleyelim.

- ☐ CO kenarı
☐ CI kenarı
☐ OI kenarı



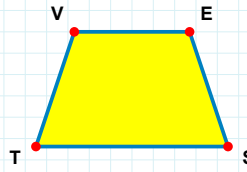
Şekle ait olmayan kenar/kenarları işaretleyelim.

- ☐ ĞJ kenarı
☐ ĞO kenarı
☐ FĞ kenarı



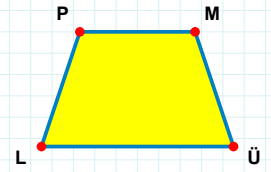
Şekle ait olmayan kenar/kenarları işaretleyelim.

- ☐ UJ kenarı
☐ GZ kenarı
☐ ZJ kenarı



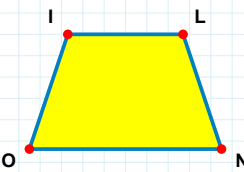
Şekle ait olmayan kenar/kenarları işaretleyelim.

- ☐ ET kenarı
☐ TV kenarı
☐ ES kenarı



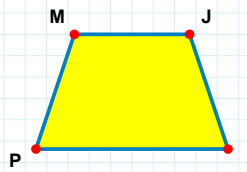
Şekle ait olmayan kenar/kenarları işaretleyelim.

- ☐ LP kenarı
☐ PM kenarı
☐ ML kenarı



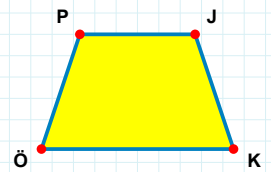
Şekle ait olmayan kenar/kenarları işaretleyelim.

- ☐ IL kenarı
☐ IN kenarı
☐ LO kenarı



Şekle ait olmayan kenar/kenarları işaretleyelim.

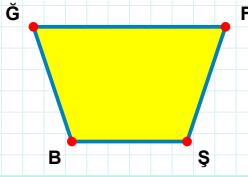
- ☐ Mİ kenarı
☐ JP kenarı
☐ MJ kenarı



Şekle ait olmayan kenar/kenarları işaretleyelim.

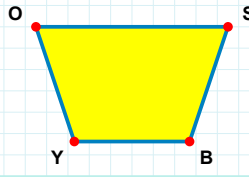
- ☐ KÖ kenarı
☐ JÖ kenarı
☐ PK kenarı

SORU: Aşağıdaki şekillerde verilen kenarlardan şekle ait olmayanı bulunuz.



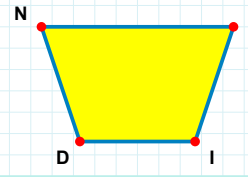
Şekle ait olmayan kenar/kenarları işaretleyelim.

- ☐ ĞF kenarı
☐ BĞ kenarı
☐ FB kenarı



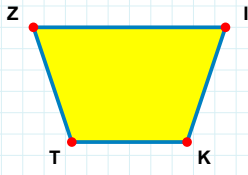
Şekle ait olmayan kenar/kenarları işaretleyelim.

- ☐ SY kenarı
☐ YO kenarı
☐ OB kenarı



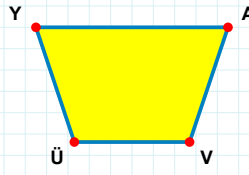
Şekle ait olmayan kenar/kenarları işaretleyelim.

- ☐ DN kenarı
☐ RD kenarı
☐ NR kenarı



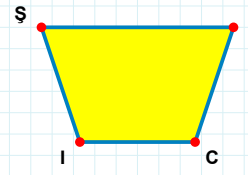
Şekle ait olmayan kenar/kenarları işaretleyelim.

- ☐ ZK kenarı
☐ KT kenarı
☐ IT kenarı



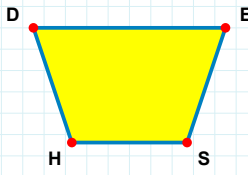
Şekle ait olmayan kenar/kenarları işaretleyelim.

- ☐ AÜ kenarı
☐ AV kenarı
☐ YV kenarı



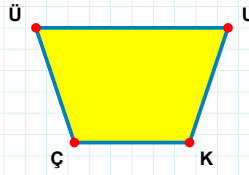
Şekle ait olmayan kenar/kenarları işaretleyelim.

- ☐ BI kenarı
☐ CI kenarı
☐ ŞC kenarı



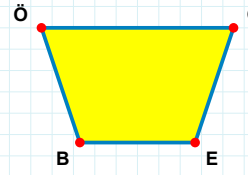
Şekle ait olmayan kenar/kenarları işaretleyelim.

- ☐ EH kenarı
☐ DS kenarı
☐ HD kenarı



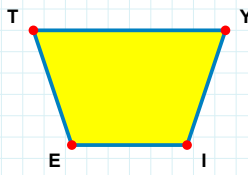
Şekle ait olmayan kenar/kenarları işaretleyelim.

- ☐ ÇÜ kenarı
☐ UÇ kenarı
☐ ÜU kenarı



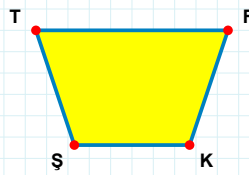
Şekle ait olmayan kenar/kenarları işaretleyelim.

- ☐ ÖE kenarı
☐ ĞE kenarı
☐ EB kenarı



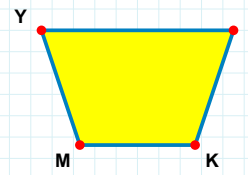
Şekle ait olmayan kenar/kenarları işaretleyelim.

- ☐ YE kenarı
☐ ET kenarı
☐ TI kenarı



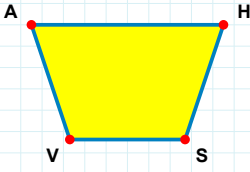
Şekle ait olmayan kenar/kenarları işaretleyelim.

- ☐ FŞ kenarı
☐ KŞ kenarı
☐ TK kenarı



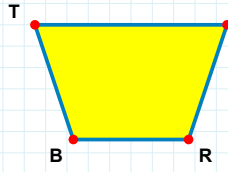
Şekle ait olmayan kenar/kenarları işaretleyelim.

- ☐ YK kenarı
☐ FM kenarı
☐ YF kenarı

SORU: Aşağıdaki şekillerde verilen kenarlardan şekle ait olmayanı bulunuz.

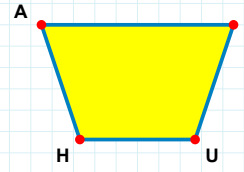
Şekle ait olmayan kenar/kenarları işaretleyelim.

- ☐ AS kenarı
☐ SV kenarı
☐ HV kenarı



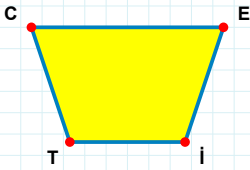
Şekle ait olmayan kenar/kenarları işaretleyelim.

- ☐ EB kenarı
☐ TE kenarı
☐ TR kenarı



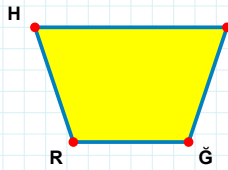
Şekle ait olmayan kenar/kenarları işaretleyelim.

- ☐ GH kenarı
☐ UH kenarı
☐ GU kenarı



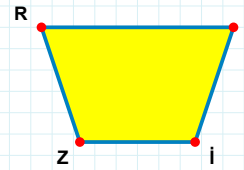
Şekle ait olmayan kenar/kenarları işaretleyelim.

- ☐ CI kenarı
☐ ET kenarı
☐ CE kenarı



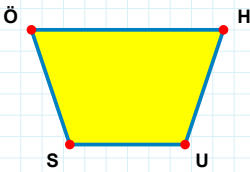
Şekle ait olmayan kenar/kenarları işaretleyelim.

- ☐ NR kenarı
☐ HN kenarı
☐ HĞ kenarı



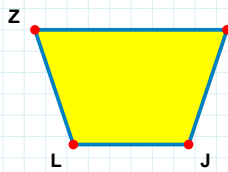
Şekle ait olmayan kenar/kenarları işaretleyelim.

- ☐ DZ kenarı
☐ RD kenarı
☐ İZ kenarı



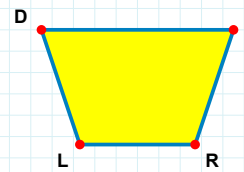
Şekle ait olmayan kenar/kenarları işaretleyelim.

- ☐ HS kenarı
☐ ÖH kenarı
☐ ÖU kenarı



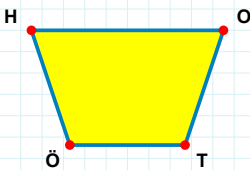
Şekle ait olmayan kenar/kenarları işaretleyelim.

- ☐ AJ kenarı
☐ ZJ kenarı
☐ AL kenarı



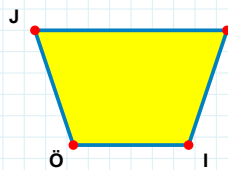
Şekle ait olmayan kenar/kenarları işaretleyelim.

- ☐ RL kenarı
☐ DR kenarı
☐ LD kenarı



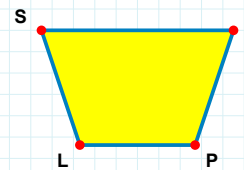
Şekle ait olmayan kenar/kenarları işaretleyelim.

- ☐ ÖH kenarı
☐ OÖ kenarı
☐ HT kenarı



Şekle ait olmayan kenar/kenarları işaretleyelim.

- ☐ Jİ kenarı
☐ SÖ kenarı
☐ ÖJ kenarı



Şekle ait olmayan kenar/kenarları işaretleyelim.

- ☐ JL kenarı
☐ SP kenarı
☐ LS kenarı

SÜREÇ ODAKLI DEĞERLENDİRME ÖLÇEĞİ

Geliştirilmeli (0-100)	İyi (101-172)	Çok İyi (173-244)	Mükemmel (245-288)
<input type="checkbox"/>	<input type="checkbox"/>	<input type="checkbox"/>	<input type="checkbox"/>

Hazırlayan:

Bu bölüme sınıfınızın ilgili kazanıma yönelik genel durumuna ilişkin gözlem ve izlenimlerinizi, öğrencilerinizin bu kazanımla ilgili öğrenme eksikliklerini ve bu eksikliklerin giderilmesi amacıyla yaptığınız/yapmayı planladığınız faaliyetleri not edebilirsiniz.

No	Adı - Soyadı	Toplam Puan	Değerlendirme
1			
2			
3			
4			
5			
6			
7			
8			
9			
10			
11			
12			
13			
14			
15			
16			
17			
18			
19			
20			
21			
22			
23			
24			
25			
26			
27			
28			
29			
30			
31			
32			
33			
34			
35			

Hazırlayan: