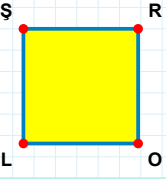
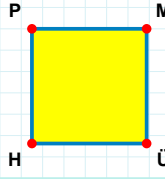


**SORU:** Aşağıdaki şekillerde verilen kenarlardan şekle ait olmayanı bulunuz.



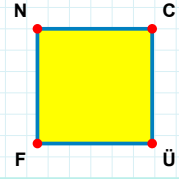
Şekle ait olmayan kenar/kenarları işaretleyelim.

- ☐ LŞ kenarı  
☐ RO kenarı  
☐ ŞO kenarı



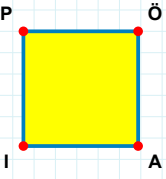
Şekle ait olmayan kenar/kenarları işaretleyelim.

- ☐ MH kenarı  
☐ HP kenarı  
☐ ÜH kenarı



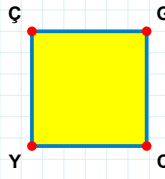
Şekle ait olmayan kenar/kenarları işaretleyelim.

- ☐ NC kenarı  
☐ NÜ kenarı  
☐ CF kenarı



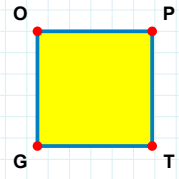
Şekle ait olmayan kenar/kenarları işaretleyelim.

- ☐ PA kenarı  
☐ ÖI kenarı  
☐ IP kenarı



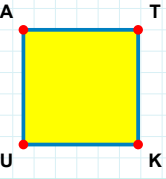
Şekle ait olmayan kenar/kenarları işaretleyelim.

- ☐ GY kenarı  
☐ GC kenarı  
☐ ÇG kenarı



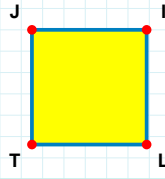
Şekle ait olmayan kenar/kenarları işaretleyelim.

- ☐ GO kenarı  
☐ TG kenarı  
☐ OT kenarı



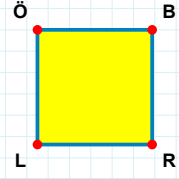
Şekle ait olmayan kenar/kenarları işaretleyelim.

- ☐ TU kenarı  
☐ AK kenarı  
☐ KU kenarı



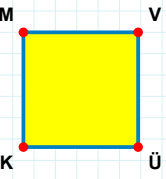
Şekle ait olmayan kenar/kenarları işaretleyelim.

- ☐ JL kenarı  
☐ TJ kenarı  
☐ IT kenarı



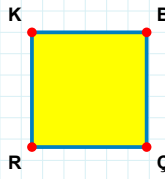
Şekle ait olmayan kenar/kenarları işaretleyelim.

- ☐ ÖR kenarı  
☐ RL kenarı  
☐ ÖB kenarı



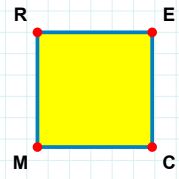
Şekle ait olmayan kenar/kenarları işaretleyelim.

- ☐ VK kenarı  
☐ MÜ kenarı  
☐ KM kenarı



Şekle ait olmayan kenar/kenarları işaretleyelim.

- ☐ ÇR kenarı  
☐ KB kenarı  
☐ KÇ kenarı



Şekle ait olmayan kenar/kenarları işaretleyelim.

- ☐ EM kenarı  
☐ RE kenarı  
☐ RC kenarı

**SORU:** Aşağıdaki şekillerde verilen kenarlardan şekle ait olmayanı bulunuz.

Şekle ait olmayan kenar/kenarları işaretleyelim.

☐ TY kenarı

☐ IY kenarı

☐ ÜI kenarı

Şekle ait olmayan kenar/kenarları işaretleyelim.

☐ ZP kenarı

☐ ZU kenarı

☐ İZ kenarı

Şekle ait olmayan kenar/kenarları işaretleyelim.

☐ SG kenarı

☐ SP kenarı

☐ GZ kenarı

Şekle ait olmayan kenar/kenarları işaretleyelim.

☐ SK kenarı

☐ ÇP kenarı

☐ KP kenarı

Şekle ait olmayan kenar/kenarları işaretleyelim.

☐ MV kenarı

☐ MÜ kenarı

☐ VÇ kenarı

Şekle ait olmayan kenar/kenarları işaretleyelim.

☐ ÇC kenarı

☐ DC kenarı

☐ ÇN kenarı

Şekle ait olmayan kenar/kenarları işaretleyelim.

☐ ĞK kenarı

☐ KI kenarı

☐ Ğİ kenarı

Şekle ait olmayan kenar/kenarları işaretleyelim.

☐ ÜN kenarı

☐ ÜC kenarı

☐ NM kenarı

Şekle ait olmayan kenar/kenarları işaretleyelim.

☐ İN kenarı

☐ İD kenarı

☐ NR kenarı

Şekle ait olmayan kenar/kenarları işaretleyelim.

☐ ĞO kenarı

☐ ĞP kenarı

☐ MĞ kenarı

Şekle ait olmayan kenar/kenarları işaretleyelim.

☐ İD kenarı

☐ JD kenarı

☐ İA kenarı


Şekle ait olmayan kenar/kenarları işaretleyelim.

☐ ÇY kenarı

☐ UY kenarı

☐ ÇU kenarı

**SORU:** Aşağıdaki şekillerde verilen kenarlardan şekle ait olmayanı bulunuz.




Şekle ait olmayan kenar/kenarları işaretleyelim.

- ☐ HN kenarı  
☐ UH kenarı  
☐ NÖ kenarı



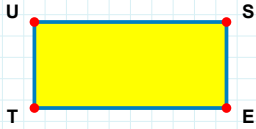
Şekle ait olmayan kenar/kenarları işaretleyelim.

- ☐ RĞ kenarı  
☐ RN kenarı  
☐ NF kenarı



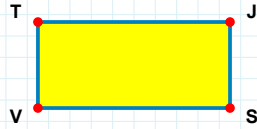
Şekle ait olmayan kenar/kenarları işaretleyelim.

- ☐ TI kenarı  
☐ ÜI kenarı  
☐ VT kenarı



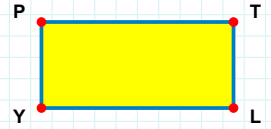
Şekle ait olmayan kenar/kenarları işaretleyelim.

- ☐ ET kenarı  
☐ ST kenarı  
☐ UE kenarı



Şekle ait olmayan kenar/kenarları işaretleyelim.

- ☐ TJ kenarı  
☐ JS kenarı  
☐ JV kenarı




Şekle ait olmayan kenar/kenarları işaretleyelim.

- ☐ PT kenarı  
☐ TY kenarı  
☐ PL kenarı



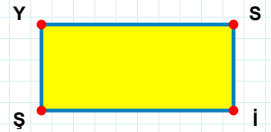
Şekle ait olmayan kenar/kenarları işaretleyelim.

- ☐ MK kenarı  
☐ SK kenarı  
☐ SV kenarı




Şekle ait olmayan kenar/kenarları işaretleyelim.

- ☐ HÇ kenarı  
☐ ÇL kenarı  
☐ KL kenarı




Şekle ait olmayan kenar/kenarları işaretleyelim.

- ☐ Yİ kenarı  
☐ SŞ kenarı  
☐ İŞ kenarı




Şekle ait olmayan kenar/kenarları işaretleyelim.

- ☐ OV kenarı  
☐ EG kenarı  
☐ GV kenarı



Şekle ait olmayan kenar/kenarları işaretleyelim.


- ☐ ÜP kenarı  
☐ KÜ kenarı  
☐ CP kenarı



Şekle ait olmayan kenar/kenarları işaretleyelim.


- ☐ Nİ kenarı  
☐ RA kenarı  
☐ AN kenarı

**SORU:** Aşağıdaki şekillerde verilen kenarlardan şekle ait olmayanı bulunuz.




Şekle ait olmayan kenar/kenarları işaretleyelim.

- ☐ KU kenarı  
☐ UN kenarı  
☐ KŞ kenarı




Şekle ait olmayan kenar/kenarları işaretleyelim.

- ☐ PĞ kenarı  
☐ ÜP kenarı  
☐ ÖÜ kenarı




Şekle ait olmayan kenar/kenarları işaretleyelim.

- ☐ JÖ kenarı  
☐ UI kenarı  
☐ JU kenarı




Şekle ait olmayan kenar/kenarları işaretleyelim.

- ☐ Şİ kenarı  
☐ ÜŞ kenarı  
☐ IL kenarı



Şekle ait olmayan kenar/kenarları işaretleyelim.

- ☐ RŞ kenarı  
☐ ZŞ kenarı  
☐ RÖ kenarı




Şekle ait olmayan kenar/kenarları işaretleyelim.

- ☐ CL kenarı  
☐ LR kenarı  
☐ CR kenarı




Şekle ait olmayan kenar/kenarları işaretleyelim.

- ☐ LE kenarı  
☐ NM kenarı  
☐ ML kenarı



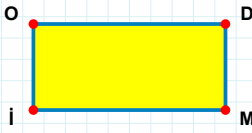
Şekle ait olmayan kenar/kenarları işaretleyelim.

- ☐ DK kenarı  
☐ ÇD kenarı  
☐ CD kenarı



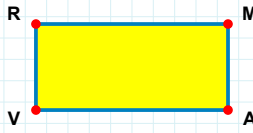
Şekle ait olmayan kenar/kenarları işaretleyelim.

- ☐ VJ kenarı  
☐ VB kenarı  
☐ BC kenarı



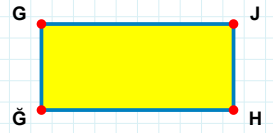
Şekle ait olmayan kenar/kenarları işaretleyelim.

- ☐ DI kenarı  
☐ DM kenarı  
☐ İO kenarı



Şekle ait olmayan kenar/kenarları işaretleyelim.

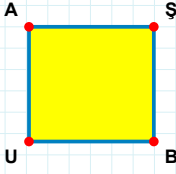
- ☐ RA kenarı  
☐ MV kenarı  
☐ RM kenarı



Şekle ait olmayan kenar/kenarları işaretleyelim.

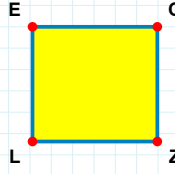
- ☐ ĞG kenarı  
☐ GH kenarı  
☐ JĞ kenarı

**SORU:** Aşağıdaki şekillerde verilen kenarlardan şekle ait olmayanı bulunuz.



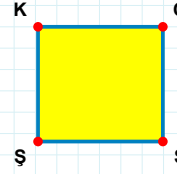
Şekle ait olmayan kenar/kenarları işaretleyelim.

- ☐ ŞU kenarı  
☐ AB kenarı  
☐ ŞB kenarı



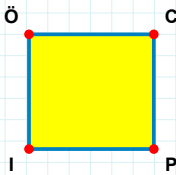
Şekle ait olmayan kenar/kenarları işaretleyelim.

- ☐ EC kenarı  
☐ CL kenarı  
☐ LE kenarı



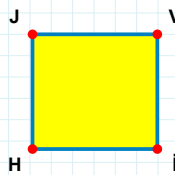
Şekle ait olmayan kenar/kenarları işaretleyelim.

- ☐ OS kenarı  
☐ OŞ kenarı  
☐ SŞ kenarı



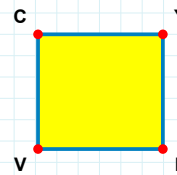
Şekle ait olmayan kenar/kenarları işaretleyelim.

- ☐ CP kenarı  
☐ ÖC kenarı  
☐ CI kenarı



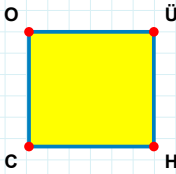
Şekle ait olmayan kenar/kenarları işaretleyelim.

- ☐ JV kenarı  
☐ VH kenarı  
☐ JI kenarı



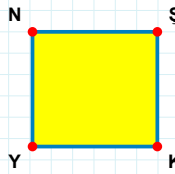
Şekle ait olmayan kenar/kenarları işaretleyelim.

- ☐ YL kenarı  
☐ VC kenarı  
☐ YV kenarı



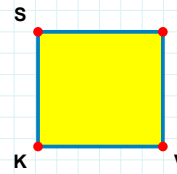
Şekle ait olmayan kenar/kenarları işaretleyelim.

- ☐ ÜC kenarı  
☐ OH kenarı  
☐ CO kenarı



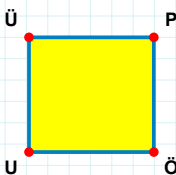
Şekle ait olmayan kenar/kenarları işaretleyelim.

- ☐ KY kenarı  
☐ YN kenarı  
☐ ŞY kenarı



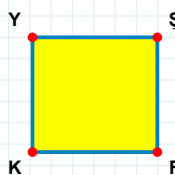
Şekle ait olmayan kenar/kenarları işaretleyelim.

- ☐ İV kenarı  
☐ İK kenarı  
☐ KS kenarı



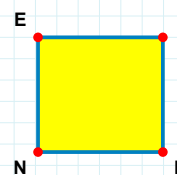
Şekle ait olmayan kenar/kenarları işaretleyelim.

- ☐ ÜÖ kenarı  
☐ PÖ kenarı  
☐ PU kenarı



Şekle ait olmayan kenar/kenarları işaretleyelim.

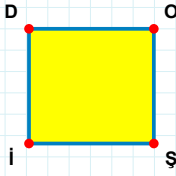
- ☐ FK kenarı  
☐ ŞK kenarı  
☐ YŞ kenarı



Şekle ait olmayan kenar/kenarları işaretleyelim.

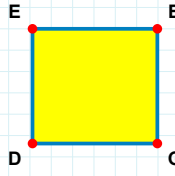
- ☐ EI kenarı  
☐ EP kenarı  
☐ IN kenarı

**SORU:** Aşağıdaki şekillerde verilen kenarlardan şekle ait olmayanı bulunuz.



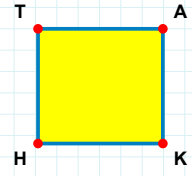
Şekle ait olmayan kenar/kenarları işaretleyelim.

- ☐ OŞ kenarı  
☐ DŞ kenarı  
☐ Oi kenarı



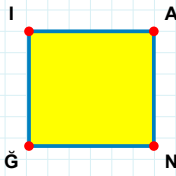
Şekle ait olmayan kenar/kenarları işaretleyelim.

- ☐ BG kenarı  
☐ BD kenarı  
☐ EB kenarı



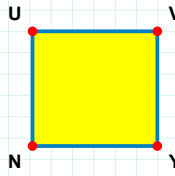
Şekle ait olmayan kenar/kenarları işaretleyelim.

- ☐ HT kenarı  
☐ AH kenarı  
☐ TK kenarı



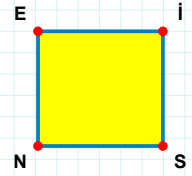
Şekle ait olmayan kenar/kenarları işaretleyelim.

- ☐ IN kenarı  
☐ AN kenarı  
☐ AĞ kenarı



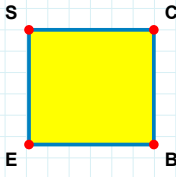
Şekle ait olmayan kenar/kenarları işaretleyelim.

- ☐ UY kenarı  
☐ VN kenarı  
☐ NU kenarı



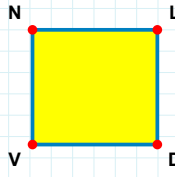
Şekle ait olmayan kenar/kenarları işaretleyelim.

- ☐ IN kenarı  
☐ ES kenarı  
☐ SN kenarı



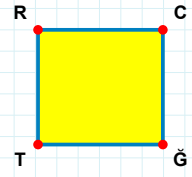
Şekle ait olmayan kenar/kenarları işaretleyelim.

- ☐ CE kenarı  
☐ ES kenarı  
☐ SC kenarı



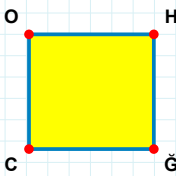
Şekle ait olmayan kenar/kenarları işaretleyelim.

- ☐ LV kenarı  
☐ ND kenarı  
☐ NL kenarı



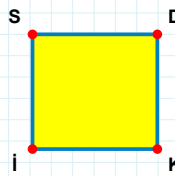
Şekle ait olmayan kenar/kenarları işaretleyelim.

- ☐ TR kenarı  
☐ RĞ kenarı  
☐ CT kenarı



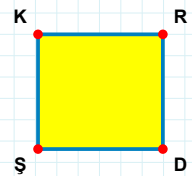
Şekle ait olmayan kenar/kenarları işaretleyelim.

- ☐ OĞ kenarı  
☐ HC kenarı  
☐ HĞ kenarı



Şekle ait olmayan kenar/kenarları işaretleyelim.

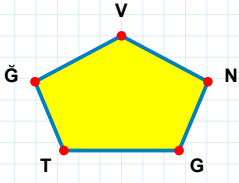
- ☐ SD kenarı  
☐ Di kenarı  
☐ SK kenarı



Şekle ait olmayan kenar/kenarları işaretleyelim.

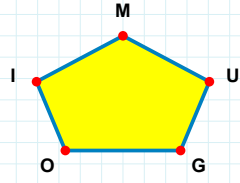
- ☐ KD kenarı  
☐ KR kenarı  
☐ RŞ kenarı

**SORU:** Aşağıdaki şekillerde verilen kenarlardan şekle ait olmayanı bulunuz.



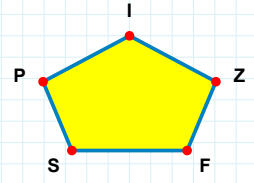
Şekle ait olmayan kenar/kenarları işaretleyelim.

- ☐ ĞN kenarı  
☐ TN kenarı  
☐ NV kenarı



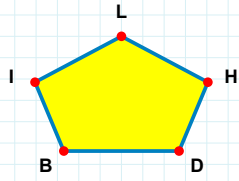
Şekle ait olmayan kenar/kenarları işaretleyelim.

- ☐ UM kenarı  
☐ OG kenarı  
☐ OU kenarı



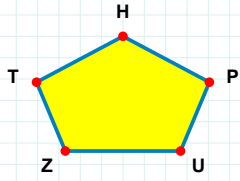
Şekle ait olmayan kenar/kenarları işaretleyelim.

- ☐ IF kenarı  
☐ FZ kenarı  
☐ SF kenarı



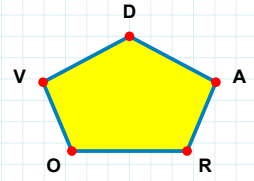
Şekle ait olmayan kenar/kenarları işaretleyelim.

- ☐ LD kenarı  
☐ DH kenarı  
☐ IH kenarı



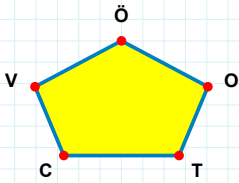
Şekle ait olmayan kenar/kenarları işaretleyelim.

- ☐ PH kenarı  
☐ HT kenarı  
☐ TP kenarı



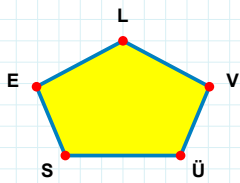
Şekle ait olmayan kenar/kenarları işaretleyelim.

- ☐ RA kenarı  
☐ DR kenarı  
☐ VR kenarı



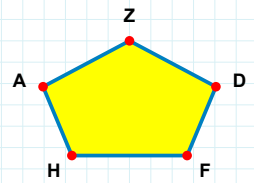
Şekle ait olmayan kenar/kenarları işaretleyelim.

- ☐ CT kenarı  
☐ CO kenarı  
☐ VO kenarı



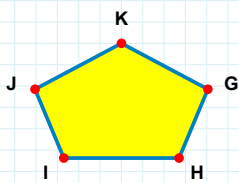
Şekle ait olmayan kenar/kenarları işaretleyelim.

- ☐ LÜ kenarı  
☐ LE kenarı  
☐ LS kenarı



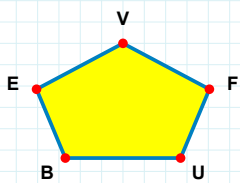
Şekle ait olmayan kenar/kenarları işaretleyelim.

- ☐ FD kenarı  
☐ ZH kenarı  
☐ AD kenarı



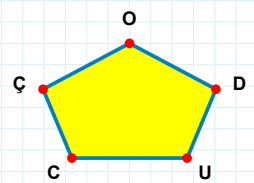
Şekle ait olmayan kenar/kenarları işaretleyelim.

- ☐ KH kenarı  
☐ JH kenarı  
☐ JG kenarı



Şekle ait olmayan kenar/kenarları işaretleyelim.

- ☐ VU kenarı  
☐ EB kenarı  
☐ FV kenarı



Şekle ait olmayan kenar/kenarları işaretleyelim.

- ☐ UD kenarı  
☐ OC kenarı  
☐ ÇU kenarı

**SORU:** Aşağıdaki şekillerde verilen kenarlardan şekle ait olmayanı bulunuz.

Şekle ait olmayan kenar/kenarları işaretleyelim.

☐ İJ kenarı  
☐ MN kenarı  
☐ LM kenarı

Şekle ait olmayan kenar/kenarları işaretleyelim.

☐ YU kenarı  
☐ LY kenarı  
☐ FÖ kenarı

Şekle ait olmayan kenar/kenarları işaretleyelim.

☐ ÖB kenarı  
☐ DÖ kenarı  
☐ BR kenarı

Şekle ait olmayan kenar/kenarları işaretleyelim.

☐ AH kenarı  
☐ DP kenarı  
☐ FP kenarı

Şekle ait olmayan kenar/kenarları işaretleyelim.

☐ SZ kenarı  
☐ RJ kenarı  
☐ SR kenarı

Şekle ait olmayan kenar/kenarları işaretleyelim.

☐ HF kenarı  
☐ ŞÜ kenarı  
☐ ÜF kenarı

Şekle ait olmayan kenar/kenarları işaretleyelim.

☐ MĞ kenarı  
☐ ÜĞ kenarı  
☐ EÜ kenarı

Şekle ait olmayan kenar/kenarları işaretleyelim.

☐ SK kenarı  
☐ KP kenarı  
☐ MP kenarı

Şekle ait olmayan kenar/kenarları işaretleyelim.

☐ Zİ kenarı  
☐ İÇ kenarı  
☐ ĞR kenarı

Şekle ait olmayan kenar/kenarları işaretleyelim.

☐ GA kenarı  
☐ EG kenarı  
☐ EŞ kenarı

Şekle ait olmayan kenar/kenarları işaretleyelim.

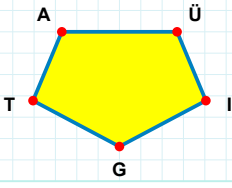
☐ VM kenarı  
☐ GH kenarı  
☐ GV kenarı

Şekle ait olmayan kenar/kenarları işaretleyelim.

☐ VO kenarı  
☐ OY kenarı  
☐ SO kenarı

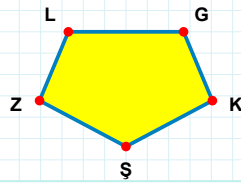


**SORU:** Aşağıdaki şekillerde verilen kenarlardan şekle ait olmayanı bulunuz.



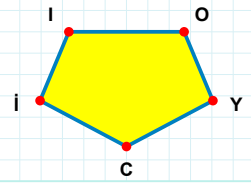
Şekle ait olmayan kenar/kenarları işaretleyelim.

- ☐ AÜ kenarı  
☐ TA kenarı  
☐ AI kenarı



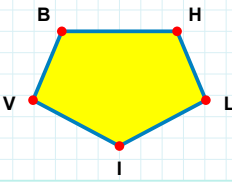
Şekle ait olmayan kenar/kenarları işaretleyelim.

- ☐ ZL kenarı  
☐ KŞ kenarı  
☐ GZ kenarı



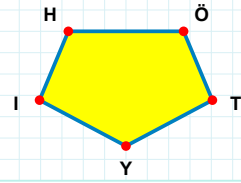
Şekle ait olmayan kenar/kenarları işaretleyelim.

- ☐ OI kenarı  
☐ YI kenarı  
☐ OC kenarı



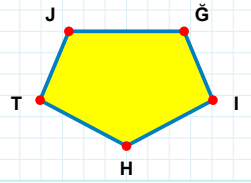
Şekle ait olmayan kenar/kenarları işaretleyelim.

- ☐ HV kenarı  
☐ LI kenarı  
☐ VB kenarı



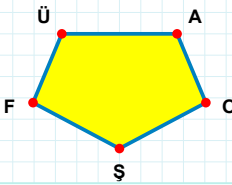
Şekle ait olmayan kenar/kenarları işaretleyelim.

- ☐ ÖT kenarı  
☐ TI kenarı  
☐ YI kenarı



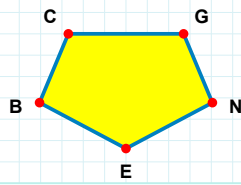
Şekle ait olmayan kenar/kenarları işaretleyelim.

- ☐ HT kenarı  
☐ JI kenarı  
☐ TJ kenarı



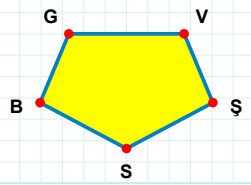
Şekle ait olmayan kenar/kenarları işaretleyelim.

- ☐ OŞ kenarı  
☐ ÜŞ kenarı  
☐ AF kenarı



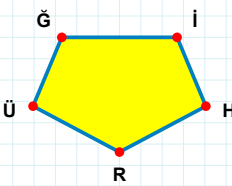
Şekle ait olmayan kenar/kenarları işaretleyelim.

- ☐ CE kenarı  
☐ GB kenarı  
☐ NB kenarı



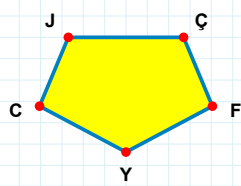
Şekle ait olmayan kenar/kenarları işaretleyelim.

- ☐ GV kenarı  
☐ GS kenarı  
☐ SB kenarı



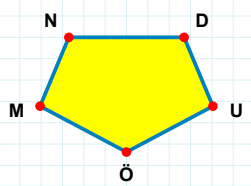
Şekle ait olmayan kenar/kenarları işaretleyelim.

- ☐ İH kenarı  
☐ ĞH kenarı  
☐ İÜ kenarı



Şekle ait olmayan kenar/kenarları işaretleyelim.

- ☐ ÇF kenarı  
☐ ÇY kenarı  
☐ JY kenarı



Şekle ait olmayan kenar/kenarları işaretleyelim.

- ☐ NU kenarı  
☐ DU kenarı  
☐ MN kenarı

**SORU:** Aşağıdaki şekillerde verilen kenarlardan şekle ait olmayanı bulunuz.

Şekle ait olmayan kenar/kenarları işaretleyelim.

☐ ON kenarı  
☐ NÜ kenarı  
☐ ÜM kenarı

Şekle ait olmayan kenar/kenarları işaretleyelim.

☐ ĞO kenarı  
☐ OC kenarı  
☐ ĞF kenarı

Şekle ait olmayan kenar/kenarları işaretleyelim.

☐ ZJ kenarı  
☐ ZY kenarı  
☐ YK kenarı

Şekle ait olmayan kenar/kenarları işaretleyelim.

☐ İG kenarı  
☐ GA kenarı  
☐ GZ kenarı

Şekle ait olmayan kenar/kenarları işaretleyelim.

☐ DN kenarı  
☐ TD kenarı  
☐ TE kenarı

Şekle ait olmayan kenar/kenarları işaretleyelim.

☐ ME kenarı  
☐ RA kenarı  
☐ RE kenarı

Şekle ait olmayan kenar/kenarları işaretleyelim.

☐ ŞP kenarı  
☐ KĞ kenarı  
☐ ĞŞ kenarı

Şekle ait olmayan kenar/kenarları işaretleyelim.

☐ YH kenarı  
☐ HD kenarı  
☐ BD kenarı

Şekle ait olmayan kenar/kenarları işaretleyelim.

☐ ÜC kenarı  
☐ LV kenarı  
☐ VC kenarı

Şekle ait olmayan kenar/kenarları işaretleyelim.

☐ NP kenarı  
☐ HD kenarı  
☐ PC kenarı

Şekle ait olmayan kenar/kenarları işaretleyelim.

☐ Çİ kenarı  
☐ NI kenarı  
☐ IL kenarı

Şekle ait olmayan kenar/kenarları işaretleyelim.

☐ ZB kenarı  
☐ BN kenarı  
☐ ZN kenarı

**SORU:** Aşağıdaki şekillerde verilen kenarlardan şekle ait olmayanı bulunuz.

Şekle ait olmayan kenar/kenarları işaretleyelim.

☐ SŞ kenarı

☐ VŞ kenarı

☐ NC kenarı

Şekle ait olmayan kenar/kenarları işaretleyelim.

☐ DB kenarı

☐ DM kenarı

☐ EO kenarı

Şekle ait olmayan kenar/kenarları işaretleyelim.

☐ EU kenarı

☐ UZ kenarı

☐ BO kenarı

Şekle ait olmayan kenar/kenarları işaretleyelim.

☐ ŞÇ kenarı

☐ ÇÖ kenarı

☐ Öİ kenarı

Şekle ait olmayan kenar/kenarları işaretleyelim.

☐ İP kenarı

☐ ÜA kenarı

☐ Üİ kenarı

Şekle ait olmayan kenar/kenarları işaretleyelim.

☐ ÜV kenarı

☐ EV kenarı

☐ VÖ kenarı

Şekle ait olmayan kenar/kenarları işaretleyelim.

☐ ÖÇ kenarı

☐ İG kenarı

☐ Tİ kenarı

Şekle ait olmayan kenar/kenarları işaretleyelim.

☐ DŞ kenarı

☐ ŞE kenarı

☐ NE kenarı

Şekle ait olmayan kenar/kenarları işaretleyelim.

☐ ĞÇ kenarı

☐ YU kenarı

☐ OB kenarı

Şekle ait olmayan kenar/kenarları işaretleyelim.

☐ OZ kenarı

☐ ĞZ kenarı

☐ BO kenarı

Şekle ait olmayan kenar/kenarları işaretleyelim.

☐ JO kenarı

☐ JÇ kenarı

☐ ÇG kenarı

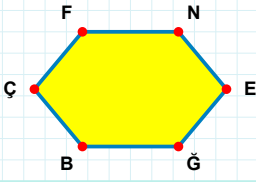
Şekle ait olmayan kenar/kenarları işaretleyelim.

☐ JK kenarı

☐ KF kenarı

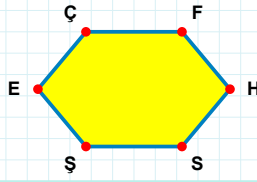
☐ ÖF kenarı

**SORU:** Aşağıdaki şekillerde verilen kenarlardan şekle ait olmayanı bulunuz.



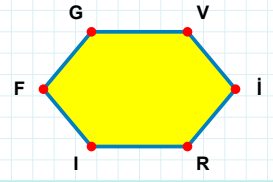
Şekle ait olmayan kenar/kenarları işaretleyelim.

- ☐ NĞ kenarı  
☐ FN kenarı  
☐ FE kenarı



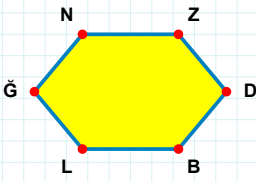
Şekle ait olmayan kenar/kenarları işaretleyelim.

- ☐ HŞ kenarı  
☐ ÇŞ kenarı  
☐ ÇF kenarı



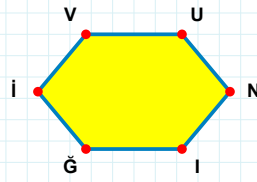
Şekle ait olmayan kenar/kenarları işaretleyelim.

- ☐ İR kenarı  
☐ GI kenarı  
☐ RI kenarı



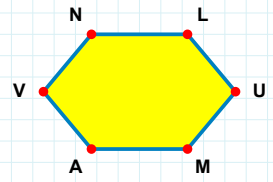
Şekle ait olmayan kenar/kenarları işaretleyelim.

- ☐ BL kenarı  
☐ NL kenarı  
☐ ĞN kenarı



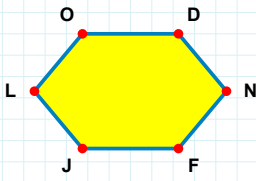
Şekle ait olmayan kenar/kenarları işaretleyelim.

- ☐ VN kenarı  
☐ UĞ kenarı  
☐ İV kenarı



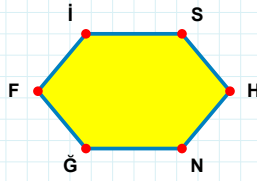
Şekle ait olmayan kenar/kenarları işaretleyelim.

- ☐ AV kenarı  
☐ LV kenarı  
☐ NA kenarı



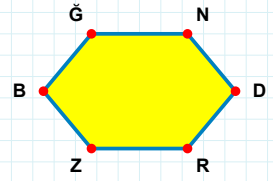
Şekle ait olmayan kenar/kenarları işaretleyelim.

- ☐ NJ kenarı  
☐ FL kenarı  
☐ FJ kenarı



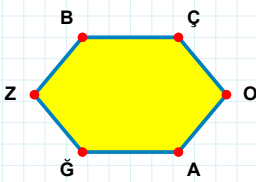
Şekle ait olmayan kenar/kenarları işaretleyelim.

- ☐ HF kenarı  
☐ FI kenarı  
☐ İH kenarı



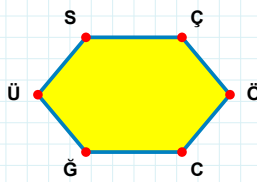
Şekle ait olmayan kenar/kenarları işaretleyelim.

- ☐ ĞD kenarı  
☐ ĞZ kenarı  
☐ NR kenarı



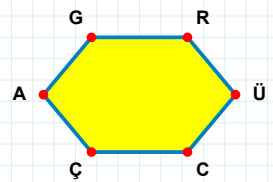
Şekle ait olmayan kenar/kenarları işaretleyelim.

- ☐ OZ kenarı  
☐ ZB kenarı  
☐ ĞZ kenarı



Şekle ait olmayan kenar/kenarları işaretleyelim.

- ☐ ÇĞ kenarı  
☐ ÖÜ kenarı  
☐ ÖĞ kenarı



Şekle ait olmayan kenar/kenarları işaretleyelim.

- ☐ GR kenarı  
☐ ÜC kenarı  
☐ RÇ kenarı

**SORU:** Aşağıdaki şekillerde verilen kenarlardan şekle ait olmayanı bulunuz.

Şekle ait olmayan kenar/kenarları işaretleyelim.

☐ EM kenarı  
☐ EO kenarı  
☐ ML kenarı

Şekle ait olmayan kenar/kenarları işaretleyelim.

☐ FG kenarı  
☐ JG kenarı  
☐ YU kenarı

Şekle ait olmayan kenar/kenarları işaretleyelim.

☐ ÜU kenarı  
☐ HÜ kenarı  
☐ ÖH kenarı

Şekle ait olmayan kenar/kenarları işaretleyelim.

☐ EI kenarı  
☐ EL kenarı  
☐ JÇ kenarı

Şekle ait olmayan kenar/kenarları işaretleyelim.

☐ İS kenarı  
☐ VS kenarı  
☐ PV kenarı

Şekle ait olmayan kenar/kenarları işaretleyelim.

☐ AS kenarı  
☐ TE kenarı  
☐ OT kenarı

Şekle ait olmayan kenar/kenarları işaretleyelim.

☐ TJ kenarı  
☐ DĞ kenarı  
☐ TD kenarı

Şekle ait olmayan kenar/kenarları işaretleyelim.

☐ ÖN kenarı  
☐ OK kenarı  
☐ ÖK kenarı

Şekle ait olmayan kenar/kenarları işaretleyelim.

☐ ÇN kenarı  
☐ ŞE kenarı  
☐ ME kenarı

Şekle ait olmayan kenar/kenarları işaretleyelim.

☐ ŞZ kenarı  
☐ ŞA kenarı  
☐ ZÜ kenarı

Şekle ait olmayan kenar/kenarları işaretleyelim.

☐ VE kenarı  
☐ MV kenarı  
☐ HB kenarı

Şekle ait olmayan kenar/kenarları işaretleyelim.

☐ ÇM kenarı  
☐ ĞÇ kenarı  
☐ LÖ kenarı

**SORU:** Aşağıdaki şekillerde verilen kenarlardan şekle ait olmayanı bulunuz.

Şekle ait olmayan kenar/kenarları işaretleyelim.

☐ ÜA kenarı  
☐ ŞÜ kenarı  
☐ JS kenarı

Şekle ait olmayan kenar/kenarları işaretleyelim.

☐ FL kenarı  
☐ VF kenarı  
☐ GE kenarı

Şekle ait olmayan kenar/kenarları işaretleyelim.

☐ MP kenarı  
☐ DI kenarı  
☐ IZ kenarı

Şekle ait olmayan kenar/kenarları işaretleyelim.

☐ BR kenarı  
☐ BM kenarı  
☐ MZ kenarı

Şekle ait olmayan kenar/kenarları işaretleyelim.

☐ HM kenarı  
☐ VU kenarı  
☐ VO kenarı

Şekle ait olmayan kenar/kenarları işaretleyelim.

☐ FT kenarı  
☐ FA kenarı  
☐ SF kenarı

Şekle ait olmayan kenar/kenarları işaretleyelim.

☐ ÖL kenarı  
☐ ÇÖ kenarı  
☐ ÇC kenarı

Şekle ait olmayan kenar/kenarları işaretleyelim.

☐ HI kenarı  
☐ VJ kenarı  
☐ GÖ kenarı

Şekle ait olmayan kenar/kenarları işaretleyelim.

☐ LI kenarı  
☐ EI kenarı  
☐ İI kenarı

Şekle ait olmayan kenar/kenarları işaretleyelim.

☐ ÜN kenarı  
☐ NZ kenarı  
☐ IR kenarı

Şekle ait olmayan kenar/kenarları işaretleyelim.

☐ UI kenarı  
☐ ÇO kenarı  
☐ TZ kenarı

Şekle ait olmayan kenar/kenarları işaretleyelim.

☐ DY kenarı  
☐ JE kenarı  
☐ JŞ kenarı

**SORU:** Aşağıdaki şekillerde verilen kenarlardan şekle ait olmayanı bulunuz.

Şekle ait olmayan kenar/kenarları işaretleyelim.

☐ ZV kenarı  
☐ OC kenarı  
☐ VG kenarı

Şekle ait olmayan kenar/kenarları işaretleyelim.

☐ RB kenarı  
☐ ER kenarı  
☐ EN kenarı

Şekle ait olmayan kenar/kenarları işaretleyelim.

☐ SV kenarı  
☐ LÇ kenarı  
☐ ÇZ kenarı

Şekle ait olmayan kenar/kenarları işaretleyelim.

☐ Ğİ kenarı  
☐ Öİ kenarı  
☐ ĞŞ kenarı

Şekle ait olmayan kenar/kenarları işaretleyelim.

☐ PJ kenarı  
☐ AB kenarı  
☐ PŞ kenarı

Şekle ait olmayan kenar/kenarları işaretleyelim.

☐ ĞM kenarı  
☐ ĞH kenarı  
☐ MD kenarı

Şekle ait olmayan kenar/kenarları işaretleyelim.

☐ DS kenarı  
☐ YB kenarı  
☐ GE kenarı

Şekle ait olmayan kenar/kenarları işaretleyelim.

☐ EJ kenarı  
☐ JA kenarı  
☐ CĞ kenarı

Şekle ait olmayan kenar/kenarları işaretleyelim.

☐ BI kenarı  
☐ BL kenarı  
☐ ŞL kenarı

Şekle ait olmayan kenar/kenarları işaretleyelim.

☐ KÖ kenarı  
☐ ÖT kenarı  
☐ ÜJ kenarı

Şekle ait olmayan kenar/kenarları işaretleyelim.

☐ İE kenarı  
☐ ÇM kenarı  
☐ İT kenarı

Şekle ait olmayan kenar/kenarları işaretleyelim.

☐ LJ kenarı  
☐ PÖ kenarı  
☐ ÖL kenarı

**SORU:** Aşağıdaki şekillerde verilen kenarlardan şekle ait olmayanı bulunuz.

Şekle ait olmayan kenar/kenarları işaretleyelim.

☐ ZU kenarı  
☐ İU kenarı  
☐ ZS kenarı

Şekle ait olmayan kenar/kenarları işaretleyelim.

☐ Jİ kenarı  
☐ İA kenarı  
☐ DA kenarı

Şekle ait olmayan kenar/kenarları işaretleyelim.

☐ RÜ kenarı  
☐ UŞ kenarı  
☐ RU kenarı

Şekle ait olmayan kenar/kenarları işaretleyelim.

☐ FŞ kenarı  
☐ FN kenarı  
☐ ŞR kenarı

Şekle ait olmayan kenar/kenarları işaretleyelim.

☐ ZD kenarı  
☐ ID kenarı  
☐ ÖB kenarı

Şekle ait olmayan kenar/kenarları işaretleyelim.

☐ ÖÜ kenarı  
☐ NÜ kenarı  
☐ İÖ kenarı

Şekle ait olmayan kenar/kenarları işaretleyelim.

☐ FĞ kenarı  
☐ ÜJ kenarı  
☐ ĞÜ kenarı

Şekle ait olmayan kenar/kenarları işaretleyelim.

☐ EB kenarı  
☐ YH kenarı  
☐ ĞB kenarı

Şekle ait olmayan kenar/kenarları işaretleyelim.

☐ RZ kenarı  
☐ YL kenarı  
☐ LP kenarı

Şekle ait olmayan kenar/kenarları işaretleyelim.

☐ SI kenarı  
☐ LB kenarı  
☐ AI kenarı

Şekle ait olmayan kenar/kenarları işaretleyelim.

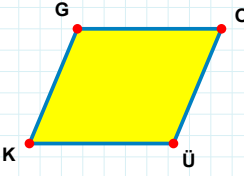
☐ BÜ kenarı  
☐ ÜZ kenarı  
☐ BM kenarı

Şekle ait olmayan kenar/kenarları işaretleyelim.

☐ SN kenarı  
☐ CN kenarı  
☐ DŞ kenarı

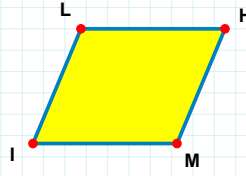


**SORU:** Aşağıdaki şekillerde verilen kenarlardan şekle ait olmayanı bulunuz.



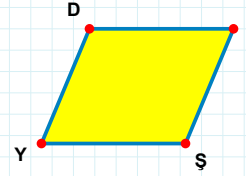
Şekle ait olmayan kenar/kenarları işaretleyelim.

- ☐ GO kenarı  
☐ OK kenarı  
☐ KG kenarı



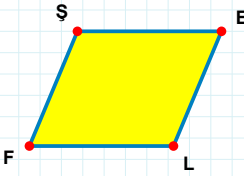
Şekle ait olmayan kenar/kenarları işaretleyelim.

- ☐ HM kenarı  
☐ LM kenarı  
☐ IL kenarı



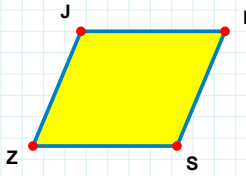
Şekle ait olmayan kenar/kenarları işaretleyelim.

- ☐ DŞ kenarı  
☐ DG kenarı  
☐ YD kenarı



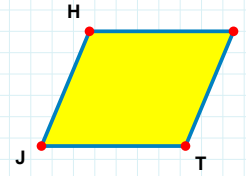
Şekle ait olmayan kenar/kenarları işaretleyelim.

- ☐ EF kenarı  
☐ FŞ kenarı  
☐ ŞL kenarı



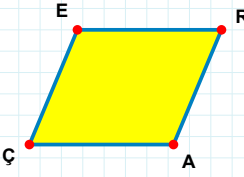
Şekle ait olmayan kenar/kenarları işaretleyelim.

- ☐ IZ kenarı  
☐ JS kenarı  
☐ SZ kenarı



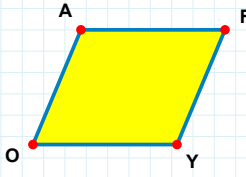
Şekle ait olmayan kenar/kenarları işaretleyelim.

- ☐ NT kenarı  
☐ NJ kenarı  
☐ JH kenarı



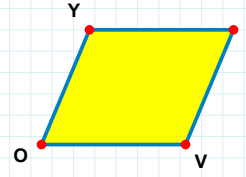
Şekle ait olmayan kenar/kenarları işaretleyelim.

- ☐ RÇ kenarı  
☐ RA kenarı  
☐ ÇE kenarı



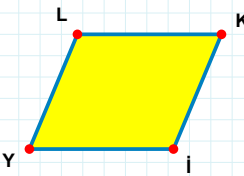
Şekle ait olmayan kenar/kenarları işaretleyelim.

- ☐ FO kenarı  
☐ OA kenarı  
☐ FY kenarı



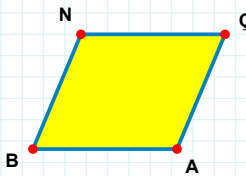
Şekle ait olmayan kenar/kenarları işaretleyelim.

- ☐ DO kenarı  
☐ DV kenarı  
☐ YV kenarı



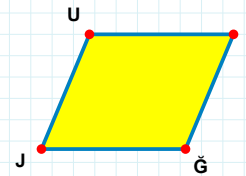
Şekle ait olmayan kenar/kenarları işaretleyelim.

- ☐ LK kenarı  
☐ KY kenarı  
☐ İY kenarı



Şekle ait olmayan kenar/kenarları işaretleyelim.

- ☐ NA kenarı  
☐ NÇ kenarı  
☐ ÇB kenarı



Şekle ait olmayan kenar/kenarları işaretleyelim.

- ☐ ÜĞ kenarı  
☐ UĞ kenarı  
☐ ĞJ kenarı

**SORU:** Aşağıdaki şekillerde verilen kenarlardan şekle ait olmayanı bulunuz.

Şekle ait olmayan kenar/kenarları işaretleyelim.

☐ OH kenarı  
☐ GO kenarı  
☐ BG kenarı

Şekle ait olmayan kenar/kenarları işaretleyelim.

☐ IK kenarı  
☐ Gi kenarı  
☐ SK kenarı

Şekle ait olmayan kenar/kenarları işaretleyelim.

☐ EF kenarı  
☐ BE kenarı  
☐ UF kenarı

Şekle ait olmayan kenar/kenarları işaretleyelim.

☐ UÜ kenarı  
☐ ÜK kenarı  
☐ UK kenarı

Şekle ait olmayan kenar/kenarları işaretleyelim.

☐ JC kenarı  
☐ PE kenarı  
☐ JP kenarı

Şekle ait olmayan kenar/kenarları işaretleyelim.

☐ Çİ kenarı  
☐ ÖS kenarı  
☐ Öİ kenarı

Şekle ait olmayan kenar/kenarları işaretleyelim.

☐ ÜY kenarı  
☐ OR kenarı  
☐ OÜ kenarı

Şekle ait olmayan kenar/kenarları işaretleyelim.

☐ IÇ kenarı  
☐ ÇU kenarı  
☐ IÇ kenarı

Şekle ait olmayan kenar/kenarları işaretleyelim.

☐ İJ kenarı  
☐ YÖ kenarı  
☐ ÖJ kenarı

Şekle ait olmayan kenar/kenarları işaretleyelim.

☐ UŞ kenarı  
☐ TŞ kenarı  
☐ UI kenarı

Şekle ait olmayan kenar/kenarları işaretleyelim.

☐ ST kenarı  
☐ IÇ kenarı  
☐ TÇ kenarı

Şekle ait olmayan kenar/kenarları işaretleyelim.

☐ ÖÜ kenarı  
☐ SJ kenarı  
☐ SÖ kenarı

**SORU:** Aşağıdaki şekillerde verilen kenarlardan şekle ait olmayanı bulunuz.

Şekle ait olmayan kenar/kenarları işaretleyelim.

☐ İR kenarı  
☐ İY kenarı  
☐ YP kenarı

Şekle ait olmayan kenar/kenarları işaretleyelim.

☐ JS kenarı  
☐ KS kenarı  
☐ ÇJ kenarı

Şekle ait olmayan kenar/kenarları işaretleyelim.

☐ KA kenarı  
☐ KY kenarı  
☐ YF kenarı

Şekle ait olmayan kenar/kenarları işaretleyelim.

☐ İY kenarı  
☐ ÖZ kenarı  
☐ Öİ kenarı

Şekle ait olmayan kenar/kenarları işaretleyelim.

☐ MY kenarı  
☐ PF kenarı  
☐ FY kenarı

Şekle ait olmayan kenar/kenarları işaretleyelim.

☐ VG kenarı  
☐ VY kenarı  
☐ NG kenarı

Şekle ait olmayan kenar/kenarları işaretleyelim.

☐ FL kenarı  
☐ CF kenarı  
☐ MC kenarı

Şekle ait olmayan kenar/kenarları işaretleyelim.

☐ İO kenarı  
☐ LU kenarı  
☐ UL kenarı

Şekle ait olmayan kenar/kenarları işaretleyelim.

☐ BR kenarı  
☐ BÇ kenarı  
☐ ÇK kenarı

Şekle ait olmayan kenar/kenarları işaretleyelim.

☐ KÜ kenarı  
☐ ÜJ kenarı  
☐ KO kenarı

Şekle ait olmayan kenar/kenarları işaretleyelim.

☐ HC kenarı  
☐ HT kenarı  
☐ FC kenarı

Şekle ait olmayan kenar/kenarları işaretleyelim.

☐ ŞN kenarı  
☐ LŞ kenarı  
☐ VN kenarı

**SORU:** Aşağıdaki şekillerde verilen kenarlardan şekle ait olmayanı bulunuz.

Şekle ait olmayan kenar/kenarları işaretleyelim.

☐ TA kenarı  
☐ OA kenarı  
☐ TF kenarı

Şekle ait olmayan kenar/kenarları işaretleyelim.

☐ OL kenarı  
☐ GO kenarı  
☐ IL kenarı

Şekle ait olmayan kenar/kenarları işaretleyelim.

☐ TA kenarı  
☐ UA kenarı  
☐ NU kenarı

Şekle ait olmayan kenar/kenarları işaretleyelim.

☐ OS kenarı  
☐ ÜO kenarı  
☐ SY kenarı

Şekle ait olmayan kenar/kenarları işaretleyelim.

☐ MY kenarı  
☐ LM kenarı  
☐ LY kenarı

Şekle ait olmayan kenar/kenarları işaretleyelim.

☐ RG kenarı  
☐ BG kenarı  
☐ GJ kenarı

Şekle ait olmayan kenar/kenarları işaretleyelim.

☐ BZ kenarı  
☐ BN kenarı  
☐ ZN kenarı

Şekle ait olmayan kenar/kenarları işaretleyelim.

☐ RI kenarı  
☐ İM kenarı  
☐ NR kenarı

Şekle ait olmayan kenar/kenarları işaretleyelim.

☐ AG kenarı  
☐ SA kenarı  
☐ HG kenarı

Şekle ait olmayan kenar/kenarları işaretleyelim.

☐ JI kenarı  
☐ JP kenarı  
☐ UP kenarı

Şekle ait olmayan kenar/kenarları işaretleyelim.

☐ MB kenarı  
☐ MC kenarı  
☐ BS kenarı

Şekle ait olmayan kenar/kenarları işaretleyelim.

☐ OL kenarı  
☐ LE kenarı  
☐ EG kenarı

**SORU:** Aşağıdaki şekillerde verilen kenarlardan şekle ait olmayanı bulunuz.

Şekle ait olmayan kenar/kenarları işaretleyelim.

☐ HO kenarı

☐ ŞC kenarı

☐ ŞH kenarı

Şekle ait olmayan kenar/kenarları işaretleyelim.

☐ ZĞ kenarı

☐ ĞF kenarı

☐ UF kenarı

Şekle ait olmayan kenar/kenarları işaretleyelim.

☐ CÇ kenarı

☐ ÇY kenarı

☐ CY kenarı

Şekle ait olmayan kenar/kenarları işaretleyelim.

☐ LM kenarı

☐ AL kenarı

☐ LD kenarı

Şekle ait olmayan kenar/kenarları işaretleyelim.

☐ ÜR kenarı

☐ VÇ kenarı

☐ RÇ kenarı

Şekle ait olmayan kenar/kenarları işaretleyelim.

☐ VF kenarı

☐ FA kenarı

☐ FĞ kenarı

Şekle ait olmayan kenar/kenarları işaretleyelim.

☐ IU kenarı

☐ UM kenarı

☐ NI kenarı

Şekle ait olmayan kenar/kenarları işaretleyelim.

☐ İB kenarı

☐ İV kenarı

☐ VB kenarı

Şekle ait olmayan kenar/kenarları işaretleyelim.

☐ SV kenarı

☐ VĞ kenarı

☐ PV kenarı

Şekle ait olmayan kenar/kenarları işaretleyelim.

☐ GL kenarı

☐ PG kenarı

☐ PC kenarı

Şekle ait olmayan kenar/kenarları işaretleyelim.

☐ NV kenarı

☐ RV kenarı

☐ ZN kenarı

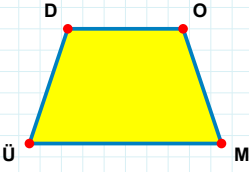
Şekle ait olmayan kenar/kenarları işaretleyelim.

☐ PZ kenarı

☐ GZ kenarı

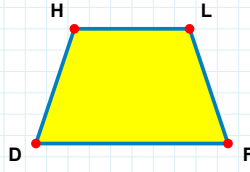
☐ MG kenarı

**SORU:** Aşağıdaki şekillerde verilen kenarlardan şekle ait olmayanı bulunuz.



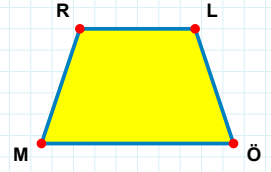
Şekle ait olmayan kenar/kenarları işaretleyelim.

- ☐ OÜ kenarı  
☐ MÜ kenarı  
☐ DM kenarı



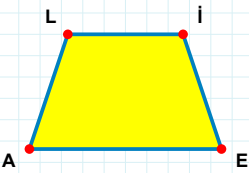
Şekle ait olmayan kenar/kenarları işaretleyelim.

- ☐ LD kenarı  
☐ HF kenarı  
☐ LF kenarı



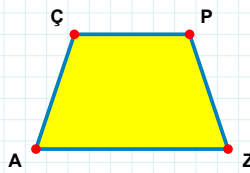
Şekle ait olmayan kenar/kenarları işaretleyelim.

- ☐ RÖ kenarı  
☐ LM kenarı  
☐ LÖ kenarı



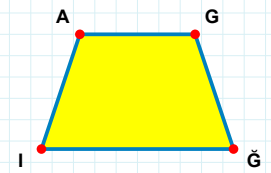
Şekle ait olmayan kenar/kenarları işaretleyelim.

- ☐ LE kenarı  
☐ AL kenarı  
☐ İA kenarı



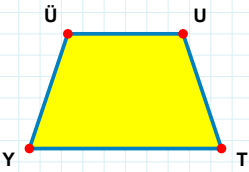
Şekle ait olmayan kenar/kenarları işaretleyelim.

- ☐ PZ kenarı  
☐ PA kenarı  
☐ ZA kenarı



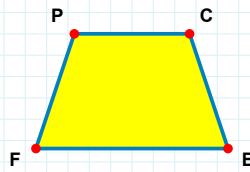
Şekle ait olmayan kenar/kenarları işaretleyelim.

- ☐ GI kenarı  
☐ İA kenarı  
☐ AĞ kenarı



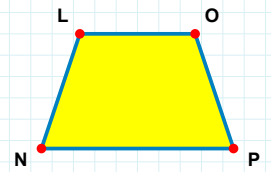
Şekle ait olmayan kenar/kenarları işaretleyelim.

- ☐ YÜ kenarı  
☐ UT kenarı  
☐ ÜT kenarı



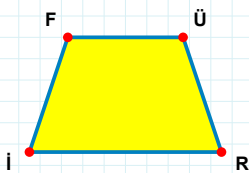
Şekle ait olmayan kenar/kenarları işaretleyelim.

- ☐ CF kenarı  
☐ CB kenarı  
☐ PB kenarı



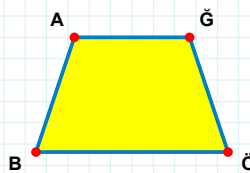
Şekle ait olmayan kenar/kenarları işaretleyelim.

- ☐ LO kenarı  
☐ LP kenarı  
☐ ON kenarı



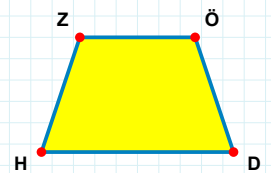
Şekle ait olmayan kenar/kenarları işaretleyelim.

- ☐ ÜR kenarı  
☐ Üİ kenarı  
☐ FR kenarı



Şekle ait olmayan kenar/kenarları işaretleyelim.

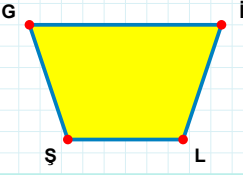
- ☐ ÖB kenarı  
☐ AĞ kenarı  
☐ ĞB kenarı



Şekle ait olmayan kenar/kenarları işaretleyelim.

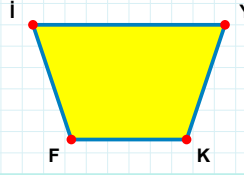
- ☐ HZ kenarı  
☐ ÖH kenarı  
☐ ZÖ kenarı

**SORU:** Aşağıdaki şekillerde verilen kenarlardan şekle ait olmayanı bulunuz.



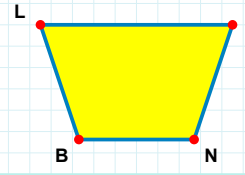
Şekle ait olmayan kenar/kenarları işaretleyelim.

- ☐ GI kenarı  
☐ GL kenarı  
☐ İL kenarı



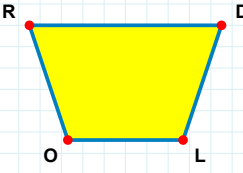
Şekle ait olmayan kenar/kenarları işaretleyelim.

- ☐ İY kenarı  
☐ İK kenarı  
☐ KF kenarı



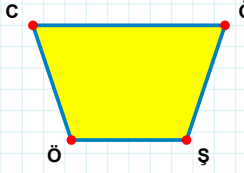
Şekle ait olmayan kenar/kenarları işaretleyelim.

- ☐ NB kenarı  
☐ DB kenarı  
☐ BL kenarı



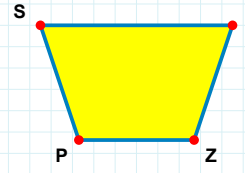
Şekle ait olmayan kenar/kenarları işaretleyelim.

- ☐ RL kenarı  
☐ DL kenarı  
☐ LO kenarı



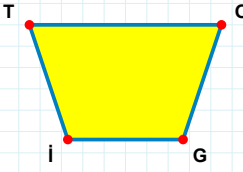
Şekle ait olmayan kenar/kenarları işaretleyelim.

- ☐ GÖ kenarı  
☐ CĞ kenarı  
☐ GŞ kenarı



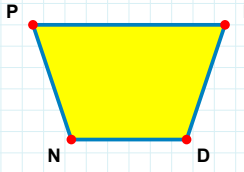
Şekle ait olmayan kenar/kenarları işaretleyelim.

- ☐ SZ kenarı  
☐ ZP kenarı  
☐ TP kenarı



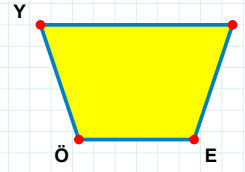
Şekle ait olmayan kenar/kenarları işaretleyelim.

- ☐ TG kenarı  
☐ OG kenarı  
☐ TO kenarı



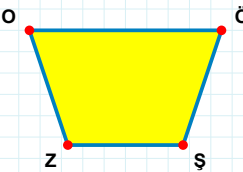
Şekle ait olmayan kenar/kenarları işaretleyelim.

- ☐ İN kenarı  
☐ NP kenarı  
☐ PD kenarı



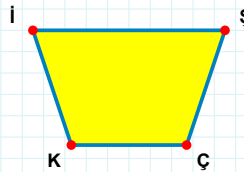
Şekle ait olmayan kenar/kenarları işaretleyelim.

- ☐ ÇÖ kenarı  
☐ YE kenarı  
☐ ÇE kenarı



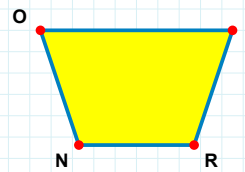
Şekle ait olmayan kenar/kenarları işaretleyelim.

- ☐ ŞZ kenarı  
☐ OŞ kenarı  
☐ ÖZ kenarı



Şekle ait olmayan kenar/kenarları işaretleyelim.

- ☐ İÇ kenarı  
☐ ŞK kenarı  
☐ İŞ kenarı



Şekle ait olmayan kenar/kenarları işaretleyelim.

- ☐ EN kenarı  
☐ ER kenarı  
☐ OE kenarı

**SORU:** Aşağıdaki şekillerde verilen kenarlardan şekle ait olmayanı bulunuz.

Şekle ait olmayan kenar/kenarları işaretleyelim.

☐ DÖ kenarı

☐ ÖŞ kenarı

☐ ŞD kenarı

Şekle ait olmayan kenar/kenarları işaretleyelim.

☐ GD kenarı

☐ GI kenarı

☐ JG kenarı

Şekle ait olmayan kenar/kenarları işaretleyelim.

☐ ÇT kenarı

☐ ÖH kenarı

☐ TÖ kenarı

Şekle ait olmayan kenar/kenarları işaretleyelim.

☐ ÖH kenarı

☐ AY kenarı

☐ YH kenarı

Şekle ait olmayan kenar/kenarları işaretleyelim.

☐ ŞO kenarı

☐ OM kenarı

☐ MŞ kenarı

Şekle ait olmayan kenar/kenarları işaretleyelim.

☐ EŞ kenarı

☐ ŞR kenarı

☐ RE kenarı

Şekle ait olmayan kenar/kenarları işaretleyelim.

☐ DZ kenarı

☐ SR kenarı

☐ ZR kenarı

Şekle ait olmayan kenar/kenarları işaretleyelim.

☐ İŞ kenarı

☐ İÖ kenarı

☐ ÖZ kenarı

Şekle ait olmayan kenar/kenarları işaretleyelim.

☐ ÖN kenarı

☐ ÇN kenarı

☐ NC kenarı

Şekle ait olmayan kenar/kenarları işaretleyelim.

☐ DI kenarı

☐ DM kenarı

☐ MF kenarı

Şekle ait olmayan kenar/kenarları işaretleyelim.

☐ PF kenarı

☐ İP kenarı

☐ SP kenarı

Şekle ait olmayan kenar/kenarları işaretleyelim.

☐ İK kenarı

☐ ZK kenarı

☐ Zİ kenarı

SÜREÇ ODAKLI DEĞERLENDİRME ÖLÇEĞİ			
Geliştirilmeli (0-100)	İyi (101-172)	Çok İyi (173-244)	Mükemmel (245-288)
<input type="checkbox"/>	<input type="checkbox"/>	<input type="checkbox"/>	<input type="checkbox"/>

Hazırlayan: .....



Bu bölüme sınıfınızın ilgili kazanıma yönelik genel durumuna ilişkin gözlem ve izlenimlerinizi, öğrencilerinizin bu kazanımla ilgili öğrenme eksikliklerini ve bu eksikliklerin giderilmesi amacıyla yaptığınız/yapmayı planladığınız faaliyetleri not edebilirsiniz.

No	Adı - Soyadı	Toplam Puan	Değerlendirme
1			
2			
3			
4			
5			
6			
7			
8			
9			
10			
11			
12			
13			
14			
15			
16			
17			
18			
19			
20			
21			
22			
23			
24			
25			
26			
27			
28			
29			
30			
31			
32			
33			
34			
35			

Hazırlayan: ..... ..