

SORU: Aşağıdaki şekillerde verilen kenarlardan şekle ait olmayanı bulunuz.

Şekle ait olmayan kenar/kenarları işaretleyelim.

☐ NB kenarı

☐ BA kenarı

☐ AN kenarı

Şekle ait olmayan kenar/kenarları işaretleyelim.

☐ Yi kenarı

☐ Si kenarı

☐ SY kenarı

Şekle ait olmayan kenar/kenarları işaretleyelim.

☐ GA kenarı

☐ ĞÇ kenarı

☐ ÇG kenarı

Şekle ait olmayan kenar/kenarları işaretleyelim.

☐ KÖ kenarı

☐ KL kenarı

☐ LI kenarı

Şekle ait olmayan kenar/kenarları işaretleyelim.

☐ KI kenarı

☐ IU kenarı

☐ DK kenarı

Şekle ait olmayan kenar/kenarları işaretleyelim.

☐ PV kenarı

☐ UP kenarı

☐ PR kenarı

Şekle ait olmayan kenar/kenarları işaretleyelim.

☐ GE kenarı

☐ İĞ kenarı

☐ ĞG kenarı

Şekle ait olmayan kenar/kenarları işaretleyelim.

☐ VU kenarı

☐ ÇU kenarı

☐ İÇ kenarı

Şekle ait olmayan kenar/kenarları işaretleyelim.

☐ TP kenarı

☐ PŞ kenarı

☐ ZP kenarı

Şekle ait olmayan kenar/kenarları işaretleyelim.

☐ RO kenarı

☐ İR kenarı

☐ ER kenarı

Şekle ait olmayan kenar/kenarları işaretleyelim.

☐ Öİ kenarı

☐ ÖÜ kenarı

☐ ÜV kenarı

Şekle ait olmayan kenar/kenarları işaretleyelim.

☐ BL kenarı

☐ İB kenarı

☐ İB kenarı

SORU: Aşağıdaki şekillerde verilen kenarlardan şekle ait olmayanı bulunuz.

Şekle ait olmayan kenar/kenarları işaretleyelim.

☐ Oİ kenarı

☐ İL kenarı

☐ OV kenarı

Şekle ait olmayan kenar/kenarları işaretleyelim.

☐ SJ kenarı

☐ JB kenarı

☐ SÜ kenarı

Şekle ait olmayan kenar/kenarları işaretleyelim.

☐ EĞ kenarı

☐ IC kenarı

☐ ĞC kenarı

Şekle ait olmayan kenar/kenarları işaretleyelim.

☐ LC kenarı

☐ EC kenarı

☐ FL kenarı

Şekle ait olmayan kenar/kenarları işaretleyelim.

☐ JU kenarı

☐ JP kenarı

☐ UH kenarı

Şekle ait olmayan kenar/kenarları işaretleyelim.

☐ FN kenarı

☐ ĞN kenarı

☐ FL kenarı

Şekle ait olmayan kenar/kenarları işaretleyelim.

☐ CS kenarı

☐ ÇS kenarı

☐ PÇ kenarı

Şekle ait olmayan kenar/kenarları işaretleyelim.

☐ BO kenarı

☐ CO kenarı

☐ AB kenarı

Şekle ait olmayan kenar/kenarları işaretleyelim.

☐ İK kenarı

☐ EK kenarı

☐ ÖE kenarı

Şekle ait olmayan kenar/kenarları işaretleyelim.

☐ DM kenarı

☐ JD kenarı

☐ JC kenarı

Şekle ait olmayan kenar/kenarları işaretleyelim.

☐ HP kenarı

☐ HA kenarı

☐ ÜH kenarı


Şekle ait olmayan kenar/kenarları işaretleyelim.

☐ LR kenarı

☐ PL kenarı


☐ RG kenarı

SORU: Aşağıdaki şekillerde verilen kenarlardan şekle ait olmayanı bulunuz.




Şekle ait olmayan kenar/kenarları işaretleyelim.

- ☐ CR kenarı
☐ RV kenarı
☐ VC kenarı




Şekle ait olmayan kenar/kenarları işaretleyelim.

- ☐ Bİ kenarı
☐ İL kenarı
☐ KL kenarı




Şekle ait olmayan kenar/kenarları işaretleyelim.

- ☐ İU kenarı
☐ UT kenarı
☐ UG kenarı




Şekle ait olmayan kenar/kenarları işaretleyelim.

- ☐ ÖÜ kenarı
☐ DE kenarı
☐ ÜD kenarı




Şekle ait olmayan kenar/kenarları işaretleyelim.

- ☐ CF kenarı
☐ YT kenarı
☐ FY kenarı




Şekle ait olmayan kenar/kenarları işaretleyelim.

- ☐ LŞ kenarı
☐ ÇŞ kenarı
☐ AÇ kenarı




Şekle ait olmayan kenar/kenarları işaretleyelim.

- ☐ ŞH kenarı
☐ LH kenarı
☐ LŞ kenarı



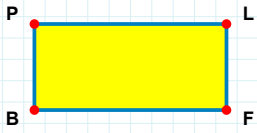
Şekle ait olmayan kenar/kenarları işaretleyelim.

- ☐ ZL kenarı
☐ ZŞ kenarı
☐ MŞ kenarı




Şekle ait olmayan kenar/kenarları işaretleyelim.

- ☐ SN kenarı
☐ ST kenarı
☐ JN kenarı



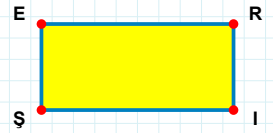
Şekle ait olmayan kenar/kenarları işaretleyelim.

- ☐ FB kenarı
☐ PL kenarı
☐ PF kenarı



Şekle ait olmayan kenar/kenarları işaretleyelim.


- ☐ UB kenarı
☐ UI kenarı
☐ Yİ kenarı



Şekle ait olmayan kenar/kenarları işaretleyelim.


- ☐ Rİ kenarı
☐ ER kenarı
☐ RŞ kenarı

SORU: Aşağıdaki şekillerde verilen kenarlardan şekle ait olmayanı bulunuz.




Şekle ait olmayan kenar/kenarları işaretleyelim.

- ☐ Cİ kenarı
☐ İL kenarı
☐ Nİ kenarı




Şekle ait olmayan kenar/kenarları işaretleyelim.

- ☐ ĞZ kenarı
☐ ZF kenarı
☐ ZD kenarı



Şekle ait olmayan kenar/kenarları işaretleyelim.

- ☐ DT kenarı
☐ ÖD kenarı
☐ KÖ kenarı




Şekle ait olmayan kenar/kenarları işaretleyelim.

- ☐ FÜ kenarı
☐ ÜR kenarı
☐ RF kenarı




Şekle ait olmayan kenar/kenarları işaretleyelim.

- ☐ AU kenarı
☐ KP kenarı
☐ KU kenarı




Şekle ait olmayan kenar/kenarları işaretleyelim.

- ☐ PŞ kenarı
☐ HŞ kenarı
☐ ÜP kenarı




Şekle ait olmayan kenar/kenarları işaretleyelim.

- ☐ TŞ kenarı
☐ İH kenarı
☐ HŞ kenarı




Şekle ait olmayan kenar/kenarları işaretleyelim.

- ☐ VP kenarı
☐ OH kenarı
☐ HV kenarı




Şekle ait olmayan kenar/kenarları işaretleyelim.

- ☐ İS kenarı
☐ KI kenarı
☐ KS kenarı



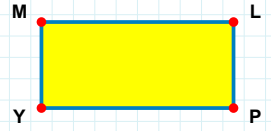
Şekle ait olmayan kenar/kenarları işaretleyelim.

- ☐ GP kenarı
☐ JP kenarı
☐ JN kenarı



Şekle ait olmayan kenar/kenarları işaretleyelim.

- ☐ EY kenarı
☐ FE kenarı
☐ EÖ kenarı



Şekle ait olmayan kenar/kenarları işaretleyelim.

- ☐ LP kenarı
☐ LY kenarı
☐ MP kenarı

SORU: Aşağıdaki şekillerde verilen kenarlardan şekle ait olmayanı bulunuz.

Şekle ait olmayan kenar/kenarları işaretleyelim.

☐ GJ kenarı
☐ GI kenarı
☐ IO kenarı

Şekle ait olmayan kenar/kenarları işaretleyelim.

☐ SO kenarı
☐ GS kenarı
☐ GH kenarı

Şekle ait olmayan kenar/kenarları işaretleyelim.

☐ HS kenarı
☐ SP kenarı
☐ HP kenarı

Şekle ait olmayan kenar/kenarları işaretleyelim.

☐ GP kenarı
☐ GV kenarı
☐ PV kenarı

Şekle ait olmayan kenar/kenarları işaretleyelim.

☐ GO kenarı
☐ AO kenarı
☐ AÜ kenarı

Şekle ait olmayan kenar/kenarları işaretleyelim.

☐ EF kenarı
☐ KE kenarı
☐ KR kenarı

Şekle ait olmayan kenar/kenarları işaretleyelim.

☐ SŞ kenarı
☐ SP kenarı
☐ ŞP kenarı

Şekle ait olmayan kenar/kenarları işaretleyelim.

☐ EM kenarı
☐ EB kenarı
☐ MV kenarı

Şekle ait olmayan kenar/kenarları işaretleyelim.

☐ HR kenarı
☐ RJ kenarı
☐ RN kenarı

Şekle ait olmayan kenar/kenarları işaretleyelim.

☐ JR kenarı
☐ RG kenarı
☐ VG kenarı

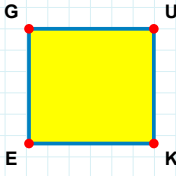
Şekle ait olmayan kenar/kenarları işaretleyelim.

☐ IS kenarı
☐ ŞI kenarı
☐ FI kenarı

Şekle ait olmayan kenar/kenarları işaretleyelim.

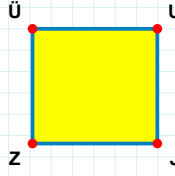
☐ GO kenarı
☐ ÇC kenarı
☐ ÇO kenarı

SORU: Aşağıdaki şekillerde verilen kenarlardan şekle ait olmayanı bulunuz.



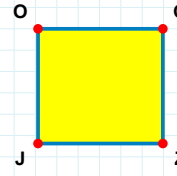
Şekle ait olmayan kenar/kenarları işaretleyelim.

- ☐ UE kenarı
☐ UK kenarı
☐ EG kenarı



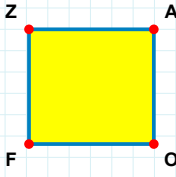
Şekle ait olmayan kenar/kenarları işaretleyelim.

- ☐ ÜU kenarı
☐ UZ kenarı
☐ ÜJ kenarı



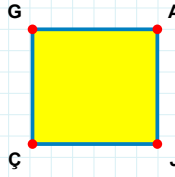
Şekle ait olmayan kenar/kenarları işaretleyelim.

- ☐ ĞZ kenarı
☐ JO kenarı
☐ ĞJ kenarı



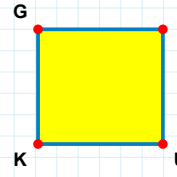
Şekle ait olmayan kenar/kenarları işaretleyelim.

- ☐ AF kenarı
☐ OF kenarı
☐ FZ kenarı



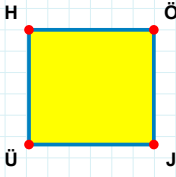
Şekle ait olmayan kenar/kenarları işaretleyelim.

- ☐ ÇG kenarı
☐ GA kenarı
☐ GJ kenarı



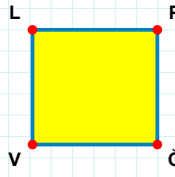
Şekle ait olmayan kenar/kenarları işaretleyelim.

- ☐ GU kenarı
☐ IK kenarı
☐ UK kenarı



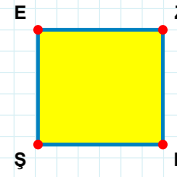
Şekle ait olmayan kenar/kenarları işaretleyelim.

- ☐ HÖ kenarı
☐ HJ kenarı
☐ ÖÜ kenarı



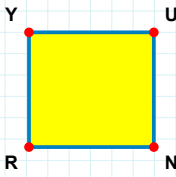
Şekle ait olmayan kenar/kenarları işaretleyelim.

- ☐ VL kenarı
☐ LĞ kenarı
☐ PV kenarı



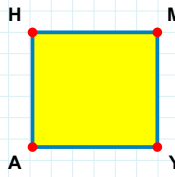
Şekle ait olmayan kenar/kenarları işaretleyelim.

- ☐ ED kenarı
☐ ZŞ kenarı
☐ EZ kenarı



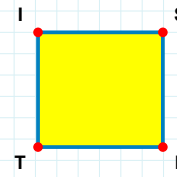
Şekle ait olmayan kenar/kenarları işaretleyelim.

- ☐ YU kenarı
☐ UR kenarı
☐ YN kenarı



Şekle ait olmayan kenar/kenarları işaretleyelim.

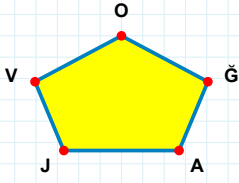
- ☐ HY kenarı
☐ HM kenarı
☐ MA kenarı



Şekle ait olmayan kenar/kenarları işaretleyelim.

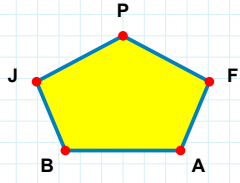
- ☐ IF kenarı
☐ ST kenarı
☐ FT kenarı

SORU: Aşağıdaki şekillerde verilen kenarlardan şekle ait olmayanı bulunuz.



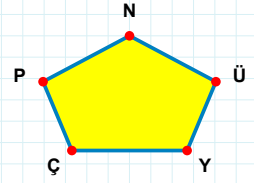
Şekle ait olmayan kenar/kenarları işaretleyelim.

- ☐ JA kenarı
☐ VA kenarı
☐ OJ kenarı



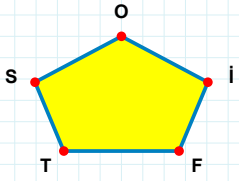
Şekle ait olmayan kenar/kenarları işaretleyelim.

- ☐ JA kenarı
☐ JF kenarı
☐ PA kenarı



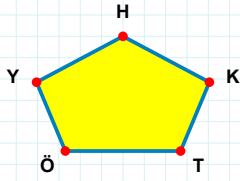
Şekle ait olmayan kenar/kenarları işaretleyelim.

- ☐ YÜ kenarı
☐ PÜ kenarı
☐ PY kenarı



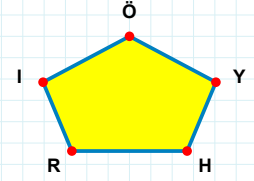
Şekle ait olmayan kenar/kenarları işaretleyelim.

- ☐ OS kenarı
☐ ST kenarı
☐ TI kenarı



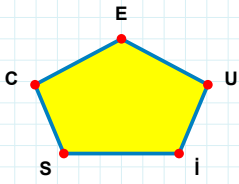
Şekle ait olmayan kenar/kenarları işaretleyelim.

- ☐ HÖ kenarı
☐ KH kenarı
☐ HT kenarı



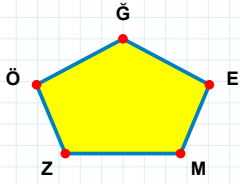
Şekle ait olmayan kenar/kenarları işaretleyelim.

- ☐ IY kenarı
☐ YÖ kenarı
☐ HY kenarı



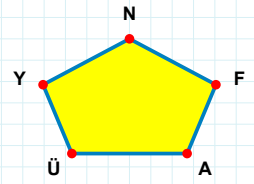
Şekle ait olmayan kenar/kenarları işaretleyelim.

- ☐ UE kenarı
☐ EI kenarı
☐ SU kenarı



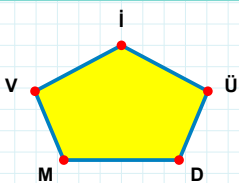
Şekle ait olmayan kenar/kenarları işaretleyelim.

- ☐ ĞM kenarı
☐ ÖM kenarı
☐ ZE kenarı



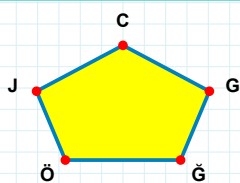
Şekle ait olmayan kenar/kenarları işaretleyelim.

- ☐ NÜ kenarı
☐ AF kenarı
☐ YF kenarı



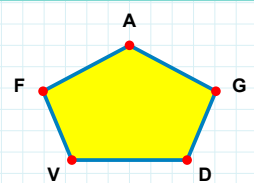
Şekle ait olmayan kenar/kenarları işaretleyelim.

- ☐ Üİ kenarı
☐ VÜ kenarı
☐ DÜ kenarı



Şekle ait olmayan kenar/kenarları işaretleyelim.

- ☐ ĞĞ kenarı
☐ CĞ kenarı
☐ ÖĞ kenarı



Şekle ait olmayan kenar/kenarları işaretleyelim.

- ☐ AV kenarı
☐ GA kenarı
☐ FG kenarı

SORU: Aşağıdaki şekillerde verilen kenarlardan şekle ait olmayanı bulunuz.

Şekle ait olmayan kenar/kenarları işaretleyelim.

☐ CÖ kenarı

☐ CU kenarı

☐ ÖV kenarı

Şekle ait olmayan kenar/kenarları işaretleyelim.

☐ ZU kenarı

☐ UI kenarı

☐ Zİ kenarı

Şekle ait olmayan kenar/kenarları işaretleyelim.

☐ DI kenarı

☐ DY kenarı

☐ ŞD kenarı

Şekle ait olmayan kenar/kenarları işaretleyelim.

☐ HI kenarı

☐ PK kenarı

☐ KĞ kenarı

Şekle ait olmayan kenar/kenarları işaretleyelim.

☐ OJ kenarı

☐ BO kenarı

☐ ÜB kenarı

Şekle ait olmayan kenar/kenarları işaretleyelim.

☐ MB kenarı

☐ BO kenarı

☐ NB kenarı

Şekle ait olmayan kenar/kenarları işaretleyelim.

☐ ÜÖ kenarı

☐ ÜS kenarı

☐ ÖS kenarı

Şekle ait olmayan kenar/kenarları işaretleyelim.

☐ İÖ kenarı

☐ AI kenarı

☐ ÜÖ kenarı

Şekle ait olmayan kenar/kenarları işaretleyelim.

☐ DL kenarı

☐ MĞ kenarı

☐ LĞ kenarı

Şekle ait olmayan kenar/kenarları işaretleyelim.

☐ TĞ kenarı

☐ VT kenarı

☐ DT kenarı

Şekle ait olmayan kenar/kenarları işaretleyelim.

☐ JK kenarı

☐ DJ kenarı

☐ KV kenarı

Şekle ait olmayan kenar/kenarları işaretleyelim.

☐ CL kenarı

☐ KL kenarı

☐ LÜ kenarı

SORU: Aşağıdaki şekillerde verilen kenarlardan şekle ait olmayanı bulunuz.

Şekle ait olmayan kenar/kenarları işaretleyelim.

- ☐ Öİ kenarı
- ☐ ŞH kenarı
- ☐ DŞ kenarı

Şekle ait olmayan kenar/kenarları işaretleyelim.

- ☐ BR kenarı
- ☐ UR kenarı
- ☐ MÖ kenarı

Şekle ait olmayan kenar/kenarları işaretleyelim.

- ☐ İU kenarı
- ☐ NU kenarı
- ☐ ZĞ kenarı

Şekle ait olmayan kenar/kenarları işaretleyelim.

- ☐ FN kenarı
- ☐ FÖ kenarı
- ☐ ÇY kenarı

Şekle ait olmayan kenar/kenarları işaretleyelim.

- ☐ YH kenarı
- ☐ CH kenarı
- ☐ YC kenarı

Şekle ait olmayan kenar/kenarları işaretleyelim.

- ☐ YĞ kenarı
- ☐ YÜ kenarı
- ☐ AĞ kenarı

Şekle ait olmayan kenar/kenarları işaretleyelim.

- ☐ MP kenarı
- ☐ LP kenarı
- ☐ ML kenarı

Şekle ait olmayan kenar/kenarları işaretleyelim.

- ☐ LÖ kenarı
- ☐ NL kenarı
- ☐ İÖ kenarı

Şekle ait olmayan kenar/kenarları işaretleyelim.

- ☐ ZR kenarı
- ☐ ZD kenarı
- ☐ İD kenarı

Şekle ait olmayan kenar/kenarları işaretleyelim.

- ☐ ĞF kenarı
- ☐ AĞ kenarı
- ☐ MF kenarı

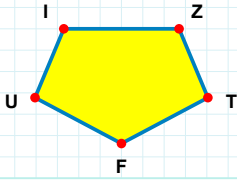
Şekle ait olmayan kenar/kenarları işaretleyelim.

- ☐ YF kenarı
- ☐ YB kenarı
- ☐ KD kenarı

Şekle ait olmayan kenar/kenarları işaretleyelim.

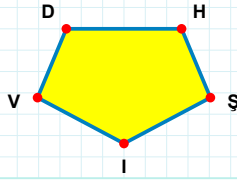
- ☐ EO kenarı
- ☐ EB kenarı
- ☐ ÜO kenarı

SORU: Aşağıdaki şekillerde verilen kenarlardan şekle ait olmayanı bulunuz.



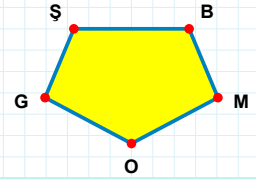
Şekle ait olmayan kenar/kenarları işaretleyelim.

- ☐ FU kenarı
☐ IT kenarı
☐ ZF kenarı



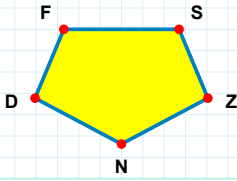
Şekle ait olmayan kenar/kenarları işaretleyelim.

- ☐ DŞ kenarı
☐ ŞI kenarı
☐ VD kenarı



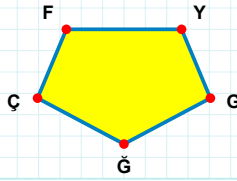
Şekle ait olmayan kenar/kenarları işaretleyelim.

- ☐ BO kenarı
☐ MO kenarı
☐ ŞM kenarı



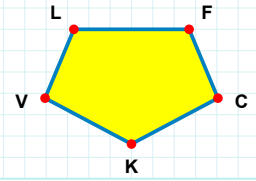
Şekle ait olmayan kenar/kenarları işaretleyelim.

- ☐ DF kenarı
☐ SZ kenarı
☐ FZ kenarı



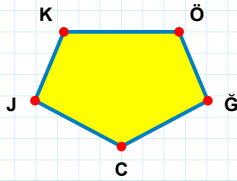
Şekle ait olmayan kenar/kenarları işaretleyelim.

- ☐ YG kenarı
☐ FG kenarı
☐ GÇ kenarı



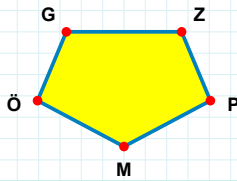
Şekle ait olmayan kenar/kenarları işaretleyelim.

- ☐ VL kenarı
☐ KV kenarı
☐ FK kenarı



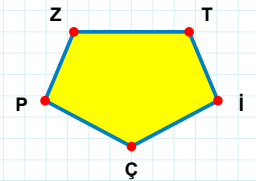
Şekle ait olmayan kenar/kenarları işaretleyelim.

- ☐ CJ kenarı
☐ ÖJ kenarı
☐ KÖ kenarı



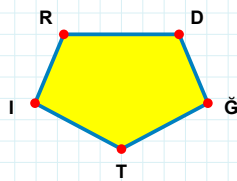
Şekle ait olmayan kenar/kenarları işaretleyelim.

- ☐ GZ kenarı
☐ GP kenarı
☐ ÖG kenarı



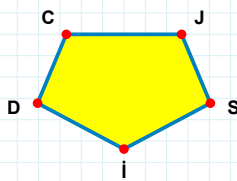
Şekle ait olmayan kenar/kenarları işaretleyelim.

- ☐ ZÇ kenarı
☐ PZ kenarı
☐ İP kenarı



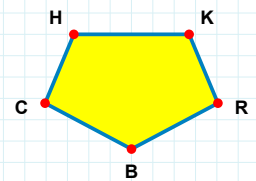
Şekle ait olmayan kenar/kenarları işaretleyelim.

- ☐ IR kenarı
☐ RT kenarı
☐ DT kenarı



Şekle ait olmayan kenar/kenarları işaretleyelim.

- ☐ Jİ kenarı
☐ CS kenarı
☐ SD kenarı



Şekle ait olmayan kenar/kenarları işaretleyelim.

- ☐ HK kenarı
☐ KR kenarı
☐ KB kenarı

SORU: Aşağıdaki şekillerde verilen kenarlardan şekle ait olmayanı bulunuz.

Şekle ait olmayan kenar/kenarları işaretleyelim.

☐ RI kenarı
☐ IY kenarı
☐ GR kenarı

Şekle ait olmayan kenar/kenarları işaretleyelim.

☐ PF kenarı
☐ ŞT kenarı
☐ ŞF kenarı

Şekle ait olmayan kenar/kenarları işaretleyelim.

☐ PY kenarı
☐ İC kenarı
☐ KP kenarı

Şekle ait olmayan kenar/kenarları işaretleyelim.

☐ FN kenarı
☐ CJ kenarı
☐ VF kenarı

Şekle ait olmayan kenar/kenarları işaretleyelim.

☐ KI kenarı
☐ İU kenarı
☐ İM kenarı

Şekle ait olmayan kenar/kenarları işaretleyelim.

☐ GP kenarı
☐ YÇ kenarı
☐ EÇ kenarı

Şekle ait olmayan kenar/kenarları işaretleyelim.

☐ KJ kenarı
☐ ÇK kenarı
☐ JE kenarı

Şekle ait olmayan kenar/kenarları işaretleyelim.

☐ ÜG kenarı
☐ ÜK kenarı
☐ CK kenarı

Şekle ait olmayan kenar/kenarları işaretleyelim.

☐ İJ kenarı
☐ JV kenarı
☐ JZ kenarı

Şekle ait olmayan kenar/kenarları işaretleyelim.

☐ FM kenarı
☐ ĞF kenarı
☐ CĞ kenarı

Şekle ait olmayan kenar/kenarları işaretleyelim.

☐ İP kenarı
☐ Öİ kenarı
☐ YÖ kenarı

Şekle ait olmayan kenar/kenarları işaretleyelim.

☐ ŞF kenarı
☐ GL kenarı
☐ ĞP kenarı

SORU: Aşağıdaki şekillerde verilen kenarlardan şekle ait olmayanı bulunuz.

Şekle ait olmayan kenar/kenarları işaretleyelim.

- ☐ IM kenarı
- ☐ ÖL kenarı
- ☐ ÖU kenarı

Şekle ait olmayan kenar/kenarları işaretleyelim.

- ☐ PB kenarı
- ☐ FJ kenarı
- ☐ PJ kenarı

Şekle ait olmayan kenar/kenarları işaretleyelim.

- ☐ BG kenarı
- ☐ YK kenarı
- ☐ BŞ kenarı

Şekle ait olmayan kenar/kenarları işaretleyelim.

- ☐ ÇB kenarı
- ☐ BI kenarı
- ☐ HI kenarı

Şekle ait olmayan kenar/kenarları işaretleyelim.

- ☐ KZ kenarı
- ☐ OÖ kenarı
- ☐ OA kenarı

Şekle ait olmayan kenar/kenarları işaretleyelim.

- ☐ JÇ kenarı
- ☐ AU kenarı
- ☐ ÇB kenarı

Şekle ait olmayan kenar/kenarları işaretleyelim.

- ☐ PD kenarı
- ☐ SP kenarı
- ☐ PG kenarı

Şekle ait olmayan kenar/kenarları işaretleyelim.

- ☐ ST kenarı
- ☐ RH kenarı
- ☐ TH kenarı

Şekle ait olmayan kenar/kenarları işaretleyelim.

- ☐ JR kenarı
- ☐ RC kenarı
- ☐ ĞS kenarı

Şekle ait olmayan kenar/kenarları işaretleyelim.

- ☐ KS kenarı
- ☐ ZY kenarı
- ☐ MK kenarı

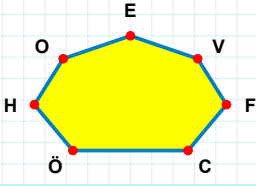
Şekle ait olmayan kenar/kenarları işaretleyelim.

- ☐ HÜ kenarı
- ☐ PÇ kenarı
- ☐ PU kenarı

Şekle ait olmayan kenar/kenarları işaretleyelim.

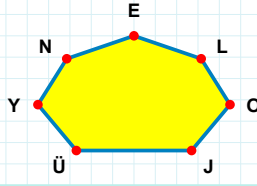
- ☐ BĞ kenarı
- ☐ ĞH kenarı
- ☐ BS kenarı

SORU: Aşağıdaki şekillerde verilen kenarlardan şekle ait olmayanı bulunuz.



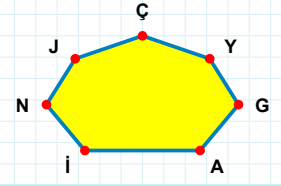
Şekle ait olmayan kenar/kenarları işaretleyelim.

- ☐ CV kenarı
☐ ÖC kenarı
☐ OC kenarı



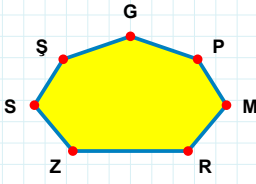
Şekle ait olmayan kenar/kenarları işaretleyelim.

- ☐ NO kenarı
☐ NÜ kenarı
☐ ÜL kenarı



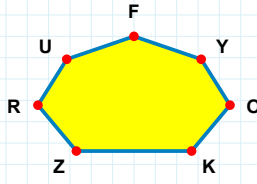
Şekle ait olmayan kenar/kenarları işaretleyelim.

- ☐ ÇJ kenarı
☐ AG kenarı
☐ ÇG kenarı



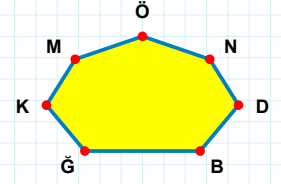
Şekle ait olmayan kenar/kenarları işaretleyelim.

- ☐ SP kenarı
☐ MP kenarı
☐ GR kenarı



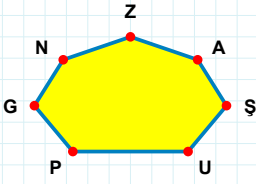
Şekle ait olmayan kenar/kenarları işaretleyelim.

- ☐ FR kenarı
☐ KO kenarı
☐ RZ kenarı



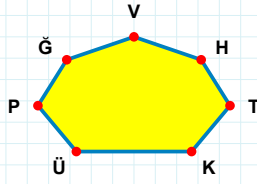
Şekle ait olmayan kenar/kenarları işaretleyelim.

- ☐ MĞ kenarı
☐ KN kenarı
☐ BN kenarı



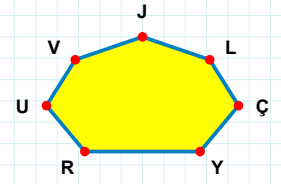
Şekle ait olmayan kenar/kenarları işaretleyelim.

- ☐ UA kenarı
☐ ZŞ kenarı
☐ ŞA kenarı



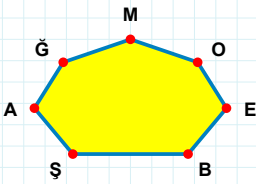
Şekle ait olmayan kenar/kenarları işaretleyelim.

- ☐ PT kenarı
☐ KT kenarı
☐ ÜT kenarı



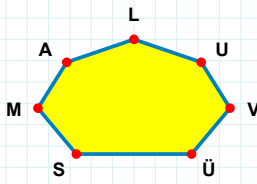
Şekle ait olmayan kenar/kenarları işaretleyelim.

- ☐ UY kenarı
☐ JV kenarı
☐ UL kenarı



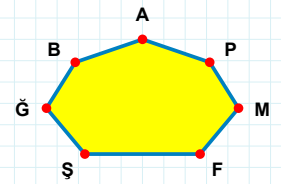
Şekle ait olmayan kenar/kenarları işaretleyelim.

- ☐ MA kenarı
☐ AB kenarı
☐ OM kenarı



Şekle ait olmayan kenar/kenarları işaretleyelim.

- ☐ LÜ kenarı
☐ AM kenarı
☐ SÜ kenarı



Şekle ait olmayan kenar/kenarları işaretleyelim.

- ☐ AM kenarı
☐ MP kenarı
☐ AB kenarı

SORU: Aşağıdaki şekillerde verilen kenarlardan şekle ait olmayanı bulunuz.

Şekle ait olmayan kenar/kenarları işaretleyelim.

☐ AÇ kenarı

☐ NÜ kenarı

☐ ÜK kenarı

Şekle ait olmayan kenar/kenarları işaretleyelim.

☐ EK kenarı

☐ ER kenarı

☐ KÇ kenarı

Şekle ait olmayan kenar/kenarları işaretleyelim.

☐ SF kenarı

☐ GH kenarı

☐ HI kenarı

Şekle ait olmayan kenar/kenarları işaretleyelim.

☐ BÇ kenarı

☐ TÇ kenarı

☐ TB kenarı

Şekle ait olmayan kenar/kenarları işaretleyelim.

☐ ÖD kenarı

☐ MB kenarı

☐ BL kenarı

Şekle ait olmayan kenar/kenarları işaretleyelim.

☐ İI kenarı

☐ ŞD kenarı

☐ RI kenarı

Şekle ait olmayan kenar/kenarları işaretleyelim.

☐ RJ kenarı

☐ TB kenarı

☐ ŞJ kenarı

Şekle ait olmayan kenar/kenarları işaretleyelim.

☐ EG kenarı

☐ EM kenarı

☐ YB kenarı

Şekle ait olmayan kenar/kenarları işaretleyelim.

☐ DV kenarı

☐ UD kenarı

☐ VÖ kenarı

Şekle ait olmayan kenar/kenarları işaretleyelim.

☐ GK kenarı

☐ ĞV kenarı

☐ UB kenarı

Şekle ait olmayan kenar/kenarları işaretleyelim.

☐ OA kenarı

☐ GE kenarı

☐ GŞ kenarı

Şekle ait olmayan kenar/kenarları işaretleyelim.

☐ MF kenarı

☐ MÜ kenarı

☐ LÜ kenarı

SORU: Aşağıdaki şekillerde verilen kenarlardan şekle ait olmayanı bulunuz.

Şekle ait olmayan kenar/kenarları işaretleyelim.

- ☐ EB kenarı
- ☐ LÇ kenarı
- ☐ DB kenarı

Şekle ait olmayan kenar/kenarları işaretleyelim.

- ☐ MI kenarı
- ☐ BÖ kenarı
- ☐ ÖF kenarı

Şekle ait olmayan kenar/kenarları işaretleyelim.

- ☐ JZ kenarı
- ☐ ÜÇ kenarı
- ☐ FO kenarı

Şekle ait olmayan kenar/kenarları işaretleyelim.

- ☐ EK kenarı
- ☐ DN kenarı
- ☐ GK kenarı

Şekle ait olmayan kenar/kenarları işaretleyelim.

- ☐ GI kenarı
- ☐ GT kenarı
- ☐ İD kenarı

Şekle ait olmayan kenar/kenarları işaretleyelim.

- ☐ AY kenarı
- ☐ İK kenarı
- ☐ LŞ kenarı

Şekle ait olmayan kenar/kenarları işaretleyelim.

- ☐ SK kenarı
- ☐ ÖK kenarı
- ☐ ZN kenarı

Şekle ait olmayan kenar/kenarları işaretleyelim.

- ☐ ŞÜ kenarı
- ☐ PÖ kenarı
- ☐ ŞP kenarı

Şekle ait olmayan kenar/kenarları işaretleyelim.

- ☐ KM kenarı
- ☐ BU kenarı
- ☐ ŞÇ kenarı

Şekle ait olmayan kenar/kenarları işaretleyelim.

- ☐ AT kenarı
- ☐ MT kenarı
- ☐ ŞA kenarı

Şekle ait olmayan kenar/kenarları işaretleyelim.

- ☐ İN kenarı
- ☐ GR kenarı
- ☐ NG kenarı

Şekle ait olmayan kenar/kenarları işaretleyelim.

- ☐ GS kenarı
- ☐ SO kenarı
- ☐ GR kenarı

SORU: Aşağıdaki şekillerde verilen kenarlardan şekle ait olmayanı bulunuz.

Şekle ait olmayan kenar/kenarları işaretleyelim.

☐ ML kenarı
☐ FI kenarı
☐ EI kenarı

Şekle ait olmayan kenar/kenarları işaretleyelim.

☐ YÇ kenarı
☐ HI kenarı
☐ OÇ kenarı

Şekle ait olmayan kenar/kenarları işaretleyelim.

☐ HÜ kenarı
☐ ÜM kenarı
☐ LC kenarı

Şekle ait olmayan kenar/kenarları işaretleyelim.

☐ EI kenarı
☐ HE kenarı
☐ DI kenarı

Şekle ait olmayan kenar/kenarları işaretleyelim.

☐ ÖN kenarı
☐ ÖZ kenarı
☐ ÇZ kenarı

Şekle ait olmayan kenar/kenarları işaretleyelim.

☐ JR kenarı
☐ ÖD kenarı
☐ ZK kenarı

Şekle ait olmayan kenar/kenarları işaretleyelim.

☐ LR kenarı
☐ LD kenarı
☐ IL kenarı

Şekle ait olmayan kenar/kenarları işaretleyelim.

☐ AV kenarı
☐ ÜA kenarı
☐ ÜG kenarı

Şekle ait olmayan kenar/kenarları işaretleyelim.

☐ DY kenarı
☐ ÜK kenarı
☐ TP kenarı

Şekle ait olmayan kenar/kenarları işaretleyelim.

☐ JS kenarı
☐ Şİ kenarı
☐ BK kenarı

Şekle ait olmayan kenar/kenarları işaretleyelim.

☐ EL kenarı
☐ SH kenarı
☐ AM kenarı

Şekle ait olmayan kenar/kenarları işaretleyelim.

☐ SO kenarı
☐ ŞÖ kenarı
☐ EV kenarı

SORU: Aşağıdaki şekillerde verilen kenarlardan şekle ait olmayanı bulunuz.

Şekle ait olmayan kenar/kenarları işaretleyelim.

☐ IG kenarı
☐ IY kenarı
☐ GY kenarı

Şekle ait olmayan kenar/kenarları işaretleyelim.

☐ SU kenarı
☐ SE kenarı
☐ Ei kenarı

Şekle ait olmayan kenar/kenarları işaretleyelim.

☐ LP kenarı
☐ PY kenarı
☐ OP kenarı

Şekle ait olmayan kenar/kenarları işaretleyelim.

☐ EŞ kenarı
☐ ŞB kenarı
☐ OB kenarı

Şekle ait olmayan kenar/kenarları işaretleyelim.

☐ CO kenarı
☐ OH kenarı
☐ GC kenarı

Şekle ait olmayan kenar/kenarları işaretleyelim.

☐ LP kenarı
☐ PF kenarı
☐ Li kenarı

Şekle ait olmayan kenar/kenarları işaretleyelim.

☐ ŞU kenarı
☐ UI kenarı
☐ ŞI kenarı

Şekle ait olmayan kenar/kenarları işaretleyelim.

☐ AZ kenarı
☐ HA kenarı
☐ HÜ kenarı

Şekle ait olmayan kenar/kenarları işaretleyelim.

☐ ÇJ kenarı
☐ ÖT kenarı
☐ TJ kenarı

Şekle ait olmayan kenar/kenarları işaretleyelim.

☐ AG kenarı
☐ FÇ kenarı
☐ FA kenarı

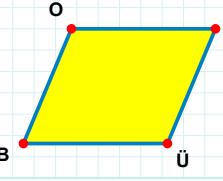
Şekle ait olmayan kenar/kenarları işaretleyelim.

☐ MT kenarı
☐ ÇT kenarı
☐ ÇK kenarı

Şekle ait olmayan kenar/kenarları işaretleyelim.

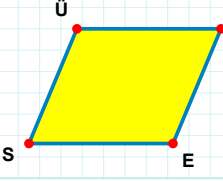
☐ BZ kenarı
☐ Uİ kenarı
☐ İB kenarı

SORU: Aşağıdaki şekillerde verilen kenarlardan şekle ait olmayanı bulunuz.



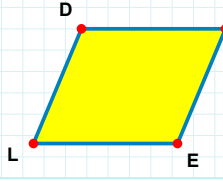
Şekle ait olmayan kenar/kenarları işaretleyelim.

☐ OÜ kenarı
☐ CB kenarı
☐ BO kenarı



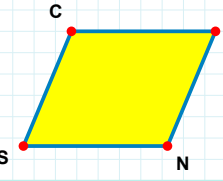
Şekle ait olmayan kenar/kenarları işaretleyelim.

☐ ME kenarı
☐ SÜ kenarı
☐ MS kenarı



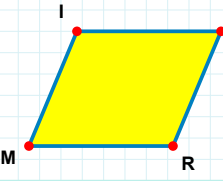
Şekle ait olmayan kenar/kenarları işaretleyelim.

☐ ÇL kenarı
☐ ÇE kenarı
☐ DE kenarı



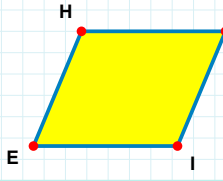
Şekle ait olmayan kenar/kenarları işaretleyelim.

☐ CN kenarı
☐ JS kenarı
☐ CJ kenarı



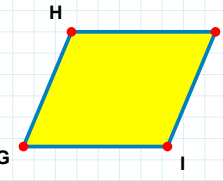
Şekle ait olmayan kenar/kenarları işaretleyelim.

☐ IR kenarı
☐ HM kenarı
☐ MI kenarı



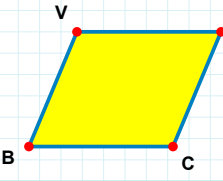
Şekle ait olmayan kenar/kenarları işaretleyelim.

☐ HI kenarı
☐ ÜE kenarı
☐ HÜ kenarı



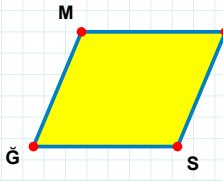
Şekle ait olmayan kenar/kenarları işaretleyelim.

☐ HI kenarı
☐ GH kenarı
☐ FI kenarı



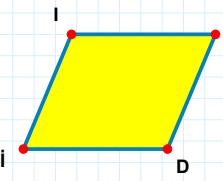
Şekle ait olmayan kenar/kenarları işaretleyelim.

☐ UB kenarı
☐ VC kenarı
☐ BV kenarı



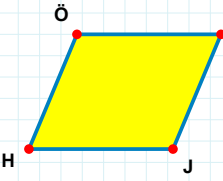
Şekle ait olmayan kenar/kenarları işaretleyelim.

☐ AĞ kenarı
☐ MA kenarı
☐ ĞM kenarı



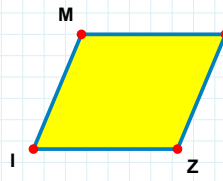
Şekle ait olmayan kenar/kenarları işaretleyelim.

☐ İI kenarı
☐ UD kenarı
☐ ID kenarı



Şekle ait olmayan kenar/kenarları işaretleyelim.

☐ NJ kenarı
☐ ÖJ kenarı
☐ HÖ kenarı



Şekle ait olmayan kenar/kenarları işaretleyelim.

☐ MZ kenarı
☐ CI kenarı
☐ Zİ kenarı

SORU: Aşağıdaki şekillerde verilen kenarlardan şekle ait olmayanı bulunuz.

Şekle ait olmayan kenar/kenarları işaretleyelim.

☐ ÇU kenarı

☐ UK kenarı

☐ UB kenarı

Şekle ait olmayan kenar/kenarları işaretleyelim.

☐ FV kenarı

☐ VÇ kenarı

☐ VH kenarı

Şekle ait olmayan kenar/kenarları işaretleyelim.

☐ YÖ kenarı

☐ ŞÖ kenarı

☐ İŞ kenarı

Şekle ait olmayan kenar/kenarları işaretleyelim.

☐ SM kenarı

☐ MI kenarı

☐ IS kenarı

Şekle ait olmayan kenar/kenarları işaretleyelim.

☐ FN kenarı

☐ FV kenarı

☐ MV kenarı

Şekle ait olmayan kenar/kenarları işaretleyelim.

☐ MB kenarı

☐ NM kenarı

☐ NP kenarı

Şekle ait olmayan kenar/kenarları işaretleyelim.

☐ ÜS kenarı

☐ SF kenarı

☐ FN kenarı

Şekle ait olmayan kenar/kenarları işaretleyelim.

☐ KS kenarı

☐ SP kenarı

☐ KF kenarı

Şekle ait olmayan kenar/kenarları işaretleyelim.

☐ AR kenarı

☐ RO kenarı

☐ BA kenarı

Şekle ait olmayan kenar/kenarları işaretleyelim.

☐ TÖ kenarı

☐ OT kenarı

☐ ON kenarı

Şekle ait olmayan kenar/kenarları işaretleyelim.

☐ NL kenarı

☐ YŞ kenarı

☐ YN kenarı

Şekle ait olmayan kenar/kenarları işaretleyelim.

☐ NŞ kenarı

☐ ON kenarı

☐ CŞ kenarı

SORU: Aşağıdaki şekillerde verilen kenarlardan şekle ait olmayanı bulunuz.

Şekle ait olmayan kenar/kenarları işaretleyelim.

- ☐ OA kenarı
- ☐ OP kenarı
- ☐ RA kenarı

Şekle ait olmayan kenar/kenarları işaretleyelim.

- ☐ ÇU kenarı
- ☐ CÖ kenarı
- ☐ UC kenarı

Şekle ait olmayan kenar/kenarları işaretleyelim.

- ☐ ÜB kenarı
- ☐ ÜN kenarı
- ☐ NB kenarı

Şekle ait olmayan kenar/kenarları işaretleyelim.

- ☐ YZ kenarı
- ☐ AI kenarı
- ☐ AY kenarı

Şekle ait olmayan kenar/kenarları işaretleyelim.

- ☐ OG kenarı
- ☐ OÜ kenarı
- ☐ GÜ kenarı

Şekle ait olmayan kenar/kenarları işaretleyelim.

- ☐ ÇM kenarı
- ☐ RM kenarı
- ☐ ÇR kenarı

Şekle ait olmayan kenar/kenarları işaretleyelim.

- ☐ UD kenarı
- ☐ MU kenarı
- ☐ UB kenarı

Şekle ait olmayan kenar/kenarları işaretleyelim.

- ☐ CZ kenarı
- ☐ CM kenarı
- ☐ NC kenarı

Şekle ait olmayan kenar/kenarları işaretleyelim.

- ☐ AF kenarı
- ☐ SF kenarı
- ☐ OS kenarı

Şekle ait olmayan kenar/kenarları işaretleyelim.

- ☐ ÜA kenarı
- ☐ ÜP kenarı
- ☐ ÖP kenarı

Şekle ait olmayan kenar/kenarları işaretleyelim.

- ☐ NF kenarı
- ☐ OF kenarı
- ☐ JN kenarı

Şekle ait olmayan kenar/kenarları işaretleyelim.

- ☐ ĞG kenarı
- ☐ RG kenarı
- ☐ ĞC kenarı

SORU: Aşağıdaki şekillerde verilen kenarlardan şekle ait olmayanı bulunuz.

Şekle ait olmayan kenar/kenarları işaretleyelim.

☐ IÖ kenarı
☐ IH kenarı
☐ HM kenarı

Şekle ait olmayan kenar/kenarları işaretleyelim.

☐ MY kenarı
☐ PN kenarı
☐ PY kenarı

Şekle ait olmayan kenar/kenarları işaretleyelim.

☐ LT kenarı
☐ Şi kenarı
☐ LŞ kenarı

Şekle ait olmayan kenar/kenarları işaretleyelim.

☐ ŞM kenarı
☐ EĞ kenarı
☐ ŞĞ kenarı

Şekle ait olmayan kenar/kenarları işaretleyelim.

☐ ÇÜ kenarı
☐ ÜZ kenarı
☐ ÖÇ kenarı

Şekle ait olmayan kenar/kenarları işaretleyelim.

☐ VY kenarı
☐ GY kenarı
☐ GJ kenarı

Şekle ait olmayan kenar/kenarları işaretleyelim.

☐ CI kenarı
☐ ID kenarı
☐ DC kenarı

Şekle ait olmayan kenar/kenarları işaretleyelim.

☐ İC kenarı
☐ FI kenarı
☐ FZ kenarı

Şekle ait olmayan kenar/kenarları işaretleyelim.

☐ MN kenarı
☐ UN kenarı
☐ CU kenarı

Şekle ait olmayan kenar/kenarları işaretleyelim.

☐ IB kenarı
☐ IA kenarı
☐ BR kenarı

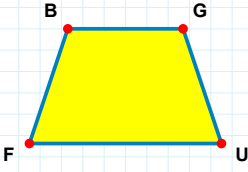
Şekle ait olmayan kenar/kenarları işaretleyelim.

☐ HR kenarı
☐ UL kenarı
☐ LH kenarı

Şekle ait olmayan kenar/kenarları işaretleyelim.

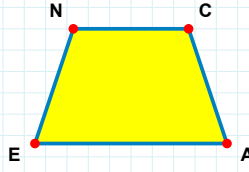
☐ ĞJ kenarı
☐ ÖB kenarı
☐ JB kenarı

SORU: Aşağıdaki şekillerde verilen kenarlardan şekle ait olmayanı bulunuz.



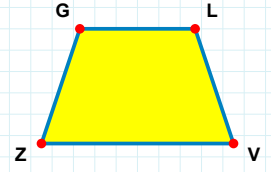
Şekle ait olmayan kenar/kenarları işaretleyelim.

- ☐ GF kenarı
☐ BU kenarı
☐ BG kenarı



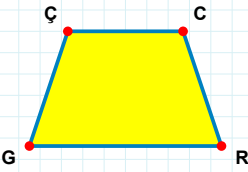
Şekle ait olmayan kenar/kenarları işaretleyelim.

- ☐ AE kenarı
☐ CE kenarı
☐ NA kenarı



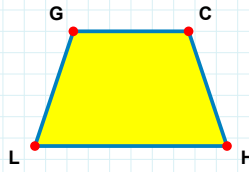
Şekle ait olmayan kenar/kenarları işaretleyelim.

- ☐ LZ kenarı
☐ GV kenarı
☐ LV kenarı



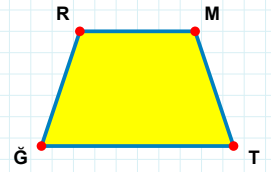
Şekle ait olmayan kenar/kenarları işaretleyelim.

- ☐ CG kenarı
☐ ÇR kenarı
☐ ÇC kenarı



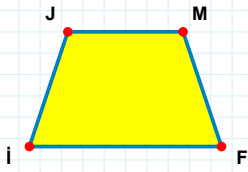
Şekle ait olmayan kenar/kenarları işaretleyelim.

- ☐ CL kenarı
☐ LG kenarı
☐ HL kenarı



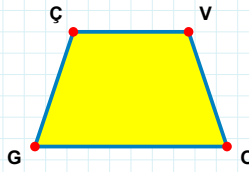
Şekle ait olmayan kenar/kenarları işaretleyelim.

- ☐ RM kenarı
☐ RT kenarı
☐ MT kenarı



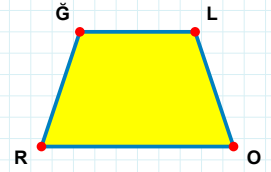
Şekle ait olmayan kenar/kenarları işaretleyelim.

- ☐ JF kenarı
☐ Mİ kenarı
☐ İJ kenarı



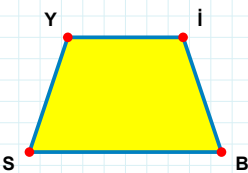
Şekle ait olmayan kenar/kenarları işaretleyelim.

- ☐ ÇO kenarı
☐ VG kenarı
☐ GÇ kenarı



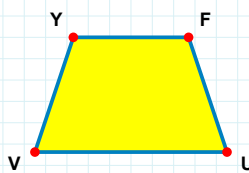
Şekle ait olmayan kenar/kenarları işaretleyelim.

- ☐ ĞO kenarı
☐ ĞL kenarı
☐ LR kenarı



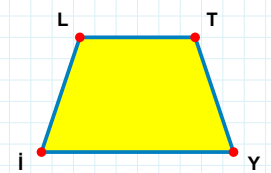
Şekle ait olmayan kenar/kenarları işaretleyelim.

- ☐ SY kenarı
☐ İS kenarı
☐ YB kenarı



Şekle ait olmayan kenar/kenarları işaretleyelim.

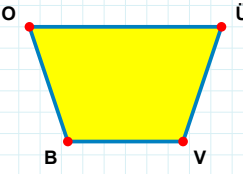
- ☐ YU kenarı
☐ FV kenarı
☐ VY kenarı



Şekle ait olmayan kenar/kenarları işaretleyelim.

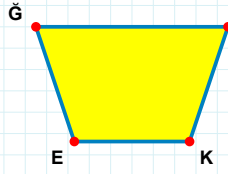
- ☐ LY kenarı
☐ İL kenarı
☐ Tİ kenarı

SORU: Aşağıdaki şekillerde verilen kenarlardan şekle ait olmayanı bulunuz.



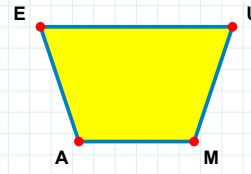
Şekle ait olmayan kenar/kenarları işaretleyelim.

- ☐ ÜV kenarı
☐ OÜ kenarı
☐ OV kenarı



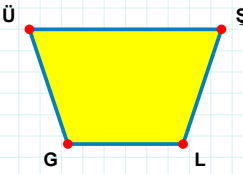
Şekle ait olmayan kenar/kenarları işaretleyelim.

- ☐ EĞ kenarı
☐ ZE kenarı
☐ ĞK kenarı



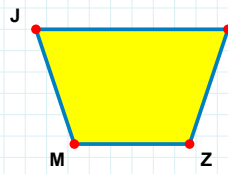
Şekle ait olmayan kenar/kenarları işaretleyelim.

- ☐ UM kenarı
☐ UA kenarı
☐ EM kenarı



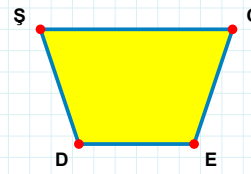
Şekle ait olmayan kenar/kenarları işaretleyelim.

- ☐ ŞG kenarı
☐ ÜL kenarı
☐ LG kenarı



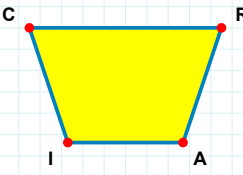
Şekle ait olmayan kenar/kenarları işaretleyelim.

- ☐ ZM kenarı
☐ YM kenarı
☐ JZ kenarı



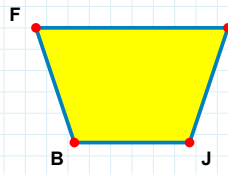
Şekle ait olmayan kenar/kenarları işaretleyelim.

- ☐ ŞC kenarı
☐ ŞE kenarı
☐ CD kenarı



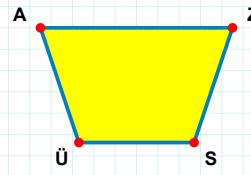
Şekle ait olmayan kenar/kenarları işaretleyelim.

- ☐ RA kenarı
☐ RI kenarı
☐ IC kenarı



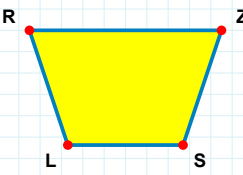
Şekle ait olmayan kenar/kenarları işaretleyelim.

- ☐ UB kenarı
☐ FJ kenarı
☐ UJ kenarı



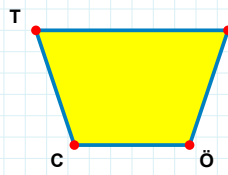
Şekle ait olmayan kenar/kenarları işaretleyelim.

- ☐ AS kenarı
☐ SÜ kenarı
☐ ZÜ kenarı



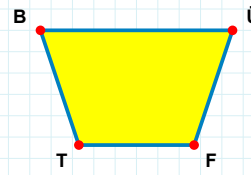
Şekle ait olmayan kenar/kenarları işaretleyelim.

- ☐ ZS kenarı
☐ ZL kenarı
☐ RS kenarı



Şekle ait olmayan kenar/kenarları işaretleyelim.

- ☐ CT kenarı
☐ ŞC kenarı
☐ TÖ kenarı



Şekle ait olmayan kenar/kenarları işaretleyelim.

- ☐ ÜT kenarı
☐ BF kenarı
☐ TB kenarı

SORU: Aşağıdaki şekillerde verilen kenarlardan şekle ait olmayanı bulunuz.

Şekle ait olmayan kenar/kenarları işaretleyelim.

☐ JR kenarı
☐ VR kenarı
☐ DJ kenarı

Şekle ait olmayan kenar/kenarları işaretleyelim.

☐ İS kenarı
☐ TL kenarı
☐ Tİ kenarı

Şekle ait olmayan kenar/kenarları işaretleyelim.

☐ Vİ kenarı
☐ Oİ kenarı
☐ ÖO kenarı

Şekle ait olmayan kenar/kenarları işaretleyelim.

☐ ĞE kenarı
☐ JR kenarı
☐ RĞ kenarı

Şekle ait olmayan kenar/kenarları işaretleyelim.

☐ RN kenarı
☐ RO kenarı
☐ MR kenarı

Şekle ait olmayan kenar/kenarları işaretleyelim.

☐ KP kenarı
☐ KM kenarı
☐ PĞ kenarı

Şekle ait olmayan kenar/kenarları işaretleyelim.

☐ CL kenarı
☐ CM kenarı
☐ OC kenarı

Şekle ait olmayan kenar/kenarları işaretleyelim.

☐ ZA kenarı
☐ BZ kenarı
☐ AB kenarı

Şekle ait olmayan kenar/kenarları işaretleyelim.

☐ MŞ kenarı
☐ LJ kenarı
☐ ŞL kenarı

Şekle ait olmayan kenar/kenarları işaretleyelim.

☐ ŞG kenarı
☐ UD kenarı
☐ GU kenarı

Şekle ait olmayan kenar/kenarları işaretleyelim.

☐ ÇÖ kenarı
☐ KÖ kenarı
☐ HK kenarı

Şekle ait olmayan kenar/kenarları işaretleyelim.

☐ GP kenarı
☐ PĞ kenarı
☐ AG kenarı

SÜREÇ ODAKLI DEĞERLENDİRME ÖLÇEĞİ			
Geliştirilmeli (0-100)	İyi (101-172)	Çok İyi (173-244)	Mükemmel (245-288)
<input type="checkbox"/>	<input type="checkbox"/>	<input type="checkbox"/>	<input type="checkbox"/>

Hazırlayan:

Bu bölüme sınıfınızın ilgili kazanıma yönelik genel durumuna ilişkin gözlem ve izlenimlerinizi, öğrencilerinizin bu kazanımla ilgili öğrenme eksikliklerini ve bu eksikliklerin giderilmesi amacıyla yaptığınız/yapmayı planladığınız faaliyetleri not edebilirsiniz.

No	Adı - Soyadı	Toplam Puan	Değerlendirme
1			
2			
3			
4			
5			
6			
7			
8			
9			
10			
11			
12			
13			
14			
15			
16			
17			
18			
19			
20			
21			
22			
23			
24			
25			
26			
27			
28			
29			
30			
31			
32			
33			
34			
35			

Hazırlayan: